

# МОСК

Подписано цифровой  
подписью: МОСК  
Дата: 2023.01.25 11:51:37  
+03'00'



Частное профессиональное образовательное учреждение  
«Московский областной современный колледж»

УТВЕРЖДАЮ  
Директор МОСК  
А.А. Дарбинян  
«15» декабря 2022 г.



**РАБОЧАЯ ПРОГРАММА**  
учебной дисциплины

**БД.05 МАТЕМАТИКА**

по специальности среднего профессионального образования  
**40.02.02 Правоохранительная деятельность**

Подольск, 2022

Рабочая программа учебной дисциплины **БД.05 Математика** разработана на основе Федерального государственного образовательного стандарта (далее – ФГОС) по специальности среднего профессионального образования (далее – СПО) 40.02.02 Правоохранительная деятельность, утвержденного приказом Министерства образования и науки России №509 от 12.05.2014, зарегистрированного в Министерстве юстиции России 21 августа 2014 г. № 33737 и примерной рабочей программы общеобразовательной дисциплины «**Математика**» для профессиональных образовательных организаций утвержденной на заседании Совета по оценке содержания и качества примерных рабочих программ общеобразовательного и социально-гуманитарного циклов среднего профессионального образования, протокол № 14 от «30» ноября 2022 г..

Организация-разработчик:

Частное профессиональное образовательное учреждение «Московский областной современный колледж» (МОСК)

## **СОДЕРЖАНИЕ**

- 1. ОБЩАЯ ХАРАКТЕРИСТИКА РАБОЧЕЙ ПРОГРАММЫ  
ОБЩЕОБРАЗОВАТЕЛЬНОЙ ДИСЦИПЛИНЫ**
- 2. СТРУКТУРА И СОДЕРЖАНИЕ  
ОБЩЕОБРАЗОВАТЕЛЬНОЙ ДИСЦИПЛИНЫ**
- 3. УСЛОВИЯ РЕАЛИЗАЦИИ ПРОГРАММЫ  
ОБЩЕОБРАЗОВАТЕЛЬНОЙ ДИСЦИПЛИНЫ**
- 4. КОНТРОЛЬ И ОЦЕНКА РЕЗУЛЬТАТОВ ОСВОЕНИЯ  
УЧЕБНОЙ ДИСЦИПЛИНЫ**
- 5. ОСОБЕННОСТИ РЕАЛИЗАЦИИ УЧЕБНОЙ  
ДИСЦИПЛИНЫ ДЛЯ ИНВАЛИДОВ И ЛИЦ С  
ОГРАНИЧЕННЫМИ ВОЗМОЖНОСТЯМИ ЗДОРОВЬЯ**

# 1. ОБЩАЯ ХАРАКТЕРИСТИКА РАБОЧЕЙ ПРОГРАММЫ ОБЩЕОБРАЗОВАТЕЛЬНОЙ ДИСЦИПЛИНЫ «МАТЕМАТИКА»

## 1.1. Место дисциплины в структуре основной профессиональной образовательной программы

Общеобразовательная дисциплина «Математика» является обязательной частью общеобразовательного цикла образовательной программы СПО в соответствии с ФГОС по специальности 40.02.02 Правоохранительная деятельность.

Дисциплина изучается на 1-ом курсе (1 и 2 семестры). Промежуточная аттестация проводится во 2-ом семестре.

## 1.2. Цели и планируемые результаты освоения дисциплины:

### 1.2.1. Цель общеобразовательной дисциплины

Содержание программы общеобразовательной дисциплины «Математика» направлено на достижение результатов ее изучения в соответствии с требованиями ФГОС СОО с учетом профессиональной направленности ФГОС СПО.

### 1.2.2. Планируемые результаты освоения общеобразовательной дисциплины в соответствии с ФГОС СПО и на основе ФГОС СОО

Особое значение дисциплина имеет при формировании и развитии ОК и ПК.

Общие компетенции	Планируемые результаты обучения	
	Общие <sup>1</sup>	Дисциплинарные <sup>2</sup>
ОК 01. Выбирать способы решения задач профессиональной деятельности применительно к различным контекстам	<p>В части трудового воспитания:</p> <ul style="list-style-type: none"> <li>- готовность к труду, осознание ценности мастерства, трудолюбие;</li> <li>- готовность к активной деятельности технологической и социальной направленности, способность инициировать, планировать и самостоятельно выполнять такую деятельность;</li> <li>- интерес к различным сферам профессиональной деятельности,</li> </ul> <p>Овладение универсальными учебными познавательными действиями:</p> <p>а) базовые логические действия:</p> <ul style="list-style-type: none"> <li>- самостоятельно формулировать и актуализировать проблему,</li> </ul>	<ul style="list-style-type: none"> <li>- владеть методами доказательств, алгоритмами решения задач; умение формулировать определения, аксиомы и теоремы, применять их, проводить доказательные рассуждения в ходе решения задач;</li> <li>- уметь оперировать понятиями: степень числа, логарифм числа; умение выполнять вычисление значений и преобразования выражений со степенями и логарифмами, преобразования дробно-рациональных выражений;</li> <li>- уметь оперировать понятиями: рациональные, иррациональные, показательные, степенные, логарифмические, тригонометрические уравнения и неравенства, их системы;</li> <li>- уметь оперировать понятиями: функция, непрерывная функция, производная, первообразная, определенный интеграл; умение</li> </ul>

<sup>1</sup> Указываются личностные и метапредметные результаты из ФГОС СОО (в последней редакции от 12.08.2022) в отглагольной форме, формируемые общеобразовательной дисциплиной

<sup>2</sup> Дисциплинарные (предметные) результаты указываются в соответствии с их полным перечнем во ФГОС СОО (в последней редакции от 12.08.2022)

	<p>рассматривать ее всесторонне;</p> <ul style="list-style-type: none"> <li>- устанавливать существенный признак или основания для сравнения, классификации и обобщения;</li> <li>- определять цели деятельности, задавать параметры и критерии их достижения;</li> <li>- выявлять закономерности и противоречия в рассматриваемых явлениях;</li> <li>- вносить коррективы в деятельность, оценивать соответствие результатов целям, оценивать риски последствий деятельности;</li> <li>- развивать креативное мышление при решении жизненных проблем</li> </ul> <p>б) базовые исследовательские действия:</p> <ul style="list-style-type: none"> <li>- владеть навыками учебно-исследовательской и проектной деятельности, навыками разрешения проблем;</li> <li>- выявлять причинно-следственные связи и актуализировать задачу, выдвигать гипотезу ее решения, находить аргументы для доказательства своих утверждений, задавать параметры и критерии решения;</li> <li>- анализировать полученные в ходе решения задачи результаты, критически оценивать их достоверность, прогнозировать изменение в новых условиях;</li> <li>-- уметь переносить знания в познавательную и практическую области жизнедеятельности;</li> <li>- уметь интегрировать знания из разных предметных областей;</li> <li>- выдвигать новые идеи, предлагать оригинальные подходы и решения;</li> </ul>	<p>находить производные элементарных функций, используя справочные материалы; исследовать в простейших случаях функции на монотонность, находить наибольшие и наименьшие значения функций; строить графики многочленов с использованием аппарата математического анализа; применять производную при решении задач на движение; решать практико-ориентированные задачи на наибольшие и наименьшие значения, на нахождение пути, скорости и ускорения;</p> <ul style="list-style-type: none"> <li>- уметь оперировать понятиями: рациональная функция, показательная функция, степенная функция, логарифмическая функция, тригонометрические функции, обратные функции; умение строить графики изученных функций, использовать графики при изучении процессов и зависимостей, при решении задач из других учебных предметов и задач из реальной жизни; выражать формулами зависимости между величинами;</li> <li>- уметь решать текстовые задачи разных типов (в том числе на проценты, доли и части, на движение, работу, стоимость товаров и услуг, налоги, задачи из области управления личными и семейными финансами); составлять выражения, уравнения, неравенства и их системы по условию задачи, исследовать полученное решение и оценивать правдоподобность результатов;</li> <li>- уметь оперировать понятиями: среднее арифметическое, медиана, наибольшее и наименьшее значения, размах, дисперсия, стандартное отклонение числового набора; умение извлекать, интерпретировать информацию, представленную в таблицах, на диаграммах, графиках, отражающую свойства реальных процессов и явлений; представлять</li> </ul>
--	--	--

	<p>и способность их использования в познавательной и социальной практике</p>	<p>информацию с помощью таблиц и диаграмм; исследовать статистические данные, в том числе с применением графических методов и электронных средств;</p> <ul style="list-style-type: none"> <li>- уметь оперировать понятиями: случайный опыт и случайное событие, вероятность случайного события; умение вычислять вероятность с использованием графических методов; применять формулы сложения и умножения вероятностей, комбинаторные факты и формулы при решении задач; оценивать вероятности реальных событий; знакомство со случайными величинами; умение приводить примеры проявления закона больших чисел в природных и общественных явлениях;</li> <li>- уметь оперировать понятиями: точка, прямая, плоскость, пространство, двугранный угол, скрещивающиеся прямые, параллельность и перпендикулярность прямых и плоскостей, угол между прямыми, угол между прямой и плоскостью, угол между плоскостями, расстояние от точки до плоскости, расстояние между прямыми, расстояние между плоскостями; умение использовать при решении задач изученные факты и теоремы планиметрии; умение оценивать размеры объектов окружающего мира;</li> <li>- уметь оперировать понятиями: многогранник, сечение многогранника, куб, параллелепипед, призма, пирамида, фигура и поверхность вращения, цилиндр, конус, шар, сфера, сечения фигуры вращения, плоскость, касающаяся сферы, цилиндра, конуса, площадь поверхности пирамиды, призмы, конуса, цилиндра, площадь сферы, объем куба, прямоугольного параллелепипеда, пирамиды, призмы, цилиндра, конуса, шара; умение изображать многогранники и поверхности вращения, их</li> </ul>
--	--	--

		<p>сечения от руки, с помощью чертежных инструментов и электронных средств; умение распознавать симметрию в пространстве; умение распознавать правильные многогранники;</p> <p>уметь оперировать понятиями: движение в пространстве, подобные фигуры в пространстве; использовать отношение площадей поверхностей и объемов подобных фигур при решении задач;</p> <p>- уметь вычислять геометрические величины (длина, угол, площадь, объем, площадь поверхности), используя изученные формулы и методы;</p> <p>- уметь оперировать понятиями: прямоугольная система координат, координаты точки, вектор, координаты вектора, скалярное произведение, угол между векторами, сумма векторов, произведение вектора на число; находить с помощью изученных формул координаты середины отрезка, расстояние между двумя точками;</p> <p>- уметь выбирать подходящий изученный метод для решения задачи, распознавать математические факты и математические модели в природных и общественных явлениях, в искусстве; умение приводить примеры математических открытий российской и мировой математической науки</p>
<p>ОК 02. Использовать современные средства поиска, анализа и интерпретации информации, и информационные технологии для выполнения задач профессиональной деятельности</p>	<p>В области ценности научного познания:</p> <p>- сформированность мировоззрения, соответствующего современному уровню развития науки и общественной практики, основанного на диалоге культур, способствующего осознанию своего места в поликультурном мире;</p> <p>- совершенствование языковой и читательской</p>	<p>- уметь оперировать понятиями: рациональная функция, показательная функция, степенная функция, логарифмическая функция, тригонометрические функции, обратные функции; умение строить графики изученных функций, использовать графики при изучении процессов и зависимостей, при решении задач из других учебных предметов и задач из реальной жизни; выражать формулами зависимости между величинами;</p>

	<p>культуры как средства взаимодействия между людьми и познания мира;</p> <ul style="list-style-type: none"> <li>- осознание ценности научной деятельности, готовность осуществлять проектную и исследовательскую деятельность индивидуально и в группе.</li> </ul> <p>Овладение универсальными учебными познавательными действиями:</p> <p>в) работа с информацией:</p> <ul style="list-style-type: none"> <li>- владеть навыками получения информации из источников разных типов, самостоятельно осуществлять поиск, анализ, систематизацию и интерпретацию информации различных видов и форм представления;</li> <li>- создавать тексты в различных форматах с учетом назначения информации и целевой аудитории, выбирая оптимальную форму представления и визуализации;</li> <li>- оценивать достоверность, легитимность информации, ее соответствие правовым и морально-этическим нормам;</li> <li>- использовать средства информационных и коммуникационных технологий в решении когнитивных, коммуникативных и организационных задач с соблюдением требований эргономики, техники безопасности, гигиены, ресурсосбережения, правовых и этических норм, норм информационной безопасности;</li> <li>- владеть навыками распознавания и защиты информации, информационной безопасности личности</li> </ul>	<ul style="list-style-type: none"> <li>- уметь оперировать понятиями: тождество, тождественное преобразование, уравнение, неравенство, система уравнений и неравенств, равносильность уравнений, неравенств и систем, рациональные, иррациональные, показательные, степенные, логарифмические, тригонометрические уравнения, неравенства и системы; уметь решать уравнения, неравенства и системы с помощью различных приемов; решать уравнения, неравенства и системы с параметром; применять уравнения, неравенства, их системы для решения математических задач и задач из различных областей науки и реальной жизни;</li> <li>- уметь свободно оперировать понятиями: движение, параллельный перенос, симметрия на плоскости и в пространстве, поворот, преобразование подобия, подобные фигуры; уметь распознавать равные и подобные фигуры, в том числе в природе, искусстве, архитектуре; уметь использовать геометрические отношения, находить геометрические величины (длина, угол, площадь, объем) при решении задач из других учебных предметов и из реальной жизни</li> </ul>
--	--	---



<p>ОК 03. Планировать и реализовывать собственное профессиональное и личностное развитие, предпринимательскую деятельность в профессиональной сфере, использовать знания по финансовой грамотности в различных жизненных ситуациях</p>	<p>В области духовно-нравственного воспитания:</p> <ul style="list-style-type: none"> <li>-- сформированность нравственного сознания, этического поведения;</li> <li>- способность оценивать ситуацию и принимать осознанные решения, ориентируясь на морально-нравственные нормы и ценности;</li> <li>- осознание личного вклада в построение устойчивого будущего;</li> <li>- ответственное отношение к своим родителям и (или) другим членам семьи, созданию семьи на основе осознанного принятия ценностей семейной жизни в соответствии с традициями народов России;</li> </ul> <p>Овладение универсальными регулятивными действиями:</p> <p>а) самоорганизация:</p> <ul style="list-style-type: none"> <li>- самостоятельно осуществлять познавательную деятельность, выявлять проблемы, ставить и формулировать собственные задачи в образовательной деятельности и жизненных ситуациях;</li> <li>- самостоятельно составлять план решения проблемы с учетом имеющихся ресурсов, собственных возможностей и предпочтений;</li> <li>- давать оценку новым ситуациям;</li> </ul> <p>способствовать формированию и проявлению широкой эрудиции в разных областях знаний, постоянно повышать свой образовательный и культурный уровень;</p> <p>б) самоконтроль:</p> <ul style="list-style-type: none"> <li>использовать приемы рефлексии для оценки ситуации, выбора верного решения;</li> <li>- уметь оценивать риски и</li> </ul>	<ul style="list-style-type: none"> <li>- уметь оперировать понятиями: рациональные, иррациональные, показательные, степенные, логарифмические, тригонометрические уравнения и неравенства, их системы;</li> <li>- уметь оперировать понятиями: многогранник, сечение многогранника, куб, параллелепипед, призма, пирамида, фигура и поверхность вращения, цилиндр, конус, шар, сфера, сечения фигуры вращения, плоскость, касающаяся сферы, цилиндра, конуса, площадь поверхности пирамиды, призмы, конуса, цилиндра, площадь сферы, объем куба, прямоугольного параллелепипеда, пирамиды, призмы, цилиндра, конуса, шара;</li> <li>умение изображать многогранники и поверхности вращения, их сечения от руки, с помощью чертежных инструментов и электронных средств; уметь распознавать симметрию в пространстве; уметь распознавать правильные многогранники;</li> <li>- уметь оперировать понятиями: прямоугольная система координат, координаты точки, вектор, координаты вектора, скалярное произведение, угол между векторами, сумма векторов, произведение вектора на число; находить с помощью изученных формул координаты середины отрезка, расстояние между двумя точками</li> </ul>
--	--	--

	<p>своевременно принимать решения по их снижению;</p> <p>в) эмоциональный интеллект, предполагающий сформированность:</p> <p>внутренней мотивации, включающей стремление к достижению цели и успеху, оптимизм, инициативность, умение действовать, исходя из своих возможностей;</p> <p>- эмпатии, включающей способность понимать эмоциональное состояние других, учитывать его при осуществлении коммуникации, способность к сочувствию и сопереживанию;</p> <p>- социальных навыков, включающих способность выстраивать отношения с другими людьми, заботиться, проявлять интерес и разрешать конфликты</p>	
<p>ОК 04. Эффективно взаимодействовать и работать в коллективе и команде</p>	<p>готовность к саморазвитию, самостоятельности и самоопределению;</p> <p>- овладение навыками учебно-исследовательской, проектной и социальной деятельности;</p> <p>Овладение универсальными коммуникативными действиями:</p> <p>б) совместная деятельность:</p> <p>- понимать и использовать преимущества командной и индивидуальной работы;</p> <p>- принимать цели совместной деятельности, организовывать и координировать действия по ее достижению: составлять план действий, распределять роли с учетом мнений участников, обсуждать результаты совместной работы;</p> <p>- координировать и выполнять работу в условиях реального, виртуального и комбинированного взаимодействия;</p> <p>- осуществлять позитивное</p>	<p>- уметь оперировать понятиями: случайный опыт и случайное событие, вероятность случайного события; уметь вычислять вероятность с использованием графических методов; применять формулы сложения и умножения вероятностей, комбинаторные факты и формулы при решении задач; оценивать вероятности реальных событий; знакомство со случайными величинами; умение приводить примеры проявления закона больших чисел в природных и общественных явлениях;</p> <p>- уметь свободно оперировать понятиями: степень с целым показателем, корень натуральной степени, степень с рациональным показателем, степень с действительным (вещественным) показателем, логарифм числа, синус, косинус и тангенс произвольного числа;</p> <p>- уметь свободно оперировать понятиями: график функции, обратная функция, композиция функций, линейная функция,</p>

	<p>стратегическое поведение в различных ситуациях, проявлять творчество и воображение, быть инициативным.</p> <p>Овладение универсальными регулятивными действиями:</p> <p>г) принятие себя и других людей:</p> <ul style="list-style-type: none"> <li>- принимать мотивы и аргументы других людей при анализе результатов деятельности;</li> <li>- признавать свое право и право других людей на ошибки;</li> <li>- развивать способность понимать мир с позиции другого человека</li> </ul>	<p>квадратичная функция, степенная функция с целым показателем, тригонометрические функции, обратные тригонометрические функции, показательная и логарифмическая функции; уметь строить графики функций, выполнять преобразования графиков функций;</p> <ul style="list-style-type: none"> <li>- уметь использовать графики функций для изучения процессов и зависимостей при решении задач из других учебных предметов и из реальной жизни; выражать формулами зависимости между величинами;</li> <li>- свободно оперировать понятиями: четность функции, периодичность функции, ограниченность функции, монотонность функции, экстремум функции, наибольшее и наименьшее значения функции на промежутке; уметь проводить исследование функции;</li> <li>- уметь использовать свойства и графики функций для решения уравнений, неравенств и задач с параметрами; изображать на координатной плоскости множества решений уравнений, неравенств и их систем</li> </ul>
<p>ОК 05. Осуществлять устную и письменную коммуникацию на государственном языке Российской Федерации с учетом особенностей социального и культурного контекста</p>	<p>В области эстетического воспитания:</p> <ul style="list-style-type: none"> <li>- эстетическое отношение к миру, включая эстетику быта, научного и технического творчества, спорта, труда и общественных отношений;</li> <li>- способность воспринимать различные виды искусства, традиции и творчество своего и других народов, ощущать эмоциональное воздействие искусства;</li> <li>- убежденность в значимости для личности и общества отечественного и мирового искусства, этнических культурных традиций и народного творчества;</li> <li>- готовность к самовыражению в разных видах искусства, стремление</li> </ul>	<ul style="list-style-type: none"> <li>- уметь оперировать понятиями: среднее арифметическое, медиана, наибольшее и наименьшее значения, размах, дисперсия, стандартное отклонение числового набора; умение извлекать, интерпретировать информацию, представленную в таблицах, на диаграммах, графиках, отражающую свойства реальных процессов и явлений; представлять информацию с помощью таблиц и диаграмм; исследовать статистические данные, в том числе с применением графических методов и электронных средств;</li> <li>- уметь оперировать понятиями: точка, прямая, плоскость, пространство, двугранный угол, скрещивающиеся прямые, параллельность и перпендикулярность прямых и</li> </ul>

	<p>проявлять качества творческой личности;  Овладение универсальными коммуникативными действиями:  а) общение:  - осуществлять коммуникации во всех сферах жизни;  - распознавать невербальные средства общения, понимать значение социальных знаков, распознавать предпосылки конфликтных ситуаций и смягчать конфликты;  - развернуто и логично излагать свою точку зрения с использованием языковых средств</p>	<p>плоскостей, угол между прямыми, угол между прямой и плоскостью, угол между плоскостями, расстояние от точки до плоскости, расстояние между прямыми, расстояние между плоскостями;  - уметь использовать при решении задач изученные факты и теоремы планиметрии; умение оценивать размеры объектов окружающего мира</p>
<p>ОК 06. Проявлять гражданско-патриотическую позицию, демонстрировать осознанное поведение на основе традиционных общечеловеческих ценностей, в том числе с учетом гармонизации межнациональных и межрелигиозных отношений, применять стандарты антикоррупционного поведения</p>	<p>- осознание обучающимися российской гражданской идентичности;  - целенаправленное развитие внутренней позиции личности на основе духовно-нравственных ценностей народов Российской Федерации, исторических и национально-культурных традиций, формирование системы значимых ценностно-смысловых установок, антикоррупционного мировоззрения, правосознания, экологической культуры, способности ставить цели и строить жизненные планы;  В части гражданского воспитания:  - осознание своих конституционных прав и обязанностей, уважение закона и правопорядка;  - принятие традиционных национальных, общечеловеческих гуманистических и демократических ценностей;  - готовность противостоять идеологии экстремизма, национализма, ксенофобии, дискриминации по</p>	<p>- уметь решать текстовые задачи разных типов (в том числе на проценты, доли и части, на движение, работу, стоимость товаров и услуг, налоги, задачи из области управления личными и семейными финансами); составлять выражения, уравнения, неравенства и их системы по условию задачи, исследовать полученное решение и оценивать правдоподобность результатов;  - <i>*уметь оперировать понятиями: определение, аксиома, теорема, следствие, свойство, признак, доказательство, равносильные формулировки; уметь формулировать обратное и противоположное утверждение, приводить примеры и контрпримеры, использовать метод математической индукции, проводить доказательные рассуждения при решении задач, оценивать логическую правильность рассуждений;</i>  - <i>*уметь свободно оперировать понятиями: последовательность, арифметическая прогрессия, геометрическая прогрессия, бесконечно убывающая геометрическая прогрессия; уметь задавать последовательности, в том числе с помощью рекуррентных формул;</i></p>

	<p>социальным, религиозным, расовым, национальным признакам;</p> <ul style="list-style-type: none"> <li>- готовность вести совместную деятельность в интересах гражданского общества, участвовать в самоуправлении в общеобразовательной организации и детско-юношеских организациях;</li> <li>- умение взаимодействовать с социальными институтами в соответствии с их функциями и назначением;</li> <li>- готовность к гуманитарной и волонтерской деятельности; патриотического воспитания:</li> <li>- сформированность российской гражданской идентичности, патриотизма, уважения к своему народу, чувства ответственности перед Родиной, гордости за свой край, свою Родину, свой язык и культуру, прошлое и настоящее многонационального народа России;</li> <li>- ценностное отношение к государственным символам, историческому и природному наследию, памятникам, традициям народов России, достижениям России в науке, искусстве, спорте, технологиях и труде;</li> <li>- идейная убежденность, готовность к служению и защите Отечества, ответственность за его судьбу;</li> </ul> <p>освоенные обучающимися межпредметные понятия и универсальные учебные действия (регулятивные, познавательные, коммуникативные);</p> <ul style="list-style-type: none"> <li>- способность их использования в познавательной и социальной практике, готовность к самостоятельному</li> </ul>	<ul style="list-style-type: none"> <li>- <i>*уметь выбирать подходящий метод для решения задачи; понимание значимости математики в изучении природных и общественных процессов и явлений; уметь распознавать проявление законов математики в искусстве, уметь приводить примеры математических открытий российской и мировой математической науки</i></li> </ul>
--	--	--

	<p>планированию и осуществлению учебной деятельности, организации учебного сотрудничества с педагогическими работниками и сверстниками, к участию в построении индивидуальной образовательной траектории;</p> <p>- овладение навыками учебно-исследовательской, проектной и социальной деятельности</p>	
<p>ОК 07. Содействовать сохранению окружающей среды, ресурсосбережению, применять знания об изменении климата, принципы бережливого производства, эффективно действовать в чрезвычайных ситуациях</p>	<p>- не принимать действия, приносящие вред окружающей среде;</p> <p>- уметь прогнозировать неблагоприятные экологические последствия предпринимаемых действий, предотвращать их;</p> <p>- расширить опыт деятельности экологической направленности;</p> <p>- разрабатывать план решения проблемы с учетом анализа имеющихся материальных и нематериальных ресурсов;</p> <p>- осуществлять целенаправленный поиск переноса средств и способов действия в профессиональную среду;</p> <p>- уметь переносить знания в познавательную и практическую области жизнедеятельности;</p> <p>- предлагать новые проекты, оценивать идеи с позиции новизны, оригинальности, практической значимости;</p> <p>- давать оценку новым ситуациям, вносить коррективы в деятельность, оценивать соответствие результатов целям</p>	<p>- уметь оперировать понятиями: функция, непрерывная функция, производная, первообразная, определенный интеграл; уметь находить производные элементарных функций, используя справочные материалы; исследовать в простейших случаях функции на монотонность, находить наибольшие и наименьшие значения функций; строить графики многочленов с использованием аппарата математического анализа; применять производную при решении задач на движение; решать практико-ориентированные задачи на наибольшие и наименьшие значения, на нахождение пути, скорости и ускорения;</p> <p>- уметь оперировать понятиями: движение в пространстве, подобные фигуры в пространстве; использовать отношение площадей поверхностей и объемов подобных фигур при решении задач;</p> <p>- уметь вычислять геометрические величины (длина, угол, площадь, объем, площадь поверхности), используя изученные формулы и методы</p>

## 2. СТРУКТУРА И СОДЕРЖАНИЕ ОБЩЕОБРАЗОВАТЕЛЬНОЙ ДИСЦИПЛИНЫ

### 2.1. Объем учебной дисциплины и виды учебной работы

Вид учебной работы	Объем в часах
Объем образовательной программы дисциплины	220

<b>в т.ч.</b>	
<b>Основное содержание</b>	<b>218</b>
теоретическое обучение	166
практические занятия	16
<b>Профессионально-ориентированное содержание (содержание прикладного модуля)</b>	<b>36</b>
в т. ч.:	
теоретическое обучение	
практические занятия	36
<b>Индивидуальный проект (да)**</b>	нет
<b>Самостоятельная работа Консультация</b>	
<b>Промежуточная аттестация 1 семестр другие формы контроля Промежуточная аттестация 2 семестр (экзамен)</b>	<b>2</b>

## 2.2. Тематический план и содержание дисциплины

Наименование разделов и тем	Содержание учебного материала (основное и профессионально-ориентированное), лабораторные и практические занятия, прикладной модуль (при наличии)	Объем часов	Формируемые компетенции
1	2	3	4
<b>Основное содержание</b>			
<b>Раздел 1. Повторение курса математики основной школы</b>		<b>18</b>	ОК 01, ОК 02, ОК 03, ОК 04, ОК 05, ОК 06
Тема 1.1 Цель и задачи математики при освоении специальности. Числа и вычисления	Содержание учебного материала		
	Цель и задачи математики при освоении специальности. Базовые знания и умения по математике в профессиональной и в повседневной деятельности. Действия над положительными и отрицательными числами, с обыкновенными и десятичными дробями. Действия со степенями, формулы сокращенного умножения		
	Комбинированное занятие	4	
Тема 1.2 Процентные вычисления. Уравнения и неравенства	Содержание учебного материала		
	Простые проценты, разные способы их вычисления. Линейные, квадратные, дробно-линейные уравнения и неравенства		
	Комбинированное занятие	4	
Тема 1.3. Процентные вычисления в профессиональных задачах	<b>Профессионально-ориентированное содержание (содержание прикладного модуля)</b>		
	Простые и сложные проценты. Процентные вычисления в профессиональных задачах		
	<b>Практическое занятие</b>	4	
Тема 1.4 Решение задач. Входной контроль	Содержание учебного материала		
	Вычисления и преобразования. Уравнения и неравенства. Геометрия на плоскости		
	Комбинированное занятие	4	
	<b>Контрольная работа</b>	2	
<b>Раздел 2 Прямые и плоскости в пространстве. Координаты и векторы в пространстве</b>		<b>30</b>	ОК 01, ОК 03, ОК 04, ОК 07
Тема 2.1. Основные понятия стереометрии. Расположение прямых и плоскостей	Содержание учебного материала		
	Предмет стереометрии. Основные понятия (точка, прямая, плоскость, пространство). Основные аксиомы стереометрии. Пересекающиеся, параллельные и скрещивающиеся прямые. Угол между прямыми в пространстве. Перпендикулярность прямых. Основные пространственные фигуры		



	Комбинированное занятие	4
Тема 2.2. Параллельность прямых, прямой и плоскости, плоскостей	Содержание учебного материала	
	Параллельные прямая и плоскость. Определение. Признак. Свойства. Параллельные плоскости. Определение. Признак. Свойства. Тетраэдр и его элементы. Параллелепипед и его элементы. Свойства противоположных граней и диагоналей параллелепипеда. Построение основных сечений	
	Комбинированное занятие	6
Тема 2.3. Перпендикулярность прямых, прямой и плоскости, плоскостей	Содержание учебного материала	
	Перпендикулярные прямые. Параллельные прямые, перпендикулярные к плоскости. Признак перпендикулярности прямой и плоскости	
	Комбинированное занятие	4
Тема 2.4. Перпендикуляр и наклонная. Теорема о трех перпендикулярах	Содержание учебного материала	
	Перпендикуляр и наклонная. Теорема о трех перпендикулярах. Угол между прямой и плоскостью. Угол между плоскостями. Перпендикулярные плоскости. Расстояния в пространстве	
	Комбинированное занятие	4
Тема 2.5. Координаты и векторы в пространстве	Содержание учебного материала	
	Декартовы координаты в пространстве. Векторы в пространстве. Сложение и вычитание векторов. Умножение вектора на число. Скалярное произведение векторов. Простейшие задачи в координатах	
	Комбинированное занятие	4
Тема 2.6. Прямые и плоскости в практических задачах	<b>Профессионально-ориентированное содержание (содержание прикладного модуля)</b>	
	Взаимное расположение прямых в пространстве. Параллельность прямой и плоскости, параллельность плоскостей, перпендикулярность плоскостей. Расположение прямых и плоскостей в окружающем мире (природе, архитектуре, технике). Решение практико-ориентированных задач	
	<b>Практическое занятие</b>	6
Тема 2.7 Решение задач. Прямые и плоскости, координаты и векторы в пространстве	Содержание учебного материала	
	Расположение прямых и плоскостей в пространстве. Перпендикулярность и параллельность прямых и плоскостей. Декартовы координаты в пространстве. Векторы в пространстве. Сложение и вычитание векторов. Умножение вектора на число. Координаты вектора	

	Комбинированное занятие		
	<b>Контрольная работа</b>	2	
<b>Раздел 3. Основы тригонометрии. Тригонометрические функции</b>		<b>26</b>	
Тема 3.1 Тригонометрические функции произвольного угла, числа	Содержание учебного материала		
	Радианная мера угла. Поворот точки вокруг начала координат. Определение синуса, косинуса, тангенса и котангенса. Знаки синуса, косинуса, тангенса и котангенса по четвертям. Зависимость между синусом, косинусом, тангенсом и котангенсом одного и того же угла		
	Комбинированное занятие	4	
Тема 3.2 Основные тригонометрические тождества	Содержание учебного материала		
	Тригонометрические тождества. Преобразования простейших тригонометрических выражений. Синус, косинус, тангенс и котангенс углов $\alpha$ и $-\alpha$		
	Комбинированное занятие	4	
Тема 3.3 Тригонометрические функции, их свойства и графики	Содержание учебного материала		
	Область определения и множество значений тригонометрических функций. Чётность, нечётность, периодичность тригонометрических функций. Свойства и графики функций $y = \cos x$ , $y = \sin x$ , $y = \operatorname{tg} x$ , $y = \operatorname{ctg} x$ . Сжатие и растяжение графиков тригонометрических функций. Преобразование графиков тригонометрических функций		
	Комбинированное занятие	6	
Тема 3.4 Обратные тригонометрические функции	Содержание учебного материала		
	Обратные тригонометрические функции. Их свойства и графики.		
	Комбинированное занятие	4	
Тема 3.5 Тригонометрические уравнения и неравенства	Содержание учебного материала		
	Уравнение $\cos x = a$ . Уравнение $\sin x = a$ . Уравнение $\operatorname{tg} x = a$ , $\operatorname{ctg} x = a$ . Решение тригонометрических уравнений основных типов: простейшие тригонометрические уравнения, сводящиеся к квадратным., решаемые разложением на множители, однородные. Простейшие тригонометрические неравенства		
	Комбинированное занятие	6	
Тема 3.6 Решение задач. Основы тригонометрии. Тригонометрические функции	Содержание учебного материала		
	Преобразование тригонометрических выражений. Решение тригонометрических уравнений и неравенств в том числе с использованием свойств функций		
			ОК 01, ОК 02, ОК 03, ОК 04, ОК 05

	Комбинированное занятие.		
	<b>Контрольная работа</b>		2
<b>Раздел 4. Производная и первообразная функции</b>			<b>50</b>
Тема 4.1 Понятие производной. Формулы и правила дифференцирования	Содержание учебного материала		
	Приращение аргумента. Приращение функции. Задачи, приводящие к понятию производной. Определение производной. Алгоритм отыскания производной. Формулы дифференцирования. Правила дифференцирования		
	Комбинированное занятие		8
Тема 4.2 Понятие о непрерывности функции. Метод интервалов	Содержание учебного материала		
	Понятие непрерывной функции. Свойства непрерывной функции. Связь между непрерывностью и дифференцируемостью функции в точке. Алгоритм решения неравенств методом интервалов		
	Комбинированное занятие		8
Тема 4.3 Геометрический и физический смысл производной	Содержание учебного материала		
	Геометрический смысл производной функции – угловой коэффициент касательной к графику функции в точке. Уравнение касательной к графику функции. Алгоритм составления уравнения касательной к графику функции $y=f(x)$		
	Комбинированное занятие		4
Тема 4.4 Монотонность функции. Точки экстремума	Содержание учебного материала		
	Возрастание и убывание функции, соответствие возрастания и убывания функции знаку производной. Задачи на максимум и минимум. Алгоритм исследования функции и построения ее графика с помощью производной		
	Комбинированное занятие		4
Тема 4.5 Исследование функций и построение графиков	Содержание учебного материала		
	Исследование функции на монотонность и построение графиков		
	Комбинированное занятие		6
Тема 4.6 Наибольшее и наименьшее значения функции	Содержание учебного материала		
	Нахождение наибольшего и наименьшего значений функций, построение графиков с использованием аппарата математического анализа		
	Комбинированное занятие		4
Тема 4.7 Нахождение оптимального результата с помощью производной в практических задачах	<i>Профессионально-ориентированное содержание (содержание прикладного модуля)</i>		
	Наименьшее и наибольшее значение функции		
	<b>Практическое занятие</b>		6
Тема 4.8 Первообразная функции.	Содержание учебного материала		

ОК 01, ОК 03, ОК 04, ОК 06, ОК 07

Правила нахождения первообразных	Ознакомление с понятием интеграла и первообразной для функции $y=f(x)$ . Решение задач на связь первообразной и ее производной, вычисление первообразной для данной функции. Таблица формул для нахождения первообразных. Изучение правила вычисления первообразной		OK 01, OK 04, OK 06, OK 07
	Комбинированное занятие	4	
Тема 4.9 Площадь криволинейной трапеции. Формула Ньютона – Лейбница	Содержание учебного материала		
	Задачи, приводящие к понятию определенного интеграла – о вычислении площади криволинейной трапеции. Понятие определённого интеграла. Геометрический и физический смысл определенного интеграла. Формула Ньютона – Лейбница. Решение задач на применение интеграла для вычисления физических величин и площадей		
	Комбинированное занятие	4	
Тема 4.10 Решение задач. Производная и первообразная функции.	Содержание учебного материала		
	Формулы и правила дифференцирования. Исследование функций с помощью производной. Наибольшее и наименьшее значения функции. Вычисление первообразной. Применение первообразной		
	Комбинированное занятие		
	<b>Контрольная работа</b>	2	
<b>Раздел 5. Многогранники и тела вращения</b>		<b>30</b>	
Тема 5.1 Призма, параллелепипед, куб, пирамида и их сечения	Содержание учебного материала		
	Призма (наклонная, прямая, правильная) и её элементы. Параллелепипед. Свойства прямоугольного параллелепипеда. Куб. Пирамида и её элементы. Правильная пирамида		
	Комбинированное занятие	6	
Тема 5.2 Правильные многогранники в жизни	Содержание учебного материала		
	Площадь поверхности многогранников. Простейшие комбинации многогранников. Вычисление элементов пространственных фигур (рёбра, диагонали, углы). Правильные многогранники		
	Комбинированное занятие	4	
<b>Промежуточная аттестация 1 семестр другие формы контроля</b>		<b>2</b>	
Тема 5.3 Цилиндр, конус, шар и их сечения	<b>Профессионально-ориентированное содержание (содержание прикладного модуля)</b>		
	Цилиндр, конус, сфера и шар. Основные свойства прямого кругового цилиндра, прямого кругового конуса. Изображение тел вращения на плоскости. Представление об усечённом конусе. Сечения конуса		

	(параллельное основанию и проходящее через вершину), сечения цилиндра (параллельно и перпендикулярно оси), сечениях шара. Развёртка цилиндра и конуса		
	<b>Практическое занятие</b>	<b>4</b>	
Тема 5.4 Объемы и площади поверхностей тел	Содержание учебного материала		
	Объем прямоугольного параллелепипеда. Объем куба. Объемы прямой призмы и цилиндра. Объемы пирамиды и конуса. Объем шара		
	Комбинированное занятие	6	
Тема 5.5 Примеры симметрий в профессии	<b>Профессионально-ориентированное содержание (содержание прикладного модуля)</b>		
	Понятие о симметрии в пространстве (центральная, осевая, зеркальная). Обобщение представлений о правильных многогранниках (тетраэдр, куб, октаэдр, додекаэдр, икосаэдр). Примеры симметрий в профессии		
	<b>Практическое занятие</b>	<b>4</b>	
Тема 5.6 Решение задач. Многогранники и тела вращения	Содержание учебного материала		
	Объемы и площади поверхности многогранников и тел вращения		
	Комбинированное занятие	4	
	<b>Контрольная работа</b>	<b>2</b>	
<b>Раздел 6. Степени и корни. Степенная, показательная и логарифмическая функции</b>		<b>38</b>	
Тема 6.1 Степенная функция, ее свойства. Преобразование выражений с корнями n-ой степени	Содержание учебного материала		
	Понятие корня n-ой степени из действительного числа. Функции $y = \sqrt[n]{x}$ их свойства и графики. Свойства корня n-ой степени. Преобразование иррациональных выражений		
	Комбинированное занятие	4	
Тема 6.2 Свойства степени с рациональным и действительным показателями	Содержание учебного материала		
	Понятие степени с рациональным показателем. Степенные функции, их свойства и графики		
	Комбинированное занятие	6	
Тема 6.3 Решение иррациональных уравнений	Содержание учебного материала		
	Равносильность иррациональных уравнений. Методы их решения		
	Комбинированное занятие	4	
Тема 6.4 Показательная функция, ее свойства. Показательные уравнения и неравенства	Содержание учебного материала		
	Степень с произвольным действительным показателем. Определение показательной функции и ее свойства. Знакомство с применением		

ОК 01, ОК 02, ОК 03, ОК 05, ОК 07

	показательной функции. Решение показательных уравнений методом уравнивания показателей, методом введения новой переменной, функционально-графическим методом. Решение показательных неравенств		
	Комбинированное занятие	6	
Тема 6.5 Логарифм числа. Свойства логарифмов	Содержание учебного материала		
	Логарифм числа. Свойства логарифмов. Операция логарифмирования		
	Комбинированное занятие	6	
Тема 6.6 Логарифмическая функция, ее свойства. Логарифмические уравнения, неравенства	Содержание учебного материала		
	Логарифмическая функция и ее свойства. Понятие логарифмического уравнения. Операция потенцирования. Три основных метода решения логарифмических уравнений: функционально-графический, метод потенцирования, метод введения новой переменной. Логарифмические неравенства		
	Комбинированное занятие	6	
Тема 6.7 Логарифмы в природе и технике	<b>Профессионально-ориентированное содержание (содержание прикладного модуля)</b>		
	Применение логарифма. Логарифмическая спираль в природе. Ее математические свойства		
	<b>Практическое занятие</b>	4	
Тема 6.8 Решение задач. Степенная, показательная и логарифмическая функции	Содержание учебного материала		
	Степенная, показательная и логарифмическая функции. Решение уравнений		
	Комбинированное занятие		
	<b>Контрольная работа</b>	2	
<b>Раздел 7. Элементы теории вероятностей и математической статистики</b>		<b>26</b>	ОК 02, ОК 03, ОК 05
Тема 7.1 Событие, вероятность события. Сложение и умножение вероятностей	Содержание учебного материала		
	Совместные и несовместные события. Теоремы о вероятности суммы событий. Условная вероятность. Зависимые и независимые события. Теоремы о вероятности произведения событий		
	Комбинированное занятие	6	
Тема 7.2 Вероятность в профессиональных задачах	<b>Профессионально-ориентированное содержание (содержание прикладного модуля)</b>		
	Относительная частота события, свойство ее устойчивости. Статистическое определение вероятности. Оценка вероятности события		
	<b>Практическое занятие</b>	8	
Тема 7.3 Дискретная случайная величина, закон ее распределения	Содержание учебного материала		
	Виды случайных величин. Определение дискретной случайной величины.		

	Закон распределения дискретной случайной величины. Ее числовые характеристики		
	Комбинированное занятие	6	
Тема 7.4 Задачи математической статистики.	Содержание учебного материала		
	Первичная обработка статистических данных. Числовые характеристики (среднее арифметическое, медиана, размах, дисперсия). Работа с таблицами, графиками, диаграммами		
	Комбинированное занятие	4	
Тема 7.5 Элементы теории вероятностей и математической статистики	Виды событий, вероятность событий. Сложение и умножение вероятностей. Дискретная случайная величина, закон ее распределения. Задачи математической статистики.		
	<b>Контрольная работа</b>	<b>2</b>	
<b>Самостоятельная работа</b>			
<b>Консультации</b>			
<b>Промежуточная аттестация (Экзамен)</b>			
<b>Всего:</b>		<b>220</b>	

*По каждой теме описывается содержание учебного материала (в дидактических единицах), наименования необходимых лабораторных, практических и иных занятий. Объем часов определяется по каждой позиции столбца 3.*

*\*Профессионально-ориентированное содержание может быть распределено по разделам (темам) или сконцентрировано в разделе Прикладной модуль*

### 3. УСЛОВИЯ РЕАЛИЗАЦИИ ПРОГРАММЫ ОБЩЕОБРАЗОВАТЕЛЬНОЙ ДИСЦИПЛИНЫ

**3.1. Для реализации программы общеобразовательной дисциплины должны быть предусмотрены следующие специальные помещения:**

**Кабинет «Математических дисциплин»**

12 столов, 12 стульев, 12 компьютеров с лицензионным программным обеспечением и возможностью подключения к информационно-телекоммуникационной сети «Интернет», 12 наушников, рабочее место преподавателя (стол, стул, компьютер) 1 доска, 1 телевизор, наглядные пособия; комплект учебно-методической документации по дисциплине, калькуляторы.

**3.2. Информационное обеспечение реализации программы**

Перечень рекомендуемых учебных изданий, Интернет-ресурсов, дополнительной литературы:

**Основная литература:**

1. Богомолов, Н. В. Алгебра и начала анализа: учебное пособие для среднего профессионального образования / Н. В. Богомолов. – Москва : Издательство Юрайт, 2023. – 240 с. – (Профессиональное образование). – ISBN 978-5-534-09525-8. – Текст : электронный // Образовательная платформа Юрайт [сайт]. – URL: <https://urait.ru/bcode/511954>
2. Гусев, В. А. Геометрия: учебное пособие для среднего профессионального образования / В. А. Гусев, И. Б. Кожухов, А. А. Прокофьев. – 2-е изд., испр. и доп. – Москва : Издательство Юрайт, 2023. – 280 с. – (Профессиональное образование). – ISBN 978-5-534-08897-7. – Текст : электронный // Образовательная платформа Юрайт [сайт]. – URL: <https://urait.ru/bcode/517007>
3. Кремер, Н. Ш. Математика для колледжей: учебное пособие для среднего профессионального образования / Н. Ш. Кремер, О. Г. Константинова, М. Н. Фридман ; под редакцией Н. Ш. Кремера. – 11-е изд., перераб. и доп. – Москва : Издательство Юрайт, 2023. – 377 с. – (Профессиональное образование). – ISBN 978-5-534-16299-8. – Текст : электронный // Образовательная платформа Юрайт [сайт]. – URL: <https://urait.ru/bcode/530766>
4. Энатская, Н. Ю. Математическая статистика и случайные процессы: учебное пособие для среднего профессионального образования / Н. Ю. Энатская. – Москва : Издательство Юрайт, 2023. – 201 с. – (Профессиональное образование). – ISBN 978-5-534-04472-0. – Текст : электронный // Образовательная платформа Юрайт [сайт]. – URL: <https://urait.ru/bcode/512084>

**Дополнительная литература:**

1. Богомолов, Н. В. Математика: учебник для среднего профессионального образования / Н. В. Богомолов, П. И. Самойленко. – 5-е изд., перераб. и доп. – Москва : Издательство Юрайт, 2023. – 401 с. – (Профессиональное образование). – ISBN 978-5-534-07878-7. – Текст : электронный // Образовательная платформа Юрайт [сайт]. – URL: <https://urait.ru/bcode/511565>
2. Богомолов, Н. В. Математика. Алгебра и начала анализа. Базовый уровень: 10-11 классы: учебник для среднего общего образования / Н. В. Богомолов. – Москва : Издательство Юрайт, 2023. – 241 с. – (Общеобразовательный цикл). – ISBN 978-5-534-16084-0. – Текст : электронный // Образовательная платформа Юрайт [сайт]. – URL: <https://urait.ru/bcode/530391>
3. Богомолов, Н. В. Математика. Задачи с решениями: учебное пособие для среднего профессионального образования / Н. В. Богомолов. – 2-е изд., испр. и доп. – Москва : Издательство Юрайт, 2023. – 755 с. – (Профессиональное образование). – ISBN 978-5-534-16211-0. – Текст : электронный // Образовательная платформа Юрайт [сайт]. – URL: <https://urait.ru/bcode/530620>
4. Богомолов, Н. В. Математика. Углубленный уровень. 10-11 классы: учебник для среднего общего образования / Н. В. Богомолов, П. И. Самойленко. – 5-е изд., перераб. и доп. – Москва : Издательство Юрайт, 2023. – 398 с. – (Общеобразовательный цикл). – ISBN 978-5-534-16224-0. – Текст : электронный // Образовательная платформа Юрайт [сайт]. – URL: <https://urait.ru/bcode/530642>
5. Гусев, В. А. Математика. Геометрия. Базовый уровень: 10-11 классы: учебник для среднего общего образования / В. А. Гусев, И. Б. Кожухов, А. А. Прокофьев. – 2-е изд., испр. и



доп. – Москва : Издательство Юрайт, 2023. – 281 с. – (Общеобразовательный цикл). – ISBN 978-5-534-16085-7. – Текст : электронный // Образовательная платформа Юрайт [сайт]. – URL: <https://urait.ru/bcode/530392>

6. Дорофеева, А. В. Математика. Сборник задач : учебно-практическое пособие для среднего профессионального образования / А. В. Дорофеева. – 2-е изд. – Москва : Издательство Юрайт, 2023. – 176 с. – (Профессиональное образование). – ISBN 978-5-534-15556-3. – Текст : электронный // Образовательная платформа Юрайт [сайт]. – URL: <https://urait.ru/bcode/512131>

7. Математика. Практикум : учебное пособие для среднего профессионального образования / О. В. Татарников [и др.] ; под общей редакцией О. В. Татарникова. – Москва : Издательство Юрайт, 2023. – 285 с. – (Профессиональное образование). – ISBN 978-5-534-03146-1. – Текст : электронный // Образовательная платформа Юрайт [сайт]. – URL: <https://urait.ru/bcode/512207>

**Интернет-источники:**

1. Всероссийские интернет-олимпиады: <https://online-olympiad.ru>
2. Единая коллекция цифровых образовательных ресурсов: <http://school-collection.edu.ru>
3. Научная электронная библиотека (НЭБ): <http://www.elibrary.ru>
4. Открытый колледж. Математика: <https://mathematics.ru>
5. Повторим математику: <http://www.mathteachers.narod.ru>
6. Справочник по математике для школьников: <https://www.resolventa.ru/demo/demomath.htm>
7. Средняя математическая интернет школа: <http://www.bymath.net>
8. Федеральный портал «Российское образование»: <http://www.edu.ru>

#### 4. КОНТРОЛЬ И ОЦЕНКА РЕЗУЛЬТАТОВ ОСВОЕНИЯ ОБЩЕОБРАЗОВАТЕЛЬНОЙ ДИСЦИПЛИНЫ

Контроль и оценка результатов освоения общеобразовательной дисциплины раскрываются через дисциплинарные результаты, направленные на формирование общих и профессиональных компетенций по разделам и темам содержания учебного материала.

Общая/профессиональная компетенция	Раздел/Тема	Тип оценочных мероприятия
ОК 01. Выбирать способы решения задач профессиональной деятельности применительно к различным контекстам	Р 1, Тема 1.1, 1.2, 1.3 П-о/с <sup>3</sup> , 1.4. Р 2, Темы 2.1, 2.2, 2.3, 2.4, 2.5, 2.6 П-о/с, 2.7 Р 3, Темы 3.1, 3.2, 3.3, 3.4, 3.5, 3.6 Р 4, Темы 4.1, 4.2, 4.3, 4.4, 4.5, 4.6, 4.7 П-о/с, 4.8, 4.9, 4.10 Р 5, Темы 5.1, 5.2, 5.3 П-о/с, 5.4, 5.5, 5.6 Р 6, Темы 6.1, 6.2, 6.3, 6.4, 6.5, 6.6, 6.7 П-о/с, 6.8	Тестирование Устный опрос Математический диктант Индивидуальная самостоятельная работа Представление результатов практических работ Защита творческих работ Защита индивидуальных проектов Контрольная работа Выполнение заданий на экзамене
ОК 02. Использовать современные средства поиска, анализа и интерпретации информации, и информационные технологии для выполнения задач профессиональной деятельности	Р 1, Тема 1.1, 1.2, 1.3 П-о/с, 1.4. Р 3, Темы 3.1, 3.2, 3.3, 3.4, 3.5, 3.6 Р 6, Темы 6.1, 6.2, 6.3, 6.4, 6.5, 6.6, 6.7 П-о/с, 6.8 Р 7, Темы 7.1, 7.2 П-о/с, 7.3, 7.4	Тестирование Устный опрос Математический диктант Индивидуальная самостоятельная работа Представление результатов практических работ Защита творческих работ Защита индивидуальных проектов Контрольная работа

<sup>3</sup> Профессиональное-ориентированное содержание

		Выполнение заданий на экзамене
ОК 03. Планировать и реализовывать собственное профессиональное и личностное развитие, предпринимательскую деятельность в профессиональной сфере, использовать знания по финансовой грамотности в различных жизненных ситуациях	Р 1, Тема 1.1, 1.2, 1.3 П-о/с, 1.4. Р 2, Темы 2.1, 2.2, 2.3, 2.4, 2.5, 2.6 П-о/с, 2.7 Р 3, Темы 3.1, 3.2, 3.3, 3.4, 3.5, 3.6 Р 4, Темы 4.1, 4.2, 4.3, 4.4, 4.5, 4.6, 4.7 П-о/с, 4.8, 4.9, 4.10 Р 6, Темы 6.1, 6.2, 6.3, 6.4, 6.5, 6.6, 6.7 П-о/с, 6.8 Р 7, Темы 7.1, 7.2 П-о/с, 7.3, 7.4	Тестирование Устный опрос Математический диктант Индивидуальная самостоятельная работа Представление результатов практических работ Защита творческих работ Защита индивидуальных проектов Контрольная работа Выполнение заданий на экзамене
ОК 04. Эффективно взаимодействовать и работать в коллективе и команде	Р 1, Тема 1.1, 1.2, 1.3 П-о/с, 1.4. Р 2, Темы 2.1, 2.2, 2.3, 2.4, 2.5, 2.6 П-о/с, 2.7 Р 3, Темы 3.1, 3.2, 3.3, 3.4, 3.5, 3.6 Р 4, Темы 4.1, 4.2, 4.3, 4.4, 4.5, 4.6, 4.7 П-о/с, 4.8, 4.9, 4.10 Р 5, Темы 5.1, 5.2, 5.3 П-о/с, 5.4, 5.5, 5.6	Тестирование Устный опрос Математический диктант Индивидуальная самостоятельная работа Представление результатов практических работ Защита творческих работ Защита индивидуальных проектов Контрольная работа Выполнение заданий на экзамене
ОК 05. Осуществлять устную и письменную коммуникацию на государственном языке Российской Федерации с учетом особенностей социального и культурного контекста	Р 1, Тема 1.1, 1.2, 1.3 П-о/с, 1.4. Р 3, Темы 3.1, 3.2, 3.3, 3.4, 3.5, 3.6 Р 6, Темы 6.1, 6.2, 6.3, 6.4, 6.5, 6.6, 6.7 П-о/с, 6.8 Р 7, Темы 7.1, 7.2 П-о/с, 7.3, 7.4	Тестирование Устный опрос Математический диктант Индивидуальная самостоятельная работа Представление результатов практических работ Защита творческих работ Защита индивидуальных проектов Контрольная работа Выполнение заданий на экзамене
ОК 06. Проявлять гражданско-патриотическую позицию, демонстрировать осознанное поведение на основе традиционных общечеловеческих ценностей, в том числе с учетом гармонизации межнациональных и межрелигиозных отношений, применять стандарты антикоррупционного поведения	Р 1, Тема 1.1, 1.2, 1.3 П-о/с, 1.4. Р 4, Темы 4.1, 4.2, 4.3, 4.4, 4.5, 4.6, 4.7 П-о/с, 4.8, 4.9, 4.10 Р 5, Темы 5.1, 5.2, 5.3 П-о/с, 5.4, 5.5, 5.6	Тестирование Устный опрос Математический диктант Индивидуальная самостоятельная работа Представление результатов практических работ Защита творческих работ Защита индивидуальных проектов Контрольная работа Выполнение заданий на

		экзамене
ОК 07. Содействовать сохранению окружающей среды, ресурсосбережению, применять знания об изменении климата, принципы бережливого производства, эффективно действовать в чрезвычайных ситуациях	Р 2, Темы 2.1, 2.2, 2.3, 2.4, 2.5, 2.6 П-о/с, 2.7 Р 4, Темы 4.1, 4.2, 4.3, 4.4, 4.5, 4.6, 4.7 П-о/с, 4.8, 4.9, 4.10 Р 5, Темы 5.1, 5.2, 5.3 П-о/с, 5.4, 5.5, 5.6 Р 6, Темы 6.1, 6.2, 6.3, 6.4, 6.5, 6.6, 6.7 П-о/с, 6.8	Тестирование Устный опрос Математический диктант Индивидуальная самостоятельная работа Представление результатов практических работ Защита творческих работ Защита индивидуальных проектов Контрольная работа Выполнение заданий на экзамене

### Образовательные технологии

При изучении дисциплины применяются следующие образовательные и интерактивные технологии:

- технология адаптивного обучения;
- технология информационно-коммуникационного обучения;
- технология проектного обучения.
- лекция-визуализация
- лекция с применением технологий проблемного обучения
- лекция-диалог
- встречи со специалистами соответствующего профиля и т.п.
- организация тематических мероприятий, экскурсий и т.п.
- решение конкретных профессиональных ситуаций

### Тестовые вопросы для проведения текущего контроля по дисциплине

№ п/п	Задание	Варианты ответа		
		А	В	С
1.	Вычислите значение выражения: $\sqrt{a\sqrt{b^8}}$ , если $a = 4$ , $b = (-3)$	<b>18</b>	- 18	$2\sqrt{6}$
2.	Решите неравенство: $3x - 2 < 1,5x + 4$	<b><math>x &lt; 4</math></b>	$x < 6,6$	$x < 9$
3.	Найдите число, 18 % которого составляют 9	<b>50</b>	1,62	200
4.	Решите систему уравнений: $\begin{cases} 2x + 2y = 6 \\ x + y = 3 \end{cases}$	(3; 0)	решений нет	<b>множество решений</b>
5.	Найдите координаты точки пересечения графика функции $y = -\frac{2}{3}x + 6$ с осью абсцисс	(- 9; 0)	<b>(9; 0)</b>	(- 4; 0)
6.	Найдите диагональ квадрата, если известна его площадь $S = 9 \text{ см}^2$	6	<b><math>\sqrt{18}</math></b>	$\sqrt{40,5}$
7.	Вычислите: $(-2)^{-2} + 0,4^{-1} - (\sqrt{3})^0$	2,5	<b>1,75</b>	1,25
8.	При каких значениях «х» значения функции $y = -x^2 - 2x + 8$ положительны?	$(-\infty; -4) \cup (2; +\infty)$	<b>(- 4; 2)</b>	(- 2; 4)

9.	Решите уравнение: $x^3 - 5x^2 - 2x = 0$	- 1; 2	- 2; 0; 1	<b>2; 0; -1</b>
10.	Вычислите: $= \left(\frac{5}{48} + \frac{7}{16}\right) : 2$	$\frac{13}{48}$	$\frac{3}{8}$	$\frac{13}{12}$

### Вопросы к экзамену

1. Сформулируйте теорему Пифагора.
2. Перечислите основные фигуры в пространстве.
3. Перечислите способы задания плоскости.
4. Продолжите теорему: «Если одна из двух параллельных прямых перпендикулярна плоскости, то...».
5. Продолжите теорему: «Если две параллельные плоскости пересекаются третьей, то...».
6. Сформулируйте определение двугранного угла.
7. Раскройте понятие «угол между прямыми».
8. Перечислите взаимное расположение двух прямых в пространстве
9. Какие прямые называются параллельными в пространстве?
10. Какие прямые называются скрещивающимися в пространстве?
11. Какие прямые называются перпендикулярными в пространстве?
12. Перечислите взаимное расположение прямой и плоскости в пространстве.
13. Раскройте понятие «угол между прямой и плоскостью».
14. Раскройте понятие «параллельность прямой и плоскости».
15. Раскройте понятие «перпендикулярность прямой и плоскости».
16. Перечислите взаимное расположение двух плоскостей в пространстве.
17. Раскройте понятие «угол между плоскостями».
18. Раскройте понятие «параллельность плоскостей».
19. Раскройте понятие «перпендикулярность плоскостей».
20. Как найти расстояние от точки до прямой?
21. Как найти расстояние между прямыми?
22. Как найти расстояние между плоскостями?
23. Продолжите определение: «Перпендикуляр – это...».
24. Продолжите определение: «Наклонная – это...».
25. Продолжите определение: «Проекция наклонной – это...».
26. Перечислите свойства параллельного проектирования.
27. Из чего состоит прямоугольная система координат в пространстве?
28. Если точка лежит в плоскости  $xy$ , какая координата у нее нулевая?
29. Приведите пример координат точки  $A$ , которая лежит на оси  $z$ .
30. Раскройте понятие «вектор».
31. Какие векторы называются коллинеарными?
32. Какие векторы называются перпендикулярными?
33. Чему равен угол в один радиан?
34. В каких четвертях тригонометрического круга функция  $y = \sin x$  принимает положительные значения?
35. В каких четвертях тригонометрического круга функция  $y = \cos x$  принимает отрицательные значения?
36. Продолжите определение: «Синус острого угла – это...».
37. Продолжите определение: «Косинус острого угла – это...».
38. Продолжите определение: «Тангенс острого угла – это...».
39. Сформулируйте основное тригонометрическое тождество.
40. Чему равно произведение  $\operatorname{tg} x \cdot \operatorname{ctg} x$ ?
41. Чему равен  $\sin(2x)$ ? Сформулируйте правило вычисления.
42. Чему равен  $\cos(2x)$ ? Сформулируйте правило вычисления.
43. Перечислите тригонометрические функции, укажите их периоды.

44. Чему равен период функции  $y=\cos(4x)$ ?
45. ему равен период функции  $y=\cos(x/4)$ ?
46. Определите область значения функции  $y=3\cos(5x)$ ?
47. Перечислите способы решения тригонометрических уравнений.
48. Раскройте алгоритм решения однородных тригонометрических уравнений первого порядка.
49. Раскройте алгоритм решения однородных тригонометрических уравнений второго порядка.
50. Продолжите определение: «Производная – это...».
51. Раскройте геометрический смысл производной.
52. Раскройте физический смысл производной.
53. Перечислите правила вычисления производных.
54. Чему равна производная степенной функции?
55. Чему равна производная произведения?
56. Чему равна производная частного?
57. Чему равна производная сложной функции?
58. Сформулируйте признак возрастания функции.
59. Сформулируйте признак убывания функции.
60. Сформулируйте признак точки максимума функции.
61. Сформулируйте признак точки минимума функции.
62. Составьте алгоритм решения задач на нахождения наибольшего и наименьшего значения функции на отрезке?
63. Составьте алгоритм исследования и построения графика функции с помощью производной.
64. Продолжите определение: «Функция  $F(x)$  называется ...».
65. Раскройте геометрический смысл определенного интеграла.
66. Продолжите определение: «Криволинейная трапеция – это...».
67. Сформулируйте формулу Ньютона-Лейбница.
68. В чем заключается общий вид всех первообразных?
69. Перечислите правила вычисления интегралов.
70. Продолжите определение: «Многогранник – это...».
71. Продолжите определение: «Призма – это...».
72. Продолжите определение: «Прямоугольный параллелепипед – это...».
73. Продолжите определение: «Куб – это...».
74. Продолжите определение: «Пирамида – это...».
75. Сформулируйте свойство о противолежащих гранях параллелепипеда.
76. Сформулируйте свойство о диагоналях параллелепипеда.
77. Сформулируйте свойство о диагонали и линейных размерах прямоугольного параллелепипеда.
78. Какая призма называется прямой?
79. Какая призма называется правильной?
80. Раскройте понятие «правильная пирамида».
81. Что такое апофема правильной пирамиды?
82. В чем отличие полной поверхности призмы от полной поверхности пирамиды?
83. Сформулируйте теорему о вычислении боковой поверхности прямой призмы.
84. Сформулируйте теорему о вычислении боковой поверхности правильной пирамиды.
85. Назовите предметы из вашей профессиональной деятельности, которые имеют формы многогранников.
86. Продолжите определение: «Цилиндр – это...».
87. Продолжите определение: «Конус – это...».
88. Продолжите определение: «Усеченный конус – это...».
89. Продолжите определение: «Шар – это...».
90. Что является высотой усеченного конуса?

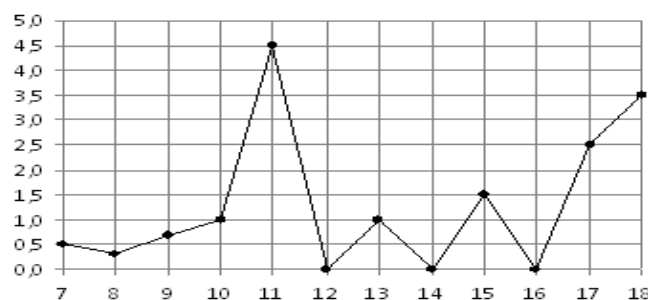
91. Что является осевым сечением цилиндра, конуса, усеченного конуса, шара?
92. Перечислите единицы измерения площади, объема.
93. Чему равно отношение площадей поверхностей подобных фигур в пространстве?
94. Чему равно отношение объемов подобных фигур в пространстве?
95. Назовите предметы из вашей профессиональной деятельности, которые имеют формы тел вращения.
96. Сформулируйте определение степенной функции.
97. Перечислите свойства степенной функции
98. Сформулируйте определение показательной функции.
99. Перечислите свойства показательной функции
100. Сформулируйте определение логарифмической функции.
101. Перечислите свойства логарифмической функции.
102. Продолжите определение: «Логарифм – это...».
103. Чему равен логарифм произведения?
104. Чему равен логарифм частного?
105. Приведите примеры логарифмической спирали в природе и в окружающем мире.
106. На что необходимо обратить внимание при решении иррационального уравнения четной степени?
107. Чему равен корень четной степени из отрицательного числа? Приведите пример.
108. Чему равен корень нечетной степени из отрицательного числа? Приведите пример.
109. На что стоит обратить внимание при решении логарифмических и иррациональных, дробно-рациональных уравнений и неравенств?
110. В чем заключается графический способ решения уравнений.
111. Продолжите определение: «Случайное событие – это...». Приведите пример.
112. Приведите пример достоверного события.
113. Приведите пример невозможного события.
114. Продолжите определение: «Вероятность случайного события – это...».
115. Сформулируйте правило нахождения сложения вероятностей.
116. Сформулируйте правило умножения вероятностей.
117. Как найти среднее арифметическое числового ряда?
118. Как найти медиану числового ряда?
119. Как вычисляется размах числового ряда?
120. Для чего нужны диаграммы, графики? Перечислите виды диаграмм.
121. Приведите примеры проявления закона больших чисел в природных явлениях.
122. Приведите примеры проявления закона больших чисел в общественных явлениях.
123. Что изучает статистика?
124. Продолжите определение: «Сочетание – это...».
125. Продолжите определение: «Размещение – это...».
126. Продолжите определение: «Перестановки – это...».

### Экзаменационные задания по математике

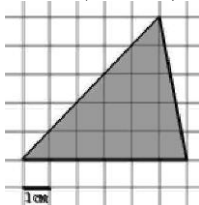
#### Обязательная часть

**При выполнении заданий 1-12 запишите ход решения и полученный ответ.**

1. (1 балл) Вычислите:  $2\sin(\pi/6) + 2\cos(\pi/3)$
2. (1 балл) На рисунке жирными точками показано суточное количество осадков, выпадавших в Элисте с 7 по 18 декабря 2001 года. По горизонтали указываются числа месяца, по вертикали — количество осадков, выпавших в соответствующий день, в миллиметрах. Для наглядности жирные точки на рисунке соединены линией. Определите по рисунку, сколько дней выпадало более 2 миллиметров осадков?



3. (1 балл) Стоимость услуг частного дизайнера возросла на 10%. Определить, сколько стоили услуги дизайнера до подорожания, если после клиент заплатил 55000руб?
4. (1 балл) На тарелке 16 пирожков: 7 с рыбой, 5 с вареньем и 4 с вишней. Юля наугад выбирает один пирожок. Найдите вероятность того, что он окажется с вишней.
5. (1 балл) Найдите значение выражения  $\log_2 2 + \log_2 32$
6. (1 балл) Найдите корень уравнения  $\sqrt{7-6x} = 7$ .
7. (1 балл) Решите неравенство  $2^{x+5} > 64$ . В ответ запишите наименьшее положительное число.
8. (1 балл) Найдите корень уравнения  $\frac{x+2}{3x-2} = \frac{1}{4}$
9. (1 балл) Найдите производную функции в точке  $x=0$ :  $y = \frac{5}{4}x^4 - 6x^2 + 7x - 1$
10. (1 балл) Кастрюля, оформленная по индивидуальному заказу, имеет форму цилиндра. Высота кастрюли 35 см, диаметр основания 20 см. Рассчитайте вместимость данной посуды, деленную на  $\pi$ .
11. (1 балл) Найдите площадь фигуры, изображенной на рисунке

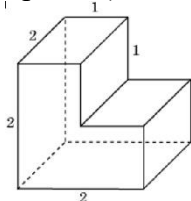


12. (1 балл) Тело движется по закону  $S(t)=3t^2+5t$  (м) Найти скорость тела через 1с после начала движения.

### Дополнительная часть

*При выполнении заданий 13-16 запишите ход решения и полученный ответ*

13. (3 балла) Вычислите площадь участка стола, отведенного для презентации работ дизайнера Василия, периметр которого ограничивают линии  $y=x^2-2x-2$  и  $y=-x^2+2$ . Выполните чертеж. Ответ дайте в квадратных метрах.
14. (3 балла) Решите уравнение  $\sin^2 x - 2\sin x = 0$ . В ответ запишите количество решений, принадлежащих промежутку  $[0; 4\pi]$ .
15. (3 балла) Найдите объем многогранника, изображенного на рисунке (все двугранные углы прямые).



16. (3 балла) Заказ на 126 открыток первый дизайнер выполняет на 5 часов быстрее, чем второй. Сколько открыток за час изготавливает первый дизайнер, если известно, что он за час может приготовить на 5 открыток больше второго?

**Эталоны ответов:**

Номер задания	1	2	3	4	5	6	7	8	9	10	11	12	13	14	15	16
Ответ	2	3	50 тыс	0,25	6	-7	1	-10	7	3500	15	11	9	5	6	13

### Задания входного контроля

#### Обязательная часть

*При решении заданий 1-4 запишите правильный ответ из четырех предложенных:*

1. (1 балл) Раскройте формулу сокращенного умножения  $a^2-b^2$ :  
 А)  $a^2-2ab+b^2$  Б)  $(a-b)(a+b)$ ; В)  $a^2+2ab-b^2$ ; Г)  $(a-b)(a-b)$

2. (1 балл) Площадь треугольника вычисляется по формуле:

А)  $S=a*b$ ; Б)  $S=(a*b)/2$ ; В)  $S=2a*b$ ; Г)  $S=(a*b)/3$ .

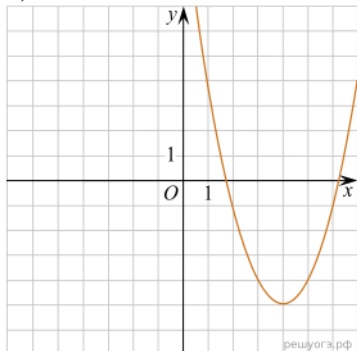
$$\frac{10}{17} \text{ и } \frac{5}{8}?$$

3. (1 балл) Какое из следующих чисел заключено между числами

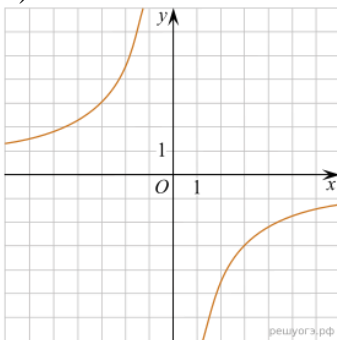
А) 0,4; Б) 0,5; В) 0,6; Г) 0,7

4. (1 балл) Даны графики функций. Какая формула соответствует графику 3):

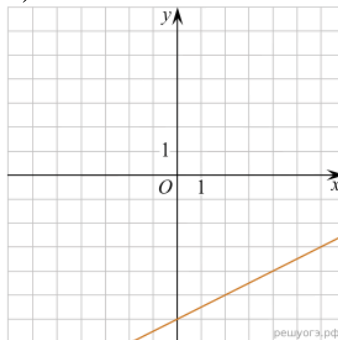
1)



2)



3)



А)  $y = \frac{1}{2}x - 6$ ; Б)  $y = x^2 - 8x + 11$ ; В)  $y = -\frac{9}{x}$ ; Г)  $y = x + 5$ .

**При выполнении заданий 5-8 запишите ход решения и полученный ответ.**

5. (2 балла) Вычислите:  $\frac{1}{2} + \frac{11}{5}$ .

6. (2 балла) Решите уравнение  $x^2 - 7x + 10 = 0$ . Если уравнение имеет более одного корня, в ответ запишите меньший из корней.

7. (2 балла) Для ремонта требуется 57 рулонов обоев. Какое наименьшее количество пачек обойного клея нужно для такого ремонта, если 1 пачка клея рассчитана на 5 рулонов?

8. (2 балла) Высота ВН параллелограмма ABCD делит его сторону AD на отрезки AN = 2 и ND = 32. Диагональ параллелограмма BD равна 40. Найдите площадь параллелограмма.

### Дополнительная часть

**При выполнении задания 9 запишите ход, обоснование решения и полученный ответ.**

9. (3 балла) Рыболов проплыл на лодке от пристани некоторое расстояние вверх по течению реки, затем бросил якорь, 2 часа ловил рыбу и вернулся обратно через 5 часов от начала путешествия. На какое расстояние от пристани он отплыл, если скорость течения реки равна 2 км/ч, а собственная скорость лодки 6 км/ч?

**Эталоны ответов:**

Номер задания	1	2	3	4	5	6	7	8	9
Ответ	Б	Б	В	А	2,7	2	12	816	8

### **Рубежный контроль**

#### Первая часть

**При решении заданий 1-4 запишите правильный ответ из четырех предложенных.**

1. Даны точки А(2,0,5), В(-2,6,3). Какие координаты имеет середина отрезка АВ – точка М?

А) М(0, 3, 4); Б) М(2, 3, 4); В) М(0, - 3, 4); Г) М(0, 3, - 4).

2. (1 балл) Прямые АВ и СД параллельные. Какое положение имеют прямые АС и ВД?

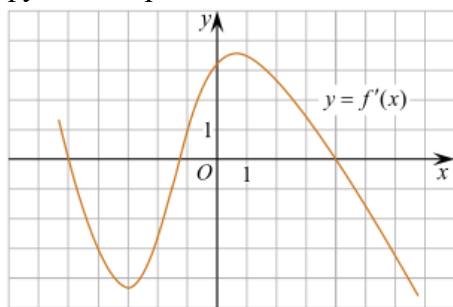
А) параллельные; Б) перпендикулярные; В) скрещиваются; Г) пересекаются.

3. (1 балл) Какие из функций являются чётными?

А)  $y = \sin x$ ; Б)  $y = \cos x$ ; В)  $y = \operatorname{tg} x$ ; Г)  $y = \operatorname{ctg} x$ .



4. (1 балл) На рисунке изображен график производной функции  $y=f'(x)$ . При каком значении  $x$  функция принимает свое наибольшее значение на отрезке  $[-4; -2]$  ?



А) 0,5; Б) -4; В) -5; Г) 1.

### Вторая часть

При выполнении заданий 5-10 запишите ход решения и полученный ответ.

5. (2 балла) Через концы отрезка АВ и его середину М проведены параллельные прямые, пересекающие некоторую плоскость в точках  $A_1$ ,  $B_1$  и  $M_1$ . Найдите длину отрезка  $MM_1$ , если отрезок АВ не пересекает плоскость и если  $AA_1=6$  см,  $BB_1=4$  см.

6. (2 балла) Даны точки  $A(6,7,8)$ ,  $B(8,2,6)$ . Найдите длину вектора АВ.

7. (2 балла) Найдите  $\operatorname{tg}\left(\alpha + \frac{\pi}{2}\right)$ , если  $\operatorname{tg}\alpha = 0,5$ .

8. (2 балла) Материальная точка движется прямолинейно по закону  $x(t)=t^2-13t+23$  (где  $x$  — расстояние от точки отсчета в метрах,  $t$  — время в секундах, измеренное с начала движения). В какой момент времени (в секундах) ее скорость была равна 3 м/с?

9. (2 балла) Дана функция  $f(x)=3x^2+1$ . Чему равна  $F(1)$ ?

10. (2 балла) Решите уравнение  $\cos x=1$ . В ответ запишите наименьший неотрицательный корень.

Эталоны ответов:

Номер задания	1	2	3	4	5	6	7	8	9	10
Ответ	А	Г	Б	Б	5	$\sqrt{33}$	-2	8	2	0

### Практические задания

Действительные числа

1) Упростите выражение.

А)  $3(x+y)^2 - 6xy$   
 б)  $\frac{2a+2b}{b} \cdot \left(\frac{1}{a-b} - \frac{1}{a+b}\right)$

2) Решите уравнение.

А)  $3(0,5x - 4) + 8,5x = 18$   
 б)  $4x^2 + 4x + 1 = 0$   
 в)  $\frac{x-1}{2} = \frac{4+2x}{3}$

3) Решите систему неравенств.

$$\begin{cases} \frac{x}{3} \geq 0 \\ 1 - 3x \leq 2x - 1 \\ 3 - x < 0 \end{cases}$$

4) Решите систему уравнений.

$$\begin{cases} 8x + 3y = -21 \\ 4x + 5y = -7 \end{cases}$$

5) Найдите область определения функции.  $y = \frac{\sqrt{3x^2 - 4x - 15}}{7 - 2x}$

6) Выполнить действия:  $0,4 \cdot 2 \frac{1}{2} \cdot (4,2 - 1 \frac{3}{40}) - 4 \frac{1}{8} + 1 \frac{5}{6}$

**Представить в тригонометрической форме:**

- |                   |                     |
|-------------------|---------------------|
| 1. $z = -5i$      | 7. $z = -3 - 4i$    |
| 2. $z = 2 + i$    | 8. $z = 0,2 + 0,1i$ |
| 3. $z = 2 - 2i$   | 9. $z = 0,8 - 1,1i$ |
| 4. $z = 4i$       | 10. $z = 3 + 4i$    |
| 5. $z = 2 - 3i$   | 11. $z = 3 - 4i$    |
| 6. $z = 2 + 3i$   | 12. $z = 10 - 5i$   |
| 13. $z = 5 - 4i$  | 22. $z = 7 + i$     |
| 14. $z = 3 + 2i$  | 23. $z = -2 + 8i$   |
| 15. $z = 1 + i$   | 24. $z = 2 - 9i$    |
| 16. $z = 4 + 5i$  | 25. $z = 8i$        |
| 17. $z = -3 - 8i$ | 26. $z = 5 + 4i$    |
| 18. $z = 7 + 4i$  | 27. $z = -7 + i$    |
| 19. $z = -6 + 2i$ | 28. $z = 6 - 5i$    |
| 20. $z = 6 - 2i$  | 29. $z = 15 - 3i$   |
| 21. $z = 5 + 6i$  | 30. $z = -5 - 8i$   |

**Степени с действительными показателями и их свойства**

$$8^{\frac{2}{3}} - 3 \left(\frac{1}{49}\right)^{\frac{1}{2}} \quad \text{б) } \frac{b^3 \sqrt{b^2}}{\sqrt[3]{b^4}}$$

1. Вычислить: а)

2. Упростить выражение:

$$x^{\frac{1}{2}} * x^{\frac{3}{4}} \quad x^{-\frac{1}{3}} : x^{\frac{5}{4}}$$

а)

б)

$$x^{\frac{1}{6}} - \frac{1}{2} = 0$$

3. Решить уравнение:

**Корни натуральной степени из числа и их свойства**

1. Найдите значение выражения:  $\sqrt[3]{-27}$ .

2. Решите уравнение:  $x^4 = -16$ .

3. Вычислите: а)  $\sqrt[3]{1000 \cdot 27 \cdot 8}$ ; б)  $\sqrt[4]{\frac{16}{81}}$ ; в)  $\sqrt[5]{0,4^5 \cdot 5^5}$ ; г)  $\frac{\sqrt[3]{250}}{\sqrt[3]{2}}$ .

4. Какое из чисел больше:  $\sqrt[7]{128}$  или  $\sqrt[5]{4}$ ?

**Логарифмы, их виды и свойства**

$$\log_{\frac{1}{2}} \frac{1}{32}$$

1. Найдите: а)  $\log_{49} 7$ .

2. С помощью основного логарифмического тождества вычислите:  $3^{2 + \log_3 2}$ .

3. Прологарифмируйте по основанию 2 выражение  $16b^7 \cdot \sqrt[5]{c}$  ( $c > 0$ ,  $b > 0$ ).

4. Найдите  $x$ , если  $\log_3 x = 2 \log_3 7 + \frac{2}{3} \log_3 27 - \frac{3}{2} \log_3 16$ .

## Преобразование алгебраических выражений

1. Найдите  $\frac{a+9b+16}{a+3b+8}$ , если  $\frac{a}{b} = 3$ .

2. Найдите значение выражения  $(4x^2 + y^2 - (2x - y)^2) : (2xy)$ .

3. Найдите значение выражения  $\frac{(3x+2y)^2 - 9x^2 - 4y^2}{6xy}$ .

4. Найдите значение выражения  $\frac{(4x-3y)^2 - (4x+3y)^2}{4xy}$ .

5. Найдите значение выражения  $(2x-5)(2x+5) - 4x^2$ .

## Преобразование рациональных, иррациональных, степенных, показательных выражений

1. Вычислить:

$$9^{3/2} + 27^{2/3} - (1/16)^{-3/4}$$

1) 208;      2) 28;      3) 124;      4) -36.

2. Найти значение выражения

$$\frac{x-y}{x^{1/2}+y^{1/2}} - \frac{y^{1/2}-y}{y^{1/2}}, \text{ если } x=9, y=49.$$

1) 3,5;      2) 2;      3) -3;      4) -12.

3. Вычислить:

$$\log_{10}8 + \log_{10}125.$$

1) 3;    2) 4;    3) 2;    4) 5.

4. Найдите значение выражения

$$\log_5(25a^3), \text{ если } \log_5 a = 7.$$

5. Найдите значение выражения

$$2 \log_2 3 + \log_2 1/3.$$

1)  $\log_2 3$ ;      2)  $2 \log_2 3$ ;      3) 0;    4) -2.

6. Упростите выражение:

$$3^{\log_2 1/4 + \log_3 5}$$

1) -45;    2) 5/9;    3) 1/25;    4) -10.

## Прямые и плоскости в пространстве

1. Выполните чертеж к задаче. Прямые  $a$ ,  $b$ , и  $c$  имеют общую точку  $O$ , но не существует плоскости, в которой лежат все эти три точки.

2. Выполните чертеж к задаче. Плоскость  $\alpha$  проходит через середины сторон  $AB$  и  $AC$   $\triangle ABC$  и не содержит вершины  $A$ .

3. Выполните чертеж куба  $ABCD A_1 B_1 C_1 D_1$ . По чертежу укажите: а) прямые параллельные для прямой  $AD$ ; б) прямые скрещивающиеся с прямой  $CC_1$ ; в) плоскости параллельные прямой  $AB$ .

4. Прямая  $AB$  пересекает плоскость  $\alpha$  в точке  $O$ , расстояние от точки  $A$  до плоскости равно 4 см. Найдите расстояние от точки  $B$  до плоскости, если точка  $O$  середина  $AB$ .

## Векторы и действия над ними

1. Даны векторы  $\vec{a}(3; 1; -2)$ ,  $\vec{b}(4; -1; -3)$ . Найдите координаты вектора  $3\vec{a} + 2\vec{b}$ .

2. Найдите длину вектора  $3\vec{a} + 2\vec{b}$ , если  $\vec{a}(2; 1; -5)$ ,  $\vec{b}(-3; 0; 1)$ .

3. Из точки  $A$  построен вектор  $\vec{AB} = \vec{a}$ . Найдите координаты точки  $B$ , если:  $A(3; 1; -2)$ ,  $\vec{a}(1; -3; 1)$ .

4. Даны векторы  $\vec{AB}(2; 3; 2)$  и  $\vec{BC}(4; -1; 1)$ . Найдите координаты и длину вектора  $\vec{AC}$ .

## Функции, их свойства и графики

1. Опишите по графику свойства функции  $y=f(x)$  по плану:

- 1) область определения и множество значений функции;
- 2) четность / нечетность, периодичность;
- 3) нули функции;
- 4) промежутки знакопостоянства;
- 5) промежутки монотонности;
- 6) экстремумы функции;
- 7) наибольшие и наименьшие значения функции.

2. Найдите область определения функций:

а)  $y = \frac{x-1}{-4x+3}$     б)  $y = \sqrt{x^2 - 3x}$     в)  $y = \lg(5x+14)$

3. Исследовать функцию на четность /нечетность/:    а)  $y = 3x^2 + x^4$     б)  $y = x^2 \operatorname{tg} x$

4. Укажите виды преобразований функции:    а)  $y = 3 \cos x$     б)  $y = (x - 4)^2 + 3$

5. Сравните числа:    а)  $\left(\frac{4}{3}\right)^{3\sqrt{3}}$  и  $\left(\frac{4}{3}\right)^5$     б)  $\log_6 7$  и  $\log_6 8,11$

6. Решите уравнения графически: а)  $\log_{\frac{1}{2}} x = \frac{1}{2}x - 2$     б)  $3^x = 4 - x$

### Основы тригонометрии

№ 1 Упростить выражения:

а)  $(\cos \alpha - \sin \alpha)^2 - (\cos \alpha + \sin \alpha)^2 =$

б)  $\frac{1 + \operatorname{ctg}^4 \alpha}{\operatorname{tg}^2 \alpha + \operatorname{ctg}^2 \alpha} =$

в)  $\frac{\sin^2 \alpha - \operatorname{tg}^2 \alpha}{\cos^2 \alpha - \operatorname{ctg}^2 \alpha} =$

№ 2 Решить уравнения:

а)  $\cos 2x = -\frac{\sqrt{2}}{2}$

б)  $\sin\left(\frac{2x}{5} - \frac{\pi}{4}\right) = -1$

в)  $\operatorname{tg}\left(\frac{x}{4} - \frac{\pi}{4}\right) = -\sqrt{3}$

г)  $\left(\cos 2x - \frac{1}{2}\right) \cdot \left(\operatorname{tg} 3x + \frac{\sqrt{3}}{3}\right) = 0$

### Тела и поверхности вращения

№ 1. Цилиндр получен вращением прямоугольника со стороной 5 м и диагональю 13 м вокруг данной стороны. Найдите площадь основания цилиндра.

№ 2. Образующая конуса равна 6 м, а угол между нею и плоскостью основания равен  $60^\circ$ . Найдите площади основания конуса и осевого сечения.

№ 3. В шаре радиуса 26 см на расстоянии 10 см от центра проведена секущая плоскость. Найдите площадь сечения.

### Уравнения и неравенства

1. Решить уравнение:

а)  $\left(\frac{1}{5}\right)^{2-3x} = 25$  ;

б)  $3^{x-1} - 3^x + 3^{x+1} = 63$  ;

в)  $0,2^{x^2+4x-5} = 1$

г)  $4^x + 2^x - 20 = 0$  ;    д)  $(\sqrt{10})^x = 10^{x^2-x}$

2. Решить неравенство:

а)  $7^{x-2} > 49$  ; б)  $\left(\frac{3}{4}\right)^x > 1\frac{1}{3}$  ; в)  $9^x - 3^x - 6 > 0$  ; г)  $(\sqrt{5})^{x-6} < \frac{1}{5}$  ; д)  $\left(\frac{2}{13}\right)^{x^2-1} \geq 1$ .

### Объем и площадь поверхности

1. В правильной четырехугольной пирамиде боковое ребро образует с плоскостью основания угол  $45^\circ$ . Сторона основания пирамиды равна 6 см. Найдите объем пирамиды.
2. Найдите объем и площадь поверхности тела, полученного при вращении прямоугольного треугольника с катетом 6 см и гипотенузой 10 см вокруг большего катета.
3. Площадь полной поверхности прямоугольного параллелепипеда, в основании которого прямоугольник со сторонами 9 см и 6 см, равна  $408 \text{ см}^2$ . Найдите объем параллелепипеда.
4. Три одинаковых металлических куба с ребрами по 4 см сплавлены в один куб. Определите полную поверхность этого куба и его массу, если плотность металла равна  $8,4 \text{ г/см}^3$ .
5. Сколько шариков диаметром 2 см можно отлить из металлического куба с ребром 4 см?

### Элементы теории вероятности

1. В коробке лежат 6 яблок и 14 груш. Какова вероятность того, что взятый наудачу фрукт окажется яблоком?
2. В партии из 23 деталей находятся 10 бракованных. Вынимают из партии наудачу две детали. Определить, какова вероятность того, что хотя бы одна из взятых деталей окажется бракованной.
3. Из 60 вопросов, входящих в экзаменационные билеты, студент подготовил 50. Какова вероятность того, что взятый наудачу студентом билет, содержащий 2 вопроса, будет состоять из подготовленных им вопросов?
4. В ящике 5 апельсинов и 4 яблока. Наудачу выбираются один за другим 2 фрукта. Какова вероятность, что оба фрукта – апельсины?

## Математический диктант

### Тема: Теорема о трех перпендикулярах

1. Закончите предложения:

- а) Перпендикуляром, опущенным из данной точки на данную плоскость, называется \_\_\_\_\_ (отрезок, проведённый из данной точки к данной плоскости, и лежащий на прямой, перпендикулярной данной плоскости).
- б) Основанием перпендикуляра называется \_\_\_\_\_ (точка пересечения перпендикуляра и плоскости).
- в) Расстоянием между прямой и плоскостью называется \_\_\_\_\_ (расстояние от произвольной точки прямой до плоскости).
- г) Наклонной, проведенной из данной точки к данной плоскости, называется \_\_\_\_\_ (отрезок, проведённый из данной точки к данной плоскости, и не являющийся перпендикуляром).
- д) Основанием наклонной называется \_\_\_\_\_ (точка пересечения наклонной и плоскости).
- е) Проекцией наклонной на плоскость называется \_\_\_\_\_ (отрезок, соединяющий основание перпендикуляра и основание наклонной).
- ж) Теорема о трех перпендикулярах: \_\_\_\_\_ (прямая, проведённая в плоскости через основание наклонной перпендикулярно к её проекции на эту плоскость, перпендикулярна и самой наклонной).

2. Может ли наклонная быть короче перпендикуляра, проведенного из той же точки и к той же плоскости? (нет)
3. Если наклонные, проведенные из одной точки к плоскости равны, то что можно сказать об их проекциях? (равны)
4. Точка А не лежит в плоскости  $\alpha$ . Сколько наклонных заданной длины можно провести из этой точки к данной плоскости? (множество)

**Тема: Призма (продолжи предложение)**

1. Боковые грани призмы являются ... (параллелограммами).
2. Высота прямой призмы равна её ... (ребру).
3. Все высоты призмы ... (равны).
4. Прямоугольный параллелепипед, у которого все три измерения равны, есть ... (куб).
5. Перпендикуляр, проведенный из какой-нибудь точки одного основания призмы к плоскости другого, есть ... (высота).
6. Если боковые ребра призмы перпендикулярны к основаниям, то призма ... (прямая).
7. Если боковые ребра призмы не перпендикулярны к основаниям, то призма ... (наклонная).
8. Если в основании прямой призмы лежит правильный многоугольник, то призма ... (правильная).
9. Основания призмы лежат в плоскостях, которые являются ... (параллельными).
10. Отрезок, соединяющий две вершины, не принадлежащие одной грани, есть ... (диагональ).

**Контрольная работа****Прямые и плоскости, координаты и векторы в пространстве****Первая часть****При решении заданий 1-4 запишите правильный ответ из четырех предложенных.**

1. (1 балл) Расшифруйте краткую запись:  $a \in \beta$ .  
А) точка  $a$  принадлежит плоскости  $\beta$ ; Б) точка  $a$  принадлежит прямой  $\beta$ ; В) прямая  $a$  принадлежит плоскости  $\beta$ ; Г) прямая  $a$  пересекает плоскость  $\beta$ .
2. (1 балл) Прямые АВ и СД скрещиваются. Какое расположение имеют прямые АС и ВД?  
А) параллельные; Б) перпендикулярные; В) скрещиваются; Г) пересекаются.
3. (1 балл) Какие из векторов  $a(1,2,-3)$ ,  $c(3,6,-6)$ ,  $v(2,4,-6)$  коллинеарны?  
А)  $a$ ,  $v$ ; Б)  $c$ ,  $v$ ; В)  $a$ ,  $c$ ; Г) коллинеарных векторов нет.
4. (1 балл) Даны точки  $A(2,0,5)$ ,  $B(2,4,-2)$ ,  $C(-2,6,3)$ . Серединой какого отрезка является точка  $M(0,3,4)$ ?  
А) АВ; Б) ВС; В) АС; Г) СВ.

**Вторая часть****При выполнении заданий 5-10 запишите ход решения и полученный ответ.**

5. (2 балла) Через концы отрезка АВ и его середину М проведены параллельные прямые, пересекающие некоторую плоскость в точках  $A_1$ ,  $B_1$  и  $M_1$ . Найдите длину отрезка  $MM_1$ , если отрезок АВ не пересекает плоскость и если  $AA_1=6,8$  см,  $BB_1=7,4$  см.
6. (2 балла) Прямые АС, АВ и АД попарно перпендикулярны. Найдите отрезок СД, если  $AB=5$  см,  $BC=13$  см,  $AD=9$  см.
7. (2 балла) Даны векторы  $a(-6,0,8)$ ,  $v(-3,2,-6)$ . Найдите скалярное произведение векторов.
8. (2 балла) Начертить куб  $ABCDA_1B_1C_1D_1$ . Построить точку  $K \in AB$ , точку  $M \in DD_1C$ , отрезок  $PE \in A_1B_1C_1$ .
9. (2 балла) При каких значениях  $n$  векторы  $\vec{a}(4,n,2)$ ,  $\vec{v}(1,2,n)$  перпендикулярны?
10. (2 балла) Оформите лист бумаги А4 вертикальными, горизонтальными, наклонными линиями, используя разные цветовые оттенки.

**Эталоны ответов:**

Номер задания	1	2	3	4	5	6	7	8	9	10
Ответ	В	В	А	В	7,1	15	-30	-	-1	-

**Основы тригонометрии. Тригонометрические функции****Первая часть****При решении заданий 1-4 запишите правильный ответ из четырех предложенных.**

1. (1 балл) В  $\triangle ABC$   $\cos C = \frac{AB}{AC}$ . Какая из сторон является гипотенузой  $\triangle ABC$ ?

- А) АВ; Б) АС; В) ВС; Г) СВ.  
 2. (1 балл) Углом какой четверти является угол  $\alpha=410^\circ$ ?  
 А) I; Б) II; В) III; Г) IV.  
 3. (1 балл) Какие из функций являются чётными?  
 А)  $y=\sin x$ ; Б)  $y=\cos x$ ; В)  $y=\operatorname{tg} x$ ; Г)  $y=\operatorname{ctg} x$ .  
 4. (1 балл) Период функции  $y=\sin x$ ?  
 А)  $\pi/2$ ; Б)  $2\pi$ ; В)  $4\pi$ ; Г)  $\pi$ .

### Вторая часть

*При выполнении заданий 5-10 запишите ход решения и полученный ответ.*

5. (2 балла) Вычислите:  $\sin \frac{\pi}{2} + \cos \frac{\pi}{2}$ .  
 6. (2 балла) Найдите значение выражения  $4\arccos \frac{\sqrt{2}}{2} - 4\arcsin(-\frac{\sqrt{2}}{2})$   
 7. (2 балла) Найдите значение выражения  $7 \operatorname{tg} 13^\circ \cdot \operatorname{tg} 77^\circ$ .  
 8. (2 балла) Решите уравнение  $\cos x = \frac{1}{2}$ . Запишите наименьший положительный корень уравнения.  
 9. Решите уравнение  $\sin^2 x - 4 \sin x + 3 = 0$ .  
 10. Постройте график тригонометрической функции  $y=2 \sin x$

**Эталоны ответов:**

Номер задания	1	2	3	4	5	6	7	8	9	10
Ответ	Б	А	В	Б	1	$2\pi$	7	$\pi/3$	$\pi/2+2\pi n,$ $n \in Z$	

### *Производная и первообразная функции*

#### Первая часть

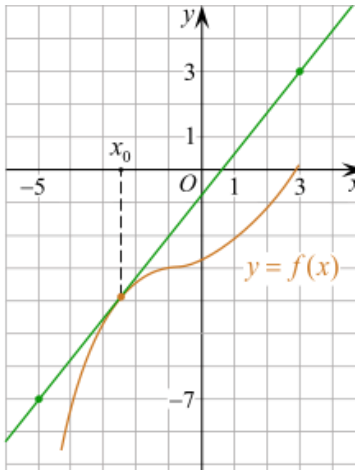
*При решении заданий 1-4 запишите правильный ответ из четырех предложенных.*

1. (1 балл) Чему равна производная функции  $y=2x^3$ ?  
 А)  $y'=5x$ ; Б)  $y'=6x$ ; В)  $y'=6$ ; Г)  $y'=6x^2$ .  
 2. (1 балл) По какой из формул вычисляется производная частного?  
 А)  $(u+v)'=u'+v'$ ; Б)  $(uv)'=u'v+uv'$ ; В)  $(\frac{u}{v})' = \frac{u'v-uv'}{v^2}$ ; Г)  $(f(g(x)))'=f'(g(x))*g'(x)$ .  
 3. (1 балл) Решите уравнение  $f'(x)=0$ , если  $f(x)=3x^2 - 6x + 4$ . Выберите ответ.  
 А) 1; Б) -1; В) 4; Г) -4.  
 4. (1 балл) Общий вид всех первообразных для  $f(x)=\sin x$ ?  
 А)  $F(x)=\cos x+C$ ; Б)  $F(x)=-\cos x+C$ ; В)  $F(x)=\operatorname{tg} x+C$ ; Г)  $F(x)=-\operatorname{tg} x+C$ .

#### Вторая часть

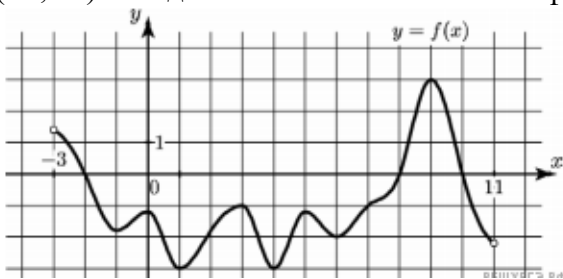
*При выполнении заданий 5-10 запишите ход решения и полученный ответ.*

5. (2 балла) Материальная точка движется прямолинейно по закону  $x(t) = \frac{1}{4}t^2 + t - 10$  (где  $x$  — расстояние от точки отсчета в метрах,  $t$  — время в секундах, измеренное с начала движения). В какой момент времени (в секундах) ее скорость была равна 5 м/с?  
 6. (2 балла) На рисунке изображён график функции  $y=f(x)$  и касательная к нему в точке с абсциссой  $x_0$ . Найдите значение производной функции  $f(x)$  в точке  $x_0$ .

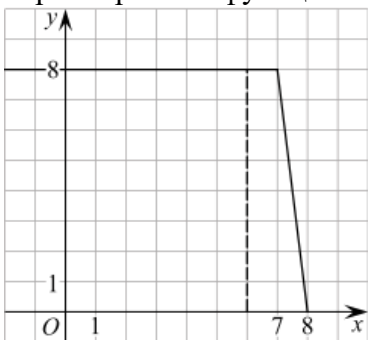


7. (2 балла) Решите неравенство:  $x^2 - 16 < 0$

8. (2 балла) На рисунке изображен график функции  $y=f(x)$ , определённой на интервале  $(-3; 11)$ . Найдите наименьшее значение функции  $f(x)$  на отрезке  $[2; 9,5]$ .



9. (2 балла) На рисунке изображён график некоторой функции  $y = f(x)$  (два луча с общей начальной точкой). Пользуясь рисунком, вычислите  $F(8) - F(6)$ , где  $F(x)$  — одна из первообразных функции  $f(x)$ .



10. (2 балла) Фирме «Дизайн+» выделяют участок земли площадью  $100 \text{ м}^2$ . Предлагают четыре участка разных размеров:  $25 \times 4$ ;  $20 \times 5$ ;  $12,5 \times 8$ ;  $10 \times 10$ . Какой участок одобрит директор фирмы «Дизайн+», учитывая, что необходимо будет поставить забор по периметру?

**Эталоны ответов:**

Номер задания	1	2	3	4	5	6	7	8	9	10
Ответ	Г	В	А	Б	8	1,25	(-4; 4)	-3	12	$10 \times 10$

### Многогранники и тела вращения

#### Первая часть

При решении заданий 1-4 запишите **правильный ответ из четырех предложенных.**

1. (1 балл) В каких единицах измеряется объем многогранника?

А) в метрах; Б) в кубических метрах; В) в квадратных метрах; Г) в двугранных градусах.

2. (1 балл) Площадь полной поверхности призмы вычисляется по формуле:

А)  $S = S_{\text{бок}} + 2 S_{\text{осн}}$ ; Б)  $S_{\text{бок}} = P_{\text{осн}} \cdot H$ ; В)  $S = S_{\text{бок}} + S S_{\text{осн}}$ ; Г)  $S_{\text{бок}} = 2P_{\text{осн}} \cdot H$ .

3. (1 балл) Что является осевым сечением конуса?

А) равнобедренный треугольник; Б) равнобедренная трапеция; В) прямоугольник; Г)



прямоугольная трапеция.

4. (1 балл) Какая фигура получается при вращении прямоугольного треугольника вокруг одного из своих катетов?

А) конус; Б) усеченный конус; В) пирамида; Г) усеченная пирамида.

**Вторая часть**

***При выполнении заданий 5-10 запишите ход решения и полученный ответ.***

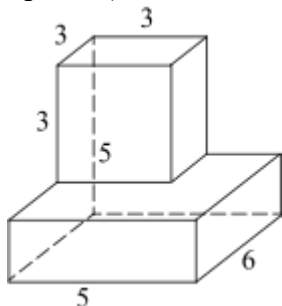
5. (2 балла) Ребро основания правильной треугольной пирамиды 3 м, апофема 6м. Найдите площадь боковой поверхности пирамиды.

6. (2 балла) Две стороны параллелограмма относятся как 3:17, а периметр его равен 40. Найдите большую сторону параллелограмма.



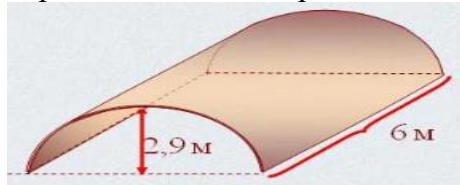
7. (2 балла) Прямоугольник со сторонами 8 см и 3 см вращается вокруг большей стороны. Найдите объем, площади боковой и полной поверхностей полученного тела.

8. (2 балла) Найдите объем многогранника, изображенного на рисунке (все двугранные углы прямые).



9. (2 балла) Клиенту необходимо, чтобы в комнате обязательно присутствовали объемные элементы декора цилиндрической формы. Построить из бумаги модель цилиндра. Размеры для построения выбрать самостоятельно, с учетом того, что соотношение радиуса к высоте должно быть 1:2.

10. (2 балла) Рассчитать количество 2-х килограммовых банок краски нужно купить для окрашивания цилиндрического свода подвала. Расход краски 100 г на 1 м<sup>2</sup>. Считать π=3.



**Эталоны ответов:**

Номер задания	1	2	3	4	5	6	7	8	9	10
Ответ	Б	А	А	А	27	17	72 π; 48 π; 64 π	87	-	3

***Степенная, показательная и логарифмическая функции***

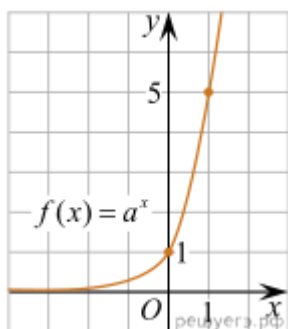
**Первая часть**

***При решении заданий 1-4 запишите правильный ответ из четырех предложенных.***

1. (1 балл) Между какими двумя натуральными числами находится число  $\sqrt[3]{19}$ ?

А) 19 и 20; Б) 2 и 3; В) 18 и 19; Г) 3 и 4.

2. (1 балл) На рисунке изображен график функции вида  $f(x)=a^x$ . Найдите значение  $f(2)$ .



А) 25.; Б) 5; В) 32; Г) нет верного ответа.

3. (1 балл) Какая из функций возрастают на всей области определения?

А)  $f(x)=\log_5 x$ ; Б)  $f(x)=0,7^x$ ; В)  $f(x)=x^2$ ; Г)  $f(x)=\log_{\frac{1}{2}} x$ .

4. (1 балл) Укажите область определения функции  $f(x) = \lg \frac{2x-3}{x+7}$

А)  $(-7; 1,5)$ ; Б)  $(-\infty; -1,5), (7; +\infty)$ ; В)  $(-1,5; 7)$ ; Г)  $(-\infty; -7), (1,5; +\infty)$ .

### Вторая часть

*При выполнении заданий 5-10 запишите ход решения и полученный ответ.*

5. (2 балла) Найдите значение выражения  $4^8 \cdot 11^{10} : 44^8$ .

6. (2 балла) Сколько целых решений имеет неравенство  $1 < 7^{x-1} \leq 49$ ?

7. (2 балла) Найдите корень уравнения  $\log_5(4+x) = 2$ .

8. (2 балла)) Расстояние от наблюдателя, находящегося на небольшой высоте  $h$  километров над землёй, до наблюдаемой им линии горизонта вычисляется по формуле  $l = \sqrt{2Rh}$ , где  $R=6400$  км — радиус Земли. С какой высоты горизонт виден на расстоянии 48 километров? Ответ выразите в километрах.

9. (2 балла) В ходе распада радиоактивного изотопа его масса уменьшается по закону  $m(t) = m_0 \cdot 2^{-t/T}$ , где  $m_0$  — начальная масса изотопа,  $t$  — время, прошедшее от начального момента,  $T$  — период полураспада. В начальный момент времени масса изотопа 184 мг. Период его полураспада составляет 7 мин. Найдите, через сколько минут масса изотопа будет равна 23 мг.

10. (2 балла) Найдите значение выражения  $\log_6 108 + \log_6 2$

**Эталоны ответов:**

Номер задания	1	2	3	4	5	6	7	8	9	10
Ответ	Б	А	А	Г	121	2	21	0,18	21	3

## *Элементы теории вероятностей и математической статистики*

### Первая часть

*При решении заданий 1-4 запишите правильный ответ из четырех предложенных*

1. (1 балл) Каких событий не бывает в теории вероятностей?

А) случайные; Б) неслучайные; В) достоверные; Г) невозможные.

2. (1 балл) Событие, которое при выполнении определенной совокупности условий, обязательно произойдет - это:

А) случайное; Б) неслучайное; В) достоверное; Г) невозможное.

3. (1 балл) Вероятность случайного события есть неотрицательное число, заключенное между числами:

А) 0 и 1; Б) 0 и 100; В) -1 и 1; Г) -100 и 100.

4. (1 балл) Группировка – это...

А) упорядочение единиц совокупности по признаку; Б) разбиение единиц совокупности на группы по признаку; В) обобщение единичных фактов; Г) обобщение единичных признаков.

### Вторая часть

*При выполнении заданий 5-10 запишите ход решения и полученный ответ.*

5. (2 балла) В офисе дизайнерского агентства находятся 8 посетителей женского пола и 2 мужского. Определить вероятность того, что первым к консультанту обратится мужчина.
6. (2 балла) На конференцию приехали 2 ученых из Германии, 3 из Сербии и 7 из Швейцарии. Каждый из них делает на конференции один доклад. Порядок докладов определяется жеребьевкой. Найдите вероятность того, что пятым окажется доклад ученого из Сербии.
7. (2 балла) Маша, Тимур, Диана, Костя и Антон бросили жребий — кому достанется проект по оформлению свадебного зала. Найдите вероятность того, что проект точно не будет выполнять Антон.
8. (2 балла) В ящике три красных и три синих фломастера. Фломастеры вытаскивают по очереди в случайном порядке. Какова вероятность того, что первый раз синий фломастер появится третьим по счету?
9. (2 балла) Дан ряд чисел: 175; 172; 179; 171; 174; 170; 172; 169. Найдите моду ряда и среднее арифметическое ряда.
10. (2 балла) При анализе ценовых предпочтений клиентов дизайнерского агентства получены данные, представленные в таблице: доля клиентов, приобретающих дизайнерские услуги одинакового назначения, но различной цены. Найти моду случайной величины.  $X$  – цены продаваемых услуг.

$x_i$	3500	4500	5500	6500	7500	8500
$p_i$	1/20	3/20	3/20	8/20	4/20	1/20

**Эталоны ответов:**

Номер задания	1	2	3	4	5	6	7	8	9	10
Ответ	Б	В	А	А	0,2	0,25	0,8	0,15	172; 172,75	6500

**Темы творческих работ**

1. Роль и место математики в современном мире.
2. Математика и медицина (тесная связь).
3. Пропорции и проценты в медицине. (Проценты в нашей жизни)
4. Применение математических методов в профессиональной деятельности медицинских работников.
5. Математические задачи в медицине. (примеры задач и их решение)
6. Математические таблицы и графики в медицине
7. Сестринское дело и множества чисел.
8. Медицина и комбинаторика. (Медицина и теория вероятности.)
9. Медицина и геометрия. (Медицина и планиметрия. Медицина и стереометрия.)
10. Теория граф в медицине.
11. Из истории математики и медицины.
12. Вычисление дифференциала. Приложение дифференциала к приближенным вычислениям значений функции.
13. Применение определенного интеграла к вычислению различных величин.
14. Дифференциальные уравнения и их применение в медицинской практике.
15. Применение статистических методов в социально-гигиенических и медико-биологических исследованиях.
16. Практическое применение статистических показателей оценки деятельности для вычисления показателей здоровья населения и деятельности ЛПУ (ФАП).
17. Анализ статистических показателей оценки деятельности поликлиники и стационара.
18. Газообмен в легких. Жизненная емкость легких. Показатели сердечной деятельности.
19. Оценка пропорциональности развития ребенка (расчет прибавки роста, массы, питания детей, антропометрические индексы).
20. Санитарная (медицинская) статистика – отрасль статистической науки.
21. Перепись населения.
22. Национальный проект «Здоровье».

23. Демографическая ситуация в стране и мире.
24. Использование математики в профессиональной деятельности медицинских работников среднего звена.
25. Математическая статистика и ее роль в медицине и здравоохранении.
26. Примеры функциональных зависимостей в реальных процессах и явлениях.

### **Критерии оценивания заданий**

5 «отлично» – глубоко и прочно усвоен весь программный материал; последовательно и точно построена речь; отсутствуют затруднения с ответами на дополнительные или уточняющие вопросы;

4 «хорошо» – усвоен весь программный материал; в речи имеются незначительные неточности; правильно применены теоретические знания; на большинство дополнительных или уточняющих вопросов дан ответ;

3 «удовлетворительно» – усвоена основная часть программного материала; речь не содержит «деталей»; недостаточно-правильные формулировки; на большинство дополнительных или уточняющих вопросов испытываются затруднения в ответе;

2 «неудовлетворительно» – не усвоена значительная часть программного материала; ответ содержит существенные ошибки.

## **5. ОСОБЕННОСТИ РЕАЛИЗАЦИИ ДИСЦИПЛИНЫ ДЛЯ ИНВАЛИДОВ И ЛИЦ С ОГРАНИЧЕННЫМИ ВОЗМОЖНОСТЯМИ ЗДОРОВЬЯ**

В случае обучения в колледже лиц с ограниченными возможностями здоровья учитываются особенности психофизического развития, индивидуальные возможности и состояние здоровья таких обучающихся.

Образование обучающихся с ограниченными возможностями здоровья может быть организовано как совместно с другими обучающимися, так и в отдельных группах.

Обучающиеся из числа лиц с ограниченными возможностями здоровья обеспечены печатными и (или) электронными образовательными ресурсами в формах, адаптированных к ограничениям их здоровья.

Обучение инвалидов осуществляется также в соответствии с индивидуальной программой реабилитации инвалида (при наличии).

Для лиц с ограниченными возможностями здоровья по слуху возможно предоставление учебной информации в визуальной форме (краткий конспект лекций; тексты заданий). На аудиторных занятиях допускается присутствие ассистента, а также сурдопереводчиков и (или) тифлосурдопереводчиков. Текущий контроль успеваемости осуществляется в письменной форме: обучающийся письменно отвечает на вопросы, письменно выполняет практические задания. Доклад (реферат) также может быть представлен в письменной форме, при этом требования к содержанию остаются теми же, а требования к качеству изложения материала (понятность, качество речи, взаимодействие с аудиторией и т. д.) заменяются на соответствующие требования, предъявляемые к письменным работам (качество оформления текста и списка литературы, грамотность, наличие иллюстрационных материалов и т.д.). Промежуточная аттестация для лиц с нарушениями слуха проводится в письменной форме, при этом используются общие критерии оценивания. При необходимости время подготовки к ответу может быть увеличено.

Для лиц с ограниченными возможностями здоровья по зрению университетом обеспечивается выпуск и использование на учебных занятиях альтернативных форматов печатных материалов (крупный шрифт или аудиофайлы) а также обеспечивает обучающихся надлежащими звуковыми средствами воспроизведения информации (диктофонов и т.д.). Допускается присутствие ассистента, оказывающего обучающемуся необходимую техническую помощь. Текущий контроль успеваемости осуществляется в устной форме. При проведении промежуточной аттестации для лиц с нарушением зрения тестирование может быть заменено на устное собеседование по вопросам.

Для лиц с ограниченными возможностями здоровья, имеющих нарушения опорно-двигательного аппарата материально-технические условия университета обеспечивают возможность беспрепятственного доступа обучающихся в учебные помещения, а также пребывания в них (наличие пандусов, поручней, расширенных дверных проемов, лифтов; наличие специальных кресел и других приспособлений).

На аудиторных занятиях, а также при проведении процедур текущего контроля успеваемости и промежуточной аттестации лицам с ограниченными возможностями здоровья, имеющим нарушения опорно-двигательного аппарата могут быть предоставлены необходимые технические средства (персональный компьютер, ноутбук или другой гаджет); допускается присутствие ассистента (ассистентов), оказывающего обучающимся необходимую техническую помощь (занять рабочее место, передвигаться по аудитории, прочитать задание, оформить ответ, общаться с преподавателем).