

Документ подписан простой электронной подписью
Информация о владельце:
ФИО: Рау Тамара Владимировна
Должность: Директор
Дата подписания: 31.08.2024 15:40:51
Уникальный программный ключ:
2a485cd80ccda37b9c8642595f502acd6c2411cd



Частное профессиональное образовательное учреждение
«Московский областной современный колледж»

РАССМОТРЕНО И ОДОБРЕНО

на заседании Педагогического совета МОСК
протокол № 1 от 30.08.2024 г.

УТВЕРЖДАЮ

Директор МОСК
Т.В. Рау
приказ № 02/30-08-24о
«30» августа 2024 г.



РАБОЧАЯ ПРОГРАММА
учебной дисциплины

ПД.01 МАТЕМАТИКА

по специальности среднего профессионального образования
09.02.07 Информационные системы и программирование

Подольск, 2024

Рабочая программа учебной дисциплины ПД.01 **Математика** разработана на основе Федерального государственного образовательного стандарта (далее – ФГОС) по специальности среднего профессионального образования (далее – СПО) 09.02.07 Информационные системы и программирование, утвержденного Приказом Минпросвещения России от 9 декабря 2016 года № 1547, зарегистрировано в Минюсте России 26.12.2016, регистрационный номер 44936 и примерной рабочей программы общеобразовательной дисциплины «Математика» для профессиональных образовательных организаций утвержденной на заседании Совета по оценке содержания и качества примерных рабочих программ общеобразовательного и социально-гуманитарного циклов среднего профессионального образования, протокол № 14 от «30» ноября 2022 г..

Организация-разработчик:

Частное профессиональное образовательное учреждение «Московский областной современный колледж» (МОСК)

СОДЕРЖАНИЕ

- 1. ОБЩАЯ ХАРАКТЕРИСТИКА РАБОЧЕЙ ПРОГРАММЫ
ОБЩЕОБРАЗОВАТЕЛЬНОЙ ДИСЦИПЛИНЫ**
- 2. СТРУКТУРА И СОДЕРЖАНИЕ
ОБЩЕОБРАЗОВАТЕЛЬНОЙ ДИСЦИПЛИНЫ**
- 3. УСЛОВИЯ РЕАЛИЗАЦИИ ПРОГРАММЫ
ОБЩЕОБРАЗОВАТЕЛЬНОЙ ДИСЦИПЛИНЫ**
- 4. КОНТРОЛЬ И ОЦЕНКА РЕЗУЛЬТАТОВ ОСВОЕНИЯ
УЧЕБНОЙ ДИСЦИПЛИНЫ**

- 5. ОСОБЕННОСТИ РЕАЛИЗАЦИИ УЧЕБНОЙ
ДИСЦИПЛИНЫ ДЛЯ ИНВАЛИДОВ И ЛИЦ С
ОГРАНИЧЕННЫМИ ВОЗМОЖНОСТЯМИ ЗДОРОВЬЯ**

1. ОБЩАЯ ХАРАКТЕРИСТИКА РАБОЧЕЙ ПРОГРАММЫ ОБЩЕОБРАЗОВАТЕЛЬНОЙ ДИСЦИПЛИНЫ «МАТЕМАТИКА»

1.1. Место дисциплины в структуре основной профессиональной образовательной программы

Общеобразовательная дисциплина «Математика» является обязательной частью общеобразовательного цикла образовательной программы СПО в соответствии с ФГОС по специальности 09.02.07 Информационные системы и программирование.

Дисциплина изучается на 1-ом курсе (1 и 2 семестры). Промежуточная аттестация проводится во 2-ом семестре.

1.2. Цели и планируемые результаты освоения дисциплины:

1.2.1. Цель общеобразовательной дисциплины

Содержание программы общеобразовательной дисциплины «Математика» направлено на достижение результатов ее изучения в соответствии с требованиями ФГОС СОО с учетом профессиональной направленности ФГОС СПО.

1.2.2. Планируемые результаты освоения общеобразовательной дисциплины в соответствии с ФГОС СПО и на основе ФГОС СОО

Особое значение дисциплина имеет при формировании и развитии ОК и ПК.

Общие компетенции	Планируемые результаты обучения	
	Общие ¹	Дисциплинарные ²
ОК 01 Выбирать способы решения задач профессиональной деятельности применительно к различным контекстам	готовность к труду, осознание ценности мастерства, трудолюбие; готовность к активной деятельности технологической и социальной направленности, способность инициировать, планировать и самостоятельно выполнять такую деятельность; интерес к различным сферам профессиональной деятельности, владение универсальными учебными познавательными действиями: базовые логические действия: самостоятельно формулировать и актуализировать проблему, рассматривать ее всесторонне; устанавливать существенный признак или основания для сравнения, классификации и обобщения;	владеть методами доказательств, алгоритмами решения задач; умение формулировать определения, аксиомы и теоремы, применять их, проводить доказательные рассуждения в ходе решения задач; уметь оперировать понятиями: степень числа, логарифм числа; умение выполнять вычисление значений и преобразования выражений со степенями и логарифмами, преобразования дробно-рациональных выражений; уметь оперировать понятиями: рациональные, иррациональные, показательные, степенные, логарифмические, тригонометрические уравнения и неравенства, их системы; уметь оперировать понятиями: функция, непрерывная функция, производная, первообразная, определенный интеграл; уметь находить производные элементарных функций, используя справочные материалы; исследовать в простейших

¹ Указываются личностные и метапредметные результаты из ФГОС СОО (в последней редакции от 12.08.2022) в отглагольной форме, формируемые общеобразовательной дисциплиной

² Дисциплинарные (предметные) результаты указываются в соответствии с их полным перечнем во ФГОС СОО (в последней редакции от 12.08.2022)

	<p>определять цели деятельности, задавать параметры и критерии их достижения; выявлять закономерности и противоречия в рассматриваемых явлениях; вносить коррективы в деятельность, оценивать соответствие результатов целям, оценивать риски последствий деятельности; развивать креативное мышление при решении жизненных проблем базовые исследовательские действия: владеть навыками учебно-исследовательской и проектной деятельности, навыками разрешения проблем; выявлять причинно-следственные связи и актуализировать задачу, выдвигать гипотезу ее решения, находить аргументы для доказательства своих утверждений, задавать параметры и критерии решения; анализировать полученные в ходе решения задачи результаты, критически оценивать их достоверность, прогнозировать изменение в новых условиях; уметь переносить знания в познавательную и практическую области жизнедеятельности; уметь интегрировать знания из разных предметных областей; выдвигать новые идеи, предлагать оригинальные подходы и решения; способность их использования в познавательной и социальной практике</p>	<p>случаях функции на монотонность, находить наибольшие и наименьшие значения функций; строить графики многочленов с использованием аппарата математического анализа; применять производную при решении задач на движение; решать практико-ориентированные задачи на наибольшие и наименьшие значения, нахождение пути, скорости и ускорения; уметь оперировать понятиями: рациональная функция, показательная функция, степенная функция, логарифмическая функция, тригонометрические функции, обратные функции; умение строить графики изученных функций, использовать графики при изучении процессов и зависимостей, при решении задач из других учебных предметов и задач из реальной жизни; выражать формулами зависимости между величинами; уметь решать текстовые задачи разных типов (в том числе на проценты, доли и части, на движение, работу, стоимость товаров и услуг, налоги, задачи из области управления личными и семейными финансами); составлять выражения, уравнения, неравенства и их системы по условию задачи, исследовать полученное решение и оценивать правдоподобность результатов; уметь оперировать понятиями: среднее арифметическое, медиана, наибольшее и наименьшее значения, размах, дисперсия, стандартное отклонение числового набора; уметь извлекать, интерпретировать информацию, представленную в таблицах, на диаграммах, графиках, отражающую свойства реальных процессов и явлений; представлять информацию с помощью таблиц и диаграмм; исследовать статистические данные, в том числе с применением графических методов и электронных средств; уметь оперировать понятиями: случайный опыт и случайное событие, вероятность случайного события; умение вычислять вероятность с</p>
--	---	--

		<p>использованием графических методов; применять формулы сложения и умножения вероятностей, комбинаторные факты и формулы при решении задач; оценивать вероятности реальных событий; знакомство со случайными величинами; умение приводить примеры проявления закона больших чисел в природных и общественных явлениях;</p> <p>уметь оперировать понятиями: точка, прямая, плоскость, пространство, двугранный угол, скрещивающиеся прямые, параллельность и перпендикулярность прямых и плоскостей, угол между прямыми, угол между прямой и плоскостью, угол между плоскостями, расстояние от точки до плоскости, расстояние между прямыми, расстояние между плоскостями; умение использовать при решении задач изученные факты и теоремы планиметрии; умение оценивать размеры объектов окружающего мира;</p> <p>уметь оперировать понятиями: многогранник, сечение многогранника, куб, параллелепипед, призма, пирамида, фигура и поверхность вращения, цилиндр, конус, шар, сфера, сечения фигуры вращения, плоскость, касающаяся сферы, цилиндра, конуса, площадь поверхности пирамиды, призмы, конуса, цилиндра, площадь сферы, объем куба, прямоугольного параллелепипеда, пирамиды, призмы, цилиндра, конуса, шара; умение изображать многогранники и поверхности вращения, их сечения от руки, с помощью чертежных инструментов и электронных средств; умение распознавать симметрию в пространстве; умение распознавать правильные многогранники;</p> <p>уметь оперировать понятиями: движение в пространстве, подобные фигуры в пространстве; использовать отношение площадей поверхностей и объемов подобных фигур при решении задач;</p> <p>уметь вычислять геометрические величины (длина, угол, площадь, объем, площадь поверхности),</p>
--	--	--

		<p>используя изученные формулы и методы;</p> <p>уметь оперировать понятиями: прямоугольная система координат, координаты точки, вектор, координаты вектора, скалярное произведение, угол между векторами, сумма векторов, произведение вектора на число; находить с помощью изученных формул координаты середины отрезка, расстояние между двумя точками;</p> <p>уметь выбирать подходящий изученный метод для решения задачи, распознавать математические факты и математические модели в природных и общественных явлениях, в искусстве; умение приводить примеры математических открытий российской и мировой математической науки.</p> <p>уметь оперировать понятиями: определение, аксиома, теорема, следствие, свойство, признак, доказательство, равносильные формулировки; умение формулировать обратное и противоположное утверждение, приводить примеры и контрпримеры, использовать метод математической индукции; проводить доказательные рассуждения при решении задач, оценивать логическую правильность рассуждений;</p> <p>уметь оперировать понятиями: множество, подмножество, операции над множествами; умение использовать теоретико-множественный аппарат для описания реальных процессов и явлений при решении задач, в том числе из других учебных предметов;</p> <p>уметь оперировать понятиями: граф, связный граф, дерево, цикл, граф на плоскости; умение задавать и описывать графы различными способами; использовать графы при решении задач;</p> <p>уметь свободно оперировать понятиями: сочетание, перестановка, число сочетаний, число перестановок; бином Ньютона; умение применять комбинаторные факты и рассуждения для решения задач;</p> <p>уметь оперировать понятиями: натуральное число, целое число, остаток по модулю, рациональное</p>
--	--	---

		<p>число, иррациональное число, множества натуральных, целых, рациональных, действительных чисел; умение использовать признаки делимости, наименьший общий делитель и наименьшее общее кратное, алгоритм Евклида при решении задач; знакомство с различными позиционными системами счисления; уметь свободно оперировать понятиями: степень с целым показателем, корень натуральной степени, степень с рациональным показателем, степень с действительным (вещественным) показателем, логарифм числа, синус, косинус и тангенс произвольного числа; уметь оперировать понятиями: тождество, тождественное преобразование, уравнение, неравенство, система уравнений и неравенств, равносильность уравнений, неравенств и систем, рациональные, иррациональные, показательные, степенные, логарифмические, тригонометрические уравнения, неравенства и системы; умение решать уравнения, неравенства и системы с помощью различных приемов; решать уравнения, неравенства и системы с параметром; применять уравнения, неравенства, их системы для решения математических задач и задач из различных областей науки и реальной жизни; уметь свободно оперировать понятиями: график функции, обратная функция, композиция функций, линейная функция, квадратичная функция, степенная функция с целым показателем, тригонометрические функции, обратные тригонометрические функции, показательная и логарифмическая функции; умение строить графики функций, выполнять преобразования графиков функций; умение использовать графики функций для изучения процессов и зависимостей при решении задач из других учебных предметов и из реальной жизни; выражать формулами зависимости между величинами;</p>
--	--	--

		<p>умение свободно оперировать понятиями: четность функции, периодичность функции, ограниченность функции, монотонность функции, экстремум функции, наибольшее и наименьшее значения функции на промежутке; умение проводить исследование функции;</p> <p>умение использовать свойства и графики функций для решения уравнений, неравенств и задач с параметрами; изображать на координатной плоскости множества решений уравнений, неравенств и их систем;</p> <p>уметь свободно оперировать понятиями: последовательность, арифметическая прогрессия, геометрическая прогрессия, бесконечно убывающая геометрическая прогрессия; умение задавать последовательности, в том числе с помощью рекуррентных формул;</p> <p>уметь оперировать понятиями: непрерывность функции, асимптоты графика функции, первая и вторая производная функции, геометрический и физический смысл производной, первообразная, определенный интеграл; умение находить асимптоты графика функции; умение вычислять производные суммы, произведения, частного и композиции функций, находить уравнение касательной к графику функции;</p> <p>умение использовать производную для исследования функций, для нахождения наилучшего решения в прикладных, в том числе социально-экономических и физических задачах, для определения скорости и ускорения; находить площади и объемы фигур с помощью интеграла; приводить примеры математического моделирования с помощью дифференциальных уравнений;</p> <p>уметь оперировать понятиями: комплексное число, сопряженные комплексные числа, модуль и аргумент комплексного числа, форма записи комплексных чисел (геометрическая, тригонометрическая и алгебраическая);</p>
--	--	---

		<p>уметь производить арифметические действия с комплексными числами; приводить примеры использования комплексных чисел;</p> <p>уметь свободно оперировать понятиями: среднее арифметическое, медиана, наибольшее и наименьшее значения, размах, дисперсия, стандартное отклонение для описания числовых данных; умение исследовать статистические данные, в том числе с применением графических методов и электронных средств; графически исследовать совместные наблюдения с помощью диаграмм рассеивания и линейной регрессии;</p> <p>уметь находить вероятности событий с использованием графических методов; применять для решения задач формулы сложения и умножения вероятностей, формулу полной вероятности, формулу Бернулли, комбинаторные факты и формулы; оценивать вероятности реальных событий; умение оперировать понятиями: случайная величина, распределение вероятностей, математическое ожидание, дисперсия и стандартное отклонение случайной величины, функции распределения и плотности равномерного, показательного и нормального распределений; умение использовать свойства изученных распределений для решения задач; знакомство с понятиями: закон больших чисел, методы выборочных исследований; умение приводить примеры проявления закона больших чисел в природных и общественных явлениях;</p> <p>уметь свободно оперировать понятиями: точка, прямая, плоскость, пространство, отрезок, луч, плоский угол, двугранный угол, трехгранный угол, пересекающиеся, параллельные и скрещивающиеся прямые, параллельность и перпендикулярность прямых и плоскостей, угол между прямыми, угол между прямой и плоскостью, угол между плоскостями; умение использовать при решении задач изученные факты и теоремы планиметрии; умение оценивать размеры объектов в окружающем мире;</p>
--	--	--

		<p>умение оперировать понятиями: многогранник, сечение многогранника, правильный многогранник, призма, пирамида, фигура и поверхность вращения, цилиндр, конус, шар, сфера, развертка поверхности, сечения конуса и цилиндра, параллельные оси или основанию, сечение шара, плоскость, касающаяся сферы, цилиндра, конуса; умение строить сечение многогранника, изображать многогранники, фигуры и поверхности вращения, их сечения, в том числе с помощью электронных средств; умение применять свойства геометрических фигур, самостоятельно формулировать определения изучаемых фигур, выдвигать гипотезы о свойствах и признаках геометрических фигур, обосновывать или опровергать их; умение проводить классификацию фигур по различным признакам, выполнять необходимые дополнительные построения;</p> <p>- уметь свободно оперировать понятиями: площадь фигуры, объем фигуры, величина угла, расстояние от точки до плоскости, расстояние между прямыми, расстояние между плоскостями, площадь сферы, площадь поверхности пирамиды, призмы, конуса, цилиндра, объем куба, прямоугольного параллелепипеда, пирамиды, призмы, цилиндра, конуса, шара; умение находить отношение объемов подобных фигур;</p> <p>уметь свободно оперировать понятиями: движение, параллельный перенос, симметрия на плоскости и в пространстве, поворот, преобразование подобия, подобные фигуры; умение распознавать равные и подобные фигуры, в том числе в природе, искусстве, архитектуре; умение использовать геометрические отношения, находить геометрические величины (длина, угол, площадь, объем) при решении задач из других учебных предметов и из реальной жизни;</p> <p>уметь свободно оперировать понятиями: прямоугольная система координат, вектор, координаты точки,</p>
--	--	--

		<p>координаты вектора, сумма векторов, произведение вектора на число, разложение вектора по базису, скалярное произведение, векторное произведение, угол между векторами; умение использовать векторный и координатный метод для решения геометрических задач и задач других учебных предметов; оперировать понятиями: матрица 2×2 и 3×3, определитель матрицы, геометрический смысл определителя;</p> <p>уметь моделировать реальные ситуации на языке математики; составлять выражения, уравнения, неравенства и их системы по условию задачи, исследовать построенные модели с использованием аппарата алгебры, интерпретировать полученный результат; строить математические модели с помощью геометрических понятий и величин, решать связанные с ними практические задачи; составлять вероятностную модель и интерпретировать полученный результат; решать прикладные задачи средствами математического анализа, в том числе социально-экономического и физического характера;</p> <p>умение выбирать подходящий метод для решения задачи; понимание значимости математики в изучении природных и общественных процессов и явлений; умение распознавать проявление законов математики в искусстве, умение приводить примеры математических открытий российской и мировой математической науки</p>
<p>ОК 02 Использовать современные средства поиска, анализа и интерпретации информации, и информационные технологии для выполнения задач профессиональной деятельности</p>	<p>В области ценности научного познания:</p> <p>-сформированность мировоззрения, соответствующего современному уровню развития науки и общественной практики, основанного на диалоге культур, способствующего осознанию своего места в поликультурном мире;</p> <p>- совершенствование языковой и читательской культуры как</p>	<p>- уметь оперировать понятиями: рациональная функция, показательная функция, степенная функция, логарифмическая функция, тригонометрические функции, обратные функции; умение строить графики изученных функций, использовать графики при изучении процессов и зависимостей, при решении задач из других учебных предметов и задач из реальной жизни; выражать формулами зависимости между величинами;</p> <p>- уметь оперировать понятиями:</p>

	<p>средства взаимодействия между людьми и познания мира;</p> <p>- осознание ценности научной деятельности, готовность осуществлять проектную и исследовательскую деятельность индивидуально и в группе.</p> <p>Овладение универсальными учебными познавательными действиями:</p> <p>в) работа с информацией:</p> <p>- владеть навыками получения информации из источников разных типов, самостоятельно осуществлять поиск, анализ, систематизацию и интерпретацию информации различных видов и форм представления;</p> <p>- создавать тексты в различных форматах с учетом назначения информации и целевой аудитории, выбирая оптимальную форму представления и визуализации;</p> <p>- оценивать достоверность, легитимность информации, ее соответствие правовым и морально-этическим нормам;</p> <p>- использовать средства информационных и коммуникационных технологий в решении когнитивных, коммуникативных и организационных задач с соблюдением требований эргономики, техники безопасности, гигиены, ресурсосбережения, правовых и этических норм, норм информационной безопасности;</p> <p>- владеть навыками распознавания и защиты информации, информационной безопасности личности</p>	<p>тождество, тождественное преобразование, уравнение, неравенство, система уравнений и неравенств, равносильность уравнений, неравенств и систем, рациональные, иррациональные, показательные, степенные, логарифмические, тригонометрические уравнения, неравенства и системы; уметь решать уравнения, неравенства и системы с помощью различных приемов; решать уравнения, неравенства и системы с параметром; применять уравнения, неравенства, их системы для решения математических задач и задач из различных областей науки и реальной жизни;</p> <p>- уметь свободно оперировать понятиями: движение, параллельный перенос, симметрия на плоскости и в пространстве, поворот, преобразование подобия, подобные фигуры; уметь распознавать равные и подобные фигуры, в том числе в природе, искусстве, архитектуре; уметь использовать геометрические отношения, находить геометрические величины (длина, угол, площадь, объем) при решении задач из других учебных предметов и из реальной жизни</p>
--	---	---

<p>ОК 03 Планировать и реализовывать собственное профессиональное и личностное развитие, предпринимательскую деятельность в профессиональной сфере, использовать знания по правовой и финансовой грамотности в различных жизненных ситуациях</p>	<p>В области духовно-нравственного воспитания:</p> <ul style="list-style-type: none"> -- сформированность нравственного сознания, этического поведения; - способность оценивать ситуацию и принимать осознанные решения, ориентируясь на морально-нравственные нормы и ценности; - осознание личного вклада в построение устойчивого будущего; - ответственное отношение к своим родителям и (или) другим членам семьи, созданию семьи на основе осознанного принятия ценностей семейной жизни в соответствии с традициями народов России; <p>Овладение универсальными регулятивными действиями:</p> <p>а) самоорганизация:</p> <ul style="list-style-type: none"> - самостоятельно осуществлять познавательную деятельность, выявлять проблемы, ставить и формулировать собственные задачи в образовательной деятельности и жизненных ситуациях; - самостоятельно составлять план решения проблемы с учетом имеющихся ресурсов, собственных возможностей и предпочтений; - давать оценку новым ситуациям; способствовать формированию и проявлению широкой эрудиции в разных областях знаний, постоянно повышать свой образовательный и культурный уровень; <p>б) самоконтроль:</p> <ul style="list-style-type: none"> использовать приемы рефлексии для оценки ситуации, выбора верного решения; - уметь оценивать риски и 	<ul style="list-style-type: none"> - уметь оперировать понятиями: рациональные, иррациональные, показательные, степенные, логарифмические, тригонометрические уравнения и неравенства, их системы; - уметь оперировать понятиями: многогранник, сечение многогранника, куб, параллелепипед, призма, пирамида, фигура и поверхность вращения, цилиндр, конус, шар, сфера, сечения фигуры вращения, плоскость, касающаяся сферы, цилиндра, конуса, площадь поверхности пирамиды, призмы, конуса, цилиндра, площадь сферы, объем куба, прямоугольного параллелепипеда, пирамиды, призмы, цилиндра, конуса, шара; умение изображать многогранники и поверхности вращения, их сечения от руки, с помощью чертежных инструментов и электронных средств; уметь распознавать симметрию в пространстве; уметь распознавать правильные многогранники; - уметь оперировать понятиями: прямоугольная система координат, координаты точки, вектор, координаты вектора, скалярное произведение, угол между векторами, сумма векторов, произведение вектора на число; находить с помощью изученных формул координаты середины отрезка, расстояние между двумя точками
--	--	--

	<p>своевременно принимать решения по их снижению;</p> <p>в) эмоциональный интеллект, предполагающий сформированность:</p> <p>внутренней мотивации, включающей стремление к достижению цели и успеху, оптимизм, инициативность, умение действовать, исходя из своих возможностей;</p> <p>- эмпатии, включающей способность понимать эмоциональное состояние других, учитывать его при осуществлении коммуникации, способность к сочувствию и сопереживанию;</p> <p>- социальных навыков, включающих способность выстраивать отношения с другими людьми, заботиться, проявлять интерес и разрешать конфликты</p>	
<p>ОК 04 Эффективно взаимодействовать и работать в коллективе и команде</p>	<p>готовность к саморазвитию, самостоятельности и самоопределению;</p> <p>- овладение навыками учебно-исследовательской, проектной и социальной деятельности;</p> <p>Овладение универсальными коммуникативными действиями:</p> <p>б) совместная деятельность:</p> <p>- понимать и использовать преимущества командной и индивидуальной работы;</p> <p>- принимать цели совместной деятельности, организовывать и координировать действия по ее достижению: составлять план действий, распределять роли с учетом мнений участников обсуждать результаты совместной работы;</p> <p>- координировать и выполнять работу в условиях реального, виртуального и комбинированного взаимодействия;</p> <p>- осуществлять позитивное стратегическое поведение в</p>	<p>- уметь оперировать понятиями: случайный опыт и случайное событие, вероятность случайного события; уметь вычислять вероятность с использованием графических методов; применять формулы сложения и умножения вероятностей, комбинаторные факты и формулы при решении задач; оценивать вероятности реальных событий; знакомство со случайными величинами; умение приводить примеры проявления закона больших чисел в природных и общественных явлениях;</p> <p>- уметь свободно оперировать понятиями: степень с целым показателем, корень натуральной степени, степень с рациональным показателем, степень с действительным (вещественным) показателем, логарифм числа, синус, косинус и тангенс произвольного числа;</p> <p>- уметь свободно оперировать понятиями: график функции, обратная функция, композиция функций, линейная функция, квадратичная функция, степенная функция с целым показателем, тригонометрические функции, обратные</p>

	<p>различных ситуациях, проявлять творчество и воображение, быть инициативным. Овладение универсальными регулятивными действиями:</p> <p>г) принятие себя и других людей:</p> <ul style="list-style-type: none"> - принимать мотивы и аргументы других людей при анализе результатов деятельности; - признавать свое право и право других людей на ошибки; - развивать способность понимать мир с позиции другого человека 	<p>тригонометрические функции, показательная и логарифмическая функции; уметь строить графики функций, выполнять преобразования графиков функций;</p> <ul style="list-style-type: none"> - уметь использовать графики функций для изучения процессов и зависимостей при решении задач из других учебных предметов и из реальной жизни; выражать формулами зависимости между величинами; - свободно оперировать понятиями: четность функции, периодичность функции, ограниченность функции, монотонность функции, экстремум функции, наибольшее и наименьшее значения функции на промежутке; уметь проводить исследование функции; - уметь использовать свойства и графики функций для решения уравнений, неравенств и задач с параметрами; изображать на координатной плоскости множества решений уравнений, неравенств и их систем
<p>ОК 05 Осуществлять устную и письменную коммуникацию на государственном языке Российской Федерации с учетом особенностей социального и культурного контекста</p>	<p>В области эстетического воспитания:</p> <ul style="list-style-type: none"> - эстетическое отношение к миру, включая эстетику быта, научного и технического творчества, спорта, труда и общественных отношений; - способность воспринимать различные виды искусства, традиции и творчество своего и других народов, ощущать эмоциональное воздействие искусства; - убежденность в значимости для личности и общества отечественного и мирового искусства, этнических культурных традиций и народного творчества; - готовность к самовыражению в разных видах искусства, стремление проявлять качества творческой личности; <p>Овладение универсальными коммуникативными действиями:</p>	<ul style="list-style-type: none"> - уметь оперировать понятиями: среднее арифметическое, медиана, наибольшее и наименьшее значения, размах, дисперсия, стандартное отклонение числового набора; умение извлекать, интерпретировать информацию, представленную в таблицах, на диаграммах, графиках, отражающую свойства реальных процессов и явлений; представлять информацию с помощью таблиц и диаграмм; исследовать статистические данные, в том числе с применением графических методов и электронных средств; - уметь оперировать понятиями: точка, прямая, плоскость, пространство, двугранный угол, скрещивающиеся прямые, параллельность и перпендикулярность прямых и плоскостей, угол между прямыми, угол между прямой и плоскостью, угол между плоскостями, расстояние от точки до плоскости, расстояние между прямыми, расстояние между плоскостями; - уметь использовать при решении

	<p>а) общение:</p> <ul style="list-style-type: none"> - осуществлять коммуникации во всех сферах жизни; - распознавать невербальные средства общения, понимать значение социальных знаков, распознавать предпосылки конфликтных ситуаций и смягчать конфликты; - развернуто и логично излагать свою точку зрения с использованием языковых средств 	<p>задач изученные факты и теоремы планиметрии; умение оценивать размеры объектов окружающего мира</p>
<p>ОК 06 Проявлять гражданско-патриотическую позицию, демонстрировать осознанное поведение на основе традиционных российских духовно-нравственных ценностей, в том числе с учетом гармонизации межнациональных и межрелигиозных отношений, применять стандарты антикоррупционного поведения</p>	<ul style="list-style-type: none"> - осознание обучающимися российской гражданской идентичности; - целенаправленное развитие внутренней позиции личности на основе духовно-нравственных ценностей народов Российской Федерации, исторических и национально-культурных традиций, формирование системы значимых ценностно-смысловых установок, антикоррупционного мировоззрения, правосознания, экологической культуры, способности ставить цели и строить жизненные планы; В части гражданского воспитания: <ul style="list-style-type: none"> - осознание своих конституционных прав и обязанностей, уважение закона и правопорядка; - принятие традиционных национальных, общечеловеческих гуманистических и демократических ценностей; - готовность противостоять идеологии экстремизма, национализма, ксенофобии, дискриминации по социальным, религиозным, расовым, национальным признакам; - готовность вести совместную деятельность в интересах гражданского общества, 	<ul style="list-style-type: none"> - уметь оперировать понятиями: прямоугольная система координат, координаты точки, вектор, координаты вектора, скалярное произведение, угол между векторами, сумма векторов, произведение вектора на число; находить с помощью изученных формул координаты середины отрезка, расстояние между двумя точками; - уметь выбирать подходящий изученный метод для решения задачи, распознавать математические факты и математические модели в природных и общественных явлениях, в искусстве; умение приводить примеры математических открытий российской и мировой математической науки. - уметь оперировать понятиями: случайный опыт и случайное событие, вероятность случайного события; уметь вычислять вероятность с использованием графических методов; применять формулы сложения и умножения вероятностей, комбинаторные факты и формулы при решении задач; оценивать вероятности реальных событий; знакомство со случайными величинами; умение приводить примеры проявления закона больших чисел в природных и общественных явлениях

	<p>участвовать в самоуправлении в общеобразовательной организации и детско-юношеских организациях;</p> <ul style="list-style-type: none"> - умение взаимодействовать с социальными институтами в соответствии с их функциями и назначением; - готовность к гуманитарной и волонтерской деятельности; <p>патриотического воспитания:</p> <ul style="list-style-type: none"> - сформированность российской гражданской идентичности, патриотизма, уважения к своему народу, чувства ответственности перед Родиной, гордости за свой край, свою Родину, свой язык и культуру, прошлое и настоящее многонационального народа России; - ценностное отношение к государственным символам, историческому и природному наследию, памятникам, традициям народов России, достижениям России в науке, искусстве, спорте, технологиях и труде; - идейная убежденность, готовность к служению и защите Отечества, ответственность за его судьбу; освоенные обучающимися межпредметные понятия и универсальные учебные действия (регулятивные, познавательные, коммуникативные); - способность их использования в познавательной и социальной практике, готовность к самостоятельному планированию и осуществлению учебной деятельности, организации учебного сотрудничества с педагогическими работниками и сверстниками, к участию в построении индивидуальной образовательной траектории; 	
--	--	--

	- овладение навыками учебно-исследовательской, проектной и социальной деятельности	
ОК 07 Содействовать сохранению окружающей среды, ресурсосбережению, применять знания об изменении климата, принципы бережливого производства, эффективно действовать в чрезвычайных ситуациях	<ul style="list-style-type: none"> - не принимать действия, приносящие вред окружающей среде; - уметь прогнозировать неблагоприятные экологические последствия предпринимаемых действий, предотвращать их; - расширить опыт деятельности экологической направленности; - разрабатывать план решения проблемы с учетом анализа имеющихся материальных и нематериальных ресурсов; - осуществлять целенаправленный поиск переноса средств и способов действия в профессиональную среду; - уметь переносить знания в познавательную и практическую области жизнедеятельности; - предлагать новые проекты, оценивать идеи с позиции новизны, оригинальности, практической значимости; - давать оценку новым ситуациям, вносить коррективы в деятельность, оценивать соответствие результатов целям 	<ul style="list-style-type: none"> - уметь оперировать понятиями: функция, непрерывная функция, производная, первообразная, определенный интеграл; уметь находить производные элементарных функций, используя справочные материалы; исследовать в простейших случаях функции на монотонность, находить наибольшие и наименьшие значения функций; строить графики многочленов с использованием аппарата математического анализа; применять производную при решении задач на движение; решать практико-ориентированные задачи на наибольшие и наименьшие значения, нахождение пути, скорости и ускорения; - уметь оперировать понятиями: движение в пространстве, подобные фигуры в пространстве; использовать отношение площадей поверхностей и объемов подобных фигур при решении задач; - уметь вычислять геометрические величины (длина, угол, площадь, объем, площадь поверхности), используя изученные формулы и методы

2. СТРУКТУРА И СОДЕРЖАНИЕ ОБЩЕОБРАЗОВАТЕЛЬНОЙ ДИСЦИПЛИНЫ

2.1. Объем учебной дисциплины и виды учебной работы

Вид учебной работы	Объем в часах*
Объем образовательной программы дисциплины	324
в т.ч.	
Основное содержание	244
в т. ч.:	
теоретическое обучение	184
практические занятия	60

Профессионально-ориентированное содержание (содержание прикладного модуля)	54
в т. ч.:	
теоретическое обучение	4
практические занятия	50
Индивидуальный проект <i>да</i>	
Самостоятельная работа	16
Консультации	2
Промежуточная аттестация 1 семестр другие формы контроля	2
Промежуточная аттестация 2 семестр экзамен	6

2.2. Тематический план и содержание дисциплины

Наименование разделов и тем	Содержание учебного материала (основное и профессионально-ориентированное), лабораторные и практические занятия, прикладной модуль (при наличии)	Объем часов	Формируемые компетенции
1	2	3	4
Основное содержание			
Раздел 1. Повторение курса математики основной школы		20	ОК-01, ОК-02, ОК-03, ОК-04, ОК-05, ОК-06, ОК-07
Тема 1.1 Цель и задачи математики при освоении специальности	Содержание учебного материала	2	
	Базовые знания и умения по математике в профессиональной и в повседневной деятельности.		
	Комбинированное занятие		
Тема 1.2 Числа и вычисления. Выражения и преобразования	Содержание учебного материала	2	
	Действия над положительными и отрицательными числами, обыкновенными и десятичными дробями.		
	Действия со степенями, формулы сокращенного умножения.		
	Комбинированное занятие		
Тема 1.3. Геометрия на плоскости	Профессионально-ориентированное содержание (содержание прикладного модуля)	2	
	Виды плоских фигур и их площадь. Практико-ориентированные задачи в курсе геометрии на плоскости		
	Практическое занятие		
Тема 1.4 Процентные вычисления	Содержание учебного материала	4	
	Простые проценты, разные способы их вычисления. Сложные проценты		
	Практическое занятие		
Тема 1.5 Уравнения и неравенства	Содержание учебного материала	2	
	Линейные, квадратные, дробно-линейные уравнения и неравенства		
	Практическое занятие		
Тема 1.6 Системы уравнений и	Содержание учебного материала		
	Способы решения систем линейных уравнений. Понятия: матрица 2x2 и 3x3,		

неравенств	определитель матрицы. Метод Гаусса. Системы нелинейных уравнений. Системы неравенств	6	
	Комбинированное занятие		
Тема 1.7 Входной контроль	Содержание учебного материала	2	
	Вычисления и преобразования. Уравнения и неравенства. Геометрия на плоскости		
	Контрольная работа		
Раздел 2 Прямые и плоскости в пространстве		18	ОК-01, ОК-03, ОК-04, ОК-07
Тема 2.1. Основные понятия стереометрии. Расположение прямых и плоскостей	Содержание учебного материала	2	
	Предмет стереометрии. Основные понятия (точка, прямая, плоскость, пространство). Основные аксиомы стереометрии. Пересекающиеся, параллельные и скрещивающиеся прямые. Признак и свойство скрещивающихся прямых. Основные пространственные фигуры.		
	Комбинированное занятие		
Тема 2.2. Параллельность прямых, прямой и плоскости, плоскостей	Содержание учебного материала	4	
	Параллельные прямая и плоскость. Определение. Признак. Свойства (с доказательством). Параллельные плоскости. Определение. Признак. Свойства (с доказательством). Тетраэдр и его элементы. Параллелепипед и его элементы. Свойства противоположных граней и диагоналей параллелепипеда. Построение сечений. Решение задач.		
	Комбинированное занятие		
Тема 2.3. Перпендикулярность прямых, прямой и плоскости, плоскостей	Содержание учебного материала	2	
	Перпендикулярные прямые. Параллельные прямые, перпендикулярные к плоскости. Признак перпендикулярности прямой и плоскости. Доказательство. Перпендикуляр и наклонная. Перпендикулярные плоскости. Признак перпендикулярности плоскостей. Доказательство.		
	Расстояния в пространстве		
	Комбинированное занятие		
Тема 2.4. Теорема о трех перпендикулярах	Содержание учебного материала	4	
	Теорема о трех перпендикулярах. Доказательство. Угол между прямой и плоскостью. Угол между плоскостями		
	Комбинированное занятие		
Тема 2.5.	Профессионально-ориентированное содержание (содержание прикладного		

Параллельные, перпендикулярные, скрещивающиеся прямые	модуля)	4	
	Аксиомы стереометрии. Перпендикулярность прямой и плоскости, параллельность двух прямых, перпендикулярных плоскости, перпендикулярность плоскостей		
	Практическое занятие		
Тема 2.6. Решение задач. Прямые и плоскости в пространстве	Содержание учебного материала	2	
	Расположение прямых и плоскостей в пространстве. Перпендикулярность и параллельность прямых и плоскостей. Скрещивающиеся прямые		
	Контрольная работа		
Раздел 3. Координаты и векторы		10	ОК-02, ОК-03, ОК-04, ОК-07
Тема 3.1 Декартовы координаты в пространстве. Расстояние между двумя точками. Координаты середины отрезка	Содержание учебного материала	2	
	Декартовы координаты в пространстве. Простейшие задачи в координатах. Расстояние между двумя точками, координаты середины отрезка		
	Комбинированное занятие		
Тема 3.2 Векторы в пространстве. Угол между векторами. Скалярное произведение векторов	Содержание учебного материала	2	
	Векторы в пространстве. Сложение и вычитание векторов. Умножение вектора на число. Компланарные векторы. Скалярное произведение векторов. Разложение вектора по трем некопланарным векторам. Координаты вектора, скалярное произведение векторов в координатах, угол между векторами, угол между прямой и плоскостью, угол между плоскостями. Уравнение плоскости. Геометрический смысл определителя 2×2		
	Комбинированное занятие		
Тема 3.3 Практико-ориентированные задачи на координатной плоскости	Профессионально-ориентированное содержание (содержание прикладного модуля)	4	
	Координатная плоскость. Вычисление расстояний и площадей на плоскости. Количественные расчеты		
	Практическое занятие		
Тема 3.4 Решение задач. Координаты и векторы	Содержание учебного материала		
	Декартовы координаты в пространстве. Векторы в пространстве. Сложение и вычитание векторов. Умножение вектора на число. Компланарные векторы. Скалярное произведение векторов. Разложение вектора по трем некопланарным векторам. Простейшие задачи в координатах. Координаты вектора, расстояние между точками, координаты середины отрезка, скалярное		

	произведение векторов в координатах, угол между векторами, угол между прямой и плоскостью, угол между плоскостями	2	
	Контрольная работа		
Раздел 4. Основы тригонометрии. Тригонометрические функции		32	ОК-01, ОК-02, ОК-03, ОК-04, ОК-05, ОК-06, ОК-07
Тема 4.1 Тригонометрические функции произвольного угла, числа. Радианная и градусная мера угла	Содержание учебного материала Радианная мера угла. Поворот точки вокруг начала координат. Определение синуса, косинуса, тангенса и котангенса. Знаки синуса, косинуса, тангенса и котангенса по четвертям. Зависимость между синусом, косинусом, тангенсом и котангенсом одного и того же угла	4	
	Комбинированное занятие		
Тема 4.2 Основные тригонометрические тождества. Формулы приведения	Содержание учебного материала Тригонометрические тождества. Синус, косинус, тангенс и котангенс углов α и $-\alpha$. Формулы приведения	4	
	Комбинированное занятие		
Тема 4.3 Синус, косинус, тангенс суммы и разности двух углов Синус и косинус двойного угла. Формулы половинного угла	Содержание учебного материала Сумма и разность синусов. Сумма и разность косинусов. Синус и косинус двойного угла. Формулы половинного угла. Преобразования суммы тригонометрических функций в произведение и произведения в сумму. Выражение тригонометрических функций через тангенс половинного аргумента. Преобразования простейших тригонометрических выражений	4	
	Комбинированное занятие		
Тема 4.4 Функции, их свойства. Способы задания функций	Содержание учебного материала Область определения и множество значений функций. Чётность, нечётность, периодичность функций. Способы задания функций	2	
	Комбинированное занятие		
Тема 4.5 Тригонометрические функции, их свойства и графики	Содержание учебного материала Область определения и множество значений тригонометрических функций. Чётность, нечётность, периодичность тригонометрических функций. Свойства и графики функций $y = \cos x$, $y = \sin x$, $y = \operatorname{tg} x$, $y = \operatorname{ctg} x$.	2	
	Комбинированное занятие.		
Тема 4.6	Содержание учебного материала		

Преобразование графиков тригонометрических функций	Сжатие и растяжение графиков тригонометрических функций. Преобразование графиков тригонометрических функций	2	
	Практическое занятие		
Тема 4.7 Описание производственных процессов с помощью графиков функций	Профессионально-ориентированное содержание (содержание прикладного модуля)	4	
	Использование свойств тригонометрических функций в профессиональных задачах Практическое занятие		
Тема 4.8 Обратные тригонометрические функции	Содержание учебного материала Обратные тригонометрические функции. Их свойства и графики	2	
	Комбинированное занятие		
Тема 4.9 Тригонометрические уравнения и неравенства	Содержание учебного материала Уравнение $\cos x = a$. Уравнение $\sin x = a$. Уравнение $\operatorname{tg} x = a$, $\operatorname{ctg} x = a$. Решение тригонометрических уравнений основных типов: простейшие тригонометрические уравнения, сводящиеся к квадратным, решаемые разложением на множители, однородные. Простейшие тригонометрические неравенства	4	
	Комбинированное занятие.		
Тема 4.10 Системы тригонометрических уравнений	Содержание учебного материала Системы простейших тригонометрических уравнений	2	
	Комбинированное занятие		
Тема 4.11 Решение задач. Основы тригонометрии. Тригонометрические функции	Содержание учебного материала Преобразование тригонометрических выражений. Решение тригонометрических уравнений и неравенств в том числе с использованием свойств функций.	2	
	Контрольная работа		
Раздел 5. Комплексные числа		6	
Тема 5.1 Комплексные числа	Содержание учебного материала Понятие комплексного числа. Сопряженные комплексные числа, модуль и аргумент комплексного числа. Форма записи комплексного числа (геометрическая, тригонометрическая, алгебраическая). Арифметические действия с комплексными числами	2	
	Комбинированное занятие		
Тема 5.2 Применение комплексных	Содержание учебного материала Выполнение расчетов с помощью комплексных чисел. Примеры		

чисел	использования комплексных чисел	4	
	Практическое занятие		
Раздел 6. Производная функции, ее применение		32	ОК-01, ОК-02, ОК-03, ОК-04, ОК-05, ОК-06, ОК-07
Тема 6.1 Понятие производной. Формулы и правила дифференцирования	Содержание учебного материала	2	
	Определение числовой последовательности и способы ее задания. Свойства числовых последовательностей. Определение предела последовательности. Вычисление пределов последовательностей. Предел функции на бесконечности. Предел функции в точке. Приращение аргумента. Приращение функции. Задачи, приводящие к понятию производной. Определение производной. Алгоритм отыскания производной		
	Комбинированное занятие		
Тема 6.2 Производные суммы, разности произведения, частного	Содержание учебного материала	2	
	Формулы дифференцирования. Правила дифференцирования		
	Комбинированное занятие		
Тема 6.3 Производные тригонометрических функций. Производная сложной функции	Содержание учебного материала	2	
	Определение сложной функции. Производная тригонометрических функций. Производная сложной функции		
	Комбинированное занятие		
Тема 6.4 Понятие о непрерывности функции. Метод интервалов	Содержание учебного материала	2	
	Понятие непрерывной функции. Свойства непрерывной функции. Связь между непрерывностью и дифференцируемостью функции в точке. Алгоритм решения неравенств методом интервалов		
	Комбинированное занятие		
Тема 6.5 Геометрический и физический смысл производной	Содержание учебного материала	4	
	Геометрический смысл производной функции – угловой коэффициент касательной к графику функции в точке. Уравнение касательной к графику функции. Алгоритм составления уравнения касательной к графику функции $y=f(x)$		
	Комбинированное занятие		
Тема 6.6 Физический смысл производной в профессиональных задачах	Содержание учебного материала	2	
	Физический (механический) смысл производной – мгновенная скорость в момент времени t : $v = S'(t)$		
	Практическое занятие		
Тема 6.7	Содержание учебного материала		

Монотонность функции. Точки экстремума	Возрастание и убывание функции, соответствие возрастания и убывания функции знаку производной. Понятие производной высшего порядка, соответствие знака второй производной выпуклости (вогнутости) функции на отрезке. Задачи на максимум и минимум. Понятие асимптоты, способы их определения. Алгоритм исследования функции и построения ее графика с помощью производной. Дробно-линейная функция	4	
Тема 6.8 Исследование функций и построение графиков	Содержание учебного материала	4	
	Исследование функции на монотонность и построение графиков.		
	Комбинированное занятие		
Тема 6.9 Наибольшее и наименьшее значения функции	Содержание учебного материала	2	
	Нахождение наибольшего и наименьшего значений функций, построение графиков многочленов с использованием аппарата математического анализа		
	Комбинированное занятие		
Тема 6.10 Нахождение оптимального результата с помощью производной в практических задачах	Профессионально-ориентированное содержание (содержание прикладного модуля)	6	
	Наименьшее и наибольшее значение функции		
	Практическое занятие		
Тема 6.11 Решение задач. Производная функции, ее применение	Содержание учебного материала	2	
	Формулы и правила дифференцирования. Исследование функций с помощью производной. Наибольшее и наименьшее значения функции		
	Контрольная работа		
Промежуточная аттестация 1 семестр	другие формы контроля	2	
Раздел 7. Многогранники и тела вращения		46	
Тема 7.1 Вершины, ребра, грани многогранника	Содержание учебного материала	2	ОК-01, ОК-02, ОК-03, ОК-04, ОК-05, ОК-06, ОК-07
	Понятие многогранника. Его элементы: вершины, ребра, грани. Диагональ. Сечение. Выпуклые и невыпуклые многогранники		
	Комбинированное занятие		
Тема 7.2 Призма, ее составляющие, сечение. Прямая и правильная призмы	Содержание учебного материала	2	
	Понятие призмы. Ее основания и боковые грани. Высота призмы. Прямая и наклонная призма. Правильная призма. Ее сечение		
	Комбинированное занятие		

Тема 7.3 Параллелепипед, куб. Сечение куба, параллелепипеда	Содержание учебного материала	2	
	Параллелепипед, свойства прямоугольного параллелепипеда, куб. Сечение куба, параллелепипеда		
	Комбинированное занятие		
Тема 7.4 Пирамида, ее составляющие, сечение. Правильная пирамида. Усеченная пирамида	Содержание учебного материала	2	
	Пирамида и ее элементы. Сечение пирамиды. Правильная пирамида. Усеченная пирамида		
	Комбинированное занятие		
Тема 7.5 Боковая и полная поверхность призмы, пирамиды	Содержание учебного материала	2	
	Площадь боковой и полной поверхности призмы, пирамиды		
	Комбинированное занятие		
Тема 7.6 Симметрия в кубе, параллелепипеде, пирамиде, призме,	Содержание учебного материала	2	
	Симметрия относительно точки, прямой, плоскости. Симметрия в кубе, параллелепипеде, призме, пирамиде		
	Комбинированное занятие		
Тема 7.7 Примеры симметрий в профессии	Профессионально-ориентированное содержание (содержание прикладного модуля)	6	
	Симметрия в природе, архитектуре, технике, в быту		
	Практическое занятие		
Тема 7.8 Правильные многогранники, их свойства	Содержание учебного материала	2	
	Понятие правильного многогранника. Свойства правильных многогранников		
	Практическое занятие		
Тема 7.9 Цилиндр, его составляющие. Сечение цилиндра	Содержание учебного материала	2	
	Цилиндр и его элементы. Сечение цилиндра (параллельное основанию и оси). Развертка цилиндра		
	Комбинированное занятие		
Тема 7.10 Конус, его составляющие. Сечение конуса	Профессионально-ориентированное содержание (содержание прикладного модуля)	4	
	Конус и его элементы. Сечение конуса (параллельное основанию и проходящее через вершину), конические сечения. Развертка конуса		
	Комбинированное занятие		
Тема 7.11 Усеченный конус. Сечение усеченного конуса	Содержание учебного материала	2	
	Усеченный конус. Его образующая и высота. Сечение усеченного конуса		
	Комбинированное занятие		
Тема 7.12	Содержание учебного материала		

Шар и сфера, их сечения	Шар и сфера. Взаимное расположение сферы и плоскости. Сечение шара, сферы Комбинированное занятие	2	
Тема 7.13 Понятие об объеме тела. Отношение объемов подобных тел	Содержание учебного материала	2	
	Понятие об объеме тела. Объем куба и прямоугольного параллелепипеда. Объем призмы и цилиндра. Отношение объемов подобных тел. Геометрический смысл определителя 3-го порядка Комбинированное занятие		
	<i>Самостоятельная работа – решение задач по теме</i>	2	
Тема 7.14 Объемы и площади поверхностей тел	Содержание учебного материала	2	
	Объемы пирамиды и конуса. Объем шара. Площади поверхностей тел Комбинированное занятие		
Тема 7.15 Комбинации многогранников и тел вращения	Содержание учебного материала	4	
	Комбинации геометрических тел Практическое занятие		
Тема 7.16 Геометрические комбинации на практике	Содержание учебного материала	4	
	Использование комбинаций многогранников и тел вращения в практико-ориентированных задачах Практическое занятие		
Тема 7.17 Решение задач. Многогранники и тела вращения	Содержание учебного материала	2	
	Объемы и площади поверхности многогранников и тел вращения Контрольная работа		
Раздел 8. Первообразная функции, ее применение		14	
Тема 8.1 Первообразная функции. Правила нахождения первообразных	Содержание учебного материала	2	ОК-01, ОК-02, ОК-03, ОК-04, ОК-05, ОК-06, ОК-07
	Задача о восстановлении закона движения по известной скорости. Понятие интегрирования. Ознакомление с понятием интеграла и первообразной для функции $y=f(x)$. Решение задач на связь первообразной и ее производной, вычисление первообразной для данной функции. Таблица формул для нахождения первообразных. Изучение правила вычисления первообразной Комбинированное занятие		
Тема 8.2 Площадь криволинейной трапеции. Формула Ньютона – Лейбница	Содержание учебного материала Задачи, приводящие к понятию определенного интеграла – о вычислении площади криволинейной трапеции, о перемещении точки. Понятие определённого интеграла. Геометрический и физический смысл определённого интеграла. Формула Ньютона– Лейбница	2	

	Комбинированное занятие		
Тема 8.3 Неопределенный и определенный интегралы	Содержание учебного материала	2	
	Понятие неопределенного интеграла		
	Комбинированное занятие		
Тема 8.4 Понятие об определенном интеграле как площади криволинейной трапеции	Содержание учебного материала	2	
	Геометрический смысл определенного интеграла		
	Комбинированное занятие		
Тема 8.5 Определенный интеграл в жизни	Профессионально-ориентированное содержание (содержание прикладного модуля)	4	
	Геометрический смысл определенного интеграла. Формула Ньютона - Лейбница. Решение задач на применение интеграла для вычисления физических величин и площадей		
	Практическое занятие		
Тема 8.6 Решение задач. Первообразная функции, ее применение	Содержание учебного материала	2	
	Первообразная функции. Правила нахождения первообразных. Ее применение		
	Контрольная работа		
Раздел 9. Степени и корни. Степенная функция		18	
Тема 9.1 Степенная функция, ее свойства	Содержание учебного материала	4	
	Понятие корня n-ой степени из действительного числа. Функции $y = \sqrt[n]{x}$ их свойства и графики. Свойства корня n-ой степени		
	Комбинированное занятие		
Тема 9.2 Преобразование выражений с корнями n-ой степени	Содержание учебного материала	2	ОК-01, ОК-02, ОК-03, ОК-04, ОК-05, ОК-07
	Преобразование иррациональных выражений		
	Комбинированное занятие		
	<i>Самостоятельная работа – решение задач по теме</i>	2	
Тема 9.3 Свойства степени с рациональным и действительным показателями	Содержание учебного материала	2	
	Понятие степени с любым рациональным показателем. Степенные функции, их свойства и графики		
	Комбинированное занятие		
Тема 9.4 Решение иррациональных уравнений и неравенств	Содержание учебного материала	4	
	Равносильность иррациональных уравнений и неравенств. Методы их решения. Решение иррациональных уравнений и неравенств		
	Комбинированное занятие		

	<i>Самостоятельная работа – решение задач по теме</i>	2	
Тема 9.5 Степени и корни. Степенная функция	Содержание учебного материала	2	
	Определение степенной функции. Использование ее свойств при решении уравнений и неравенств		
	Контрольная работа		
Раздел 10. Показательная функция		18	
Тема 10.1 Показательная функция, ее свойства	Содержание учебного материала	4	
	Степень с произвольным действительным показателем. Определение показательной функции, ее свойства и график. Знакомство с применением показательной функции. Решение показательных уравнений функционально-графическим методом		
	Комбинированное занятие		
Тема 10.2 Решение показательных уравнений и неравенств	Содержание учебного материала	8	ОК-01, ОК-02, ОК-03, ОК-04, ОК-05, ОК-07
	Решение показательных уравнений методом уравнивания показателей, методом введения новой переменной, функционально-графическим методом. Решение показательных неравенств		
	Практическое занятие		
Тема 10.3 Системы показательных уравнений	Содержание учебного материала	4	
	Решение систем показательных уравнений		
	Комбинированное занятие		
Тема 10.4 Решение задач. Показательная функция	Содержание учебного материала	2	
	Решение показательных уравнений методом уравнивания показателей и методом введения новой переменной. Решение показательных неравенств		
	Контрольная работа		
Раздел 11. Логарифмы. Логарифмическая функция		30	
Тема 11.1 Логарифм числа. Десятичный и натуральный логарифмы, число e	Содержание учебного материала	4	ОК-01, ОК-02, ОК-03, ОК-04, ОК-05, ОК-07
	Логарифм числа. Десятичный и натуральный логарифмы, число e		
	Комбинированное занятие		
Тема 11.2 Свойства логарифмов. Операция логарифмирования	Содержание учебного материала	4	
	Свойства логарифмов. Операция логарифмирования.		
	Комбинированное занятие		
	<i>Самостоятельная работа – решение задач по теме</i>	2	
Тема 11.3 Логарифмическая функция, ее	Содержание учебного материала		
	Логарифмическая функция и ее свойства		

свойства	Комбинированное занятие	4	
Тема 11.4 Решение логарифмических уравнений и неравенств	Содержание учебного материала	8	
	Понятие логарифмического уравнения. Операция потенцирования. Три основных метода решения логарифмических уравнений: функционально-графический, метод потенцирования, метод введения новой переменной. Логарифмические неравенства		
	Комбинированное занятие		
Тема 11.5 Системы логарифмических уравнений	Содержание учебного материала	2	
	Алгоритм решения системы уравнений. Равносильность логарифмических уравнений и неравенств		
	Комбинированное занятие		
Тема 11.6 Логарифмы в природе и технике	Профессионально-ориентированное содержание (содержание прикладного модуля)	4	
	Применение логарифма. Логарифмическая спираль в природе. Ее математические свойства		
	Практическое занятие		
Тема 11.7 Решение задач. Логарифмы. Логарифмическая функция	Содержание учебного материала	2	
	Логарифмическая функция. Решение простейших логарифмических уравнений		
	Контрольная работа		
Раздел 12. Множества. Элементы теории графов		10	
Тема 12.1 Множества	Содержание учебного материала	2	
	Понятие множества. Подмножество. Операции с множествами		
	Комбинированное занятие		
Тема 12.2 Операции с множествами	Профессионально-ориентированное содержание (содержание прикладного модуля)	2	
	Операции с множествами. Решение прикладных задач		
	Практическое занятие		
Тема 12.3 Графы	Содержание учебного материала	4	
	Понятие графа. Связный граф, дерево, цикл граф на плоскости		
	Практическая работа		
Тема 12.4 Решение задач. Множества, Графы и их применение	Содержание учебного материала	2	
	Операции с множествами. Описание реальных ситуаций с помощью множеств. Применение графов к решению задач		
	Контрольная работа		
Раздел 13. Элементы комбинаторики, статистики и теории вероятностей		26	ОК-01, ОК-02,

Тема 13.1 Основные комбинаторики	понятия	Содержание учебного материала	4	ОК-03, ОК-04, ОК-05, ОК-07
		Перестановки, размещения, сочетания.		
		Комбинированное занятие.		
Тема 13.2 Событие, вероятность события. Сложение и умножение вероятностей		Содержание учебного материала	4	
		Совместные и несовместные события. Теоремы о вероятности суммы событий. Условная вероятность. Зависимые и независимые события. Теоремы о вероятности произведения событий.		
		Комбинированное занятие		
Тема 13.3 Вероятность профессиональных задачах	в	Профессионально-ориентированное содержание (содержание прикладного модуля)	4	
		Относительная частота события, свойство ее устойчивости. Статистическое определение вероятности. Оценка вероятности события		
		Практическое занятие		
Тема 13.4 Дискретная величина, распределения	случайная закон ее	Содержание учебного материала	4	
		Виды случайных величин. Определение дискретной случайной величины. Закон распределения дискретной случайной величины. Ее числовые характеристики		
		Комбинированное занятие		
Тема 13.5 Задачи статистики	математической	Содержание учебного материала	4	
		Вариационный ряд. Полигон частот и гистограмма. Статистические характеристики ряда наблюдаемых данных		
		Комбинированное занятие		
Тема 13.6 Составление таблиц и диаграмм на практике		Профессионально-ориентированное содержание (содержание прикладного модуля)	4	
		Первичная обработка статистических данных. Графическое их представление. Нахождение средних характеристик, наблюдаемых данных		
		Практическое занятие		
Тема 13.7 Решение задач. Элементы комбинаторики, статистики и теории вероятностей		Содержание учебного материала	2	
		Элементы комбинаторики. Событие, вероятность события. Сложение и умножение вероятностей		
		Контрольная работа		
Раздел 14. Уравнения и неравенства			28	ОК-01, ОК-02, ОК-03, ОК-04, ОК-05, ОК-06,
Тема 14.1 Равносильность уравнений и	Содержание учебного материала			
	Равносильность уравнений и неравенств. Определения. Основные теоремы			

неравенств. Общие методы решения	равносильных переходах в уравнениях и неравенствах. Общие методы решения уравнений: переход от равенства функций к равенству аргументов для монотонных функций, метод разложения на множители, метод введения новой переменной, функционально-графический метод	4	ОК-07
	Комбинированное занятие		
Тема 14.2 Графический метод решения уравнений, неравенств	Содержание учебного материала	4	
	Общие методы решения неравенств: переход от сравнения значений функций к сравнению значений аргументов для монотонных функций, метод интервалов, функционально-графический метод. Графический метод решения уравнений и неравенств		
	Комбинированное занятие		
Тема 14.3 Уравнения и неравенства с модулем	Содержание учебного материала	4	
	Определение модуля. Раскрытие модуля по определению. Простейшие уравнения и неравенства с модулем. Применение равносильных переходов в определенных типах уравнений и неравенств с модулем		
	Комбинированное занятие		
Тема 14.4 Уравнения и неравенства с параметрами	Содержание учебного материала	8	
	Знакомство с параметром. Простейшие уравнения и неравенства с параметром		
	Комбинированное занятие		
Тема 14.5 Составление и решение профессиональных задач с помощью уравнений	Профессионально-ориентированное содержание (содержание прикладного модуля)	6	
	Решение текстовых задач профессионального содержания		
	Практические занятия		
Тема 14.6 Решение задач. Уравнения и неравенства	Содержание учебного материала	2	
	Общие методы решения уравнений. Уравнения и неравенства с модулем и с параметрами		
	Практическое занятие		
Самостоятельная работа		8	
Консультация		2	
Промежуточная аттестация 2 семестр экзамен		6	
Всего:		340	

По каждой теме описывается содержание учебного материала (в дидактических единицах), наименования необходимых лабораторных, практических и иных занятий. Объем часов определяется по каждой позиции столбца 3.

*Профессионально-ориентированное содержание может быть распределено по разделам (темам) или сконцентрировано в разделе Прикладной модуль

3. УСЛОВИЯ РЕАЛИЗАЦИИ ПРОГРАММЫ ОБЩЕОБРАЗОВАТЕЛЬНОЙ ДИСЦИПЛИНЫ

3.1. Для реализации программы общеобразовательной дисциплины должны быть предусмотрены следующие специальные помещения:

Кабинет «Математических дисциплин»

12 столов, 12 стульев, 12 компьютеров с лицензионным программным обеспечением и возможностью подключения к информационно-телекоммуникационной сети «Интернет», 12 наушников, рабочее место преподавателя (стол, стул, компьютер) 1 доска, 1 телевизор, наглядные пособия; комплект учебно-методической документации по дисциплине, калькуляторы.

3.2. Информационное обеспечение реализации программы

Перечень рекомендуемых учебных изданий, Интернет-ресурсов, дополнительной литературы:

Основная литература:

1. Богомолов, Н. В. Алгебра и начала анализа : учебное пособие для среднего профессионального образования / Н. В. Богомолов. – Москва : Издательство Юрайт, 2023. – 240 с. – (Профессиональное образование). – ISBN 978-5-534-09525-8. – Текст : электронный // Образовательная платформа Юрайт [сайт]. – URL: <https://urait.ru/bcode/511954>
2. Гусев, В. А. Геометрия : учебное пособие для среднего профессионального образования / В. А. Гусев, И. Б. Кожухов, А. А. Прокофьев. – 2-е изд., испр. и доп. – Москва : Издательство Юрайт, 2023. – 280 с. – (Профессиональное образование). – ISBN 978-5-534-08897-7. – Текст : электронный // Образовательная платформа Юрайт [сайт]. – URL: <https://urait.ru/bcode/517007>
3. Кремер, Н. Ш. Математика для колледжей : учебное пособие для среднего профессионального образования / Н. Ш. Кремер, О. Г. Константинова, М. Н. Фридман ; под редакцией Н. Ш. Кремера. – 11-е изд., перераб. и доп. – Москва : Издательство Юрайт, 2023. – 377 с. – (Профессиональное образование). – ISBN 978-5-534-16299-8. – Текст : электронный // Образовательная платформа Юрайт [сайт]. – URL: <https://urait.ru/bcode/530766>
4. Энатская, Н. Ю. Математическая статистика и случайные процессы : учебное пособие для среднего профессионального образования / Н. Ю. Энатская. – Москва : Издательство Юрайт, 2023. – 201 с. – (Профессиональное образование). – ISBN 978-5-534-04472-0. – Текст : электронный // Образовательная платформа Юрайт [сайт]. – URL: <https://urait.ru/bcode/512084>

Дополнительная литература:

1. Богомолов, Н. В. Математика : учебник для среднего профессионального образования / Н. В. Богомолов, П. И. Самойленко. – 5-е изд., перераб. и доп. – Москва : Издательство Юрайт, 2023. – 401 с. – (Профессиональное образование). – ISBN 978-5-534-07878-7. – Текст : электронный // Образовательная платформа Юрайт [сайт]. – URL: <https://urait.ru/bcode/511565>
2. Богомолов, Н. В. Математика. Алгебра и начала анализа. Базовый уровень: 10-11 классы : учебник для среднего общего образования / Н. В. Богомолов. – Москва : Издательство Юрайт, 2023. – 241 с. – (Общеобразовательный цикл). – ISBN 978-5-534-16084-0. – Текст : электронный // Образовательная платформа Юрайт [сайт]. – URL: <https://urait.ru/bcode/530391>
3. Богомолов, Н. В. Математика. Задачи с решениями : учебное пособие для среднего профессионального образования / Н. В. Богомолов. – 2-е изд., испр. и доп. – Москва : Издательство Юрайт, 2023. – 755 с. – (Профессиональное образование). – ISBN 978-5-534-16211-0. – Текст : электронный // Образовательная платформа Юрайт [сайт]. – URL: <https://urait.ru/bcode/530620>
4. Богомолов, Н. В. Математика. Углубленный уровень. 10-11 классы : учебник для среднего общего образования / Н. В. Богомолов, П. И. Самойленко. – 5-е изд., перераб. и доп. – Москва : Издательство Юрайт, 2023. – 398 с. – (Общеобразовательный цикл). – ISBN 978-5-534-16224-0. – Текст : электронный // Образовательная платформа Юрайт [сайт]. – URL: <https://urait.ru/bcode/530642>
5. Гусев, В. А. Математика. Геометрия. Базовый уровень: 10-11 классы : учебник для среднего общего образования / В. А. Гусев, И. Б. Кожухов, А. А. Прокофьев. – 2-е изд., испр. и

доп. – Москва : Издательство Юрайт, 2023. – 281 с. – (Общеобразовательный цикл). – ISBN 978-5-534-16085-7. – Текст : электронный // Образовательная платформа Юрайт [сайт]. – URL: <https://urait.ru/bcode/530392>

6. Дорофеева, А. В. Математика. Сборник задач : учебно-практическое пособие для среднего профессионального образования / А. В. Дорофеева. – 2-е изд. – Москва : Издательство Юрайт, 2023. – 176 с. – (Профессиональное образование). – ISBN 978-5-534-15556-3. – Текст : электронный // Образовательная платформа Юрайт [сайт]. – URL: <https://urait.ru/bcode/512131>

7. Математика. Практикум : учебное пособие для среднего профессионального образования / О. В. Татарников [и др.] ; под общей редакцией О. В. Татарникова. – Москва : Издательство Юрайт, 2023. – 285 с. – (Профессиональное образование). – ISBN 978-5-534-03146-1. – Текст : электронный // Образовательная платформа Юрайт [сайт]. – URL: <https://urait.ru/bcode/512207>

Интернет-источники:

1. Всероссийские интернет-олимпиады: <https://online-olympiad.ru>
2. Единая коллекция цифровых образовательных ресурсов: <http://school-collection.edu.ru>
3. Научная электронная библиотека (НЭБ): <http://www.elibrary.ru>
4. Открытый колледж. Математика: <https://mathematics.ru>
5. Повторим математику: <http://www.mathteachers.narod.ru>
6. Справочник по математике для школьников: <https://www.resolventa.ru/demo/demomath.htm>
7. Средняя математическая интернет школа: <http://www.bymath.net>
8. Федеральный портал «Российское образование»: <http://www.edu.ru>
9. Компьютерная справочная правовая система

4. КОНТРОЛЬ И ОЦЕНКА РЕЗУЛЬТАТОВ ОСВОЕНИЯ ОБЩЕОБРАЗОВАТЕЛЬНОЙ ДИСЦИПЛИНЫ

Контроль и оценка результатов освоения общеобразовательной дисциплины раскрываются через дисциплинарные результаты, направленные на формирование общих и профессиональных компетенций по разделам и темам содержания учебного материала.

Общая/профессиональная компетенция	Раздел/Тема	Тип оценочных мероприятия
ОК 01. Выбирать способы решения задач профессиональной деятельности применительно к различным контекстам	Р 1, Тема 1.1, 1.2, 1.3 П-о/с ³ , 1.4, 1.5, 1.6 Р 2, Темы 2.1, 2.2, 2.3, 2.4, 2.5 П-о/с, 2.6 Р 3, Темы 3.1, 3.2, 3.3 П-о/с, 3.4 Р 4, Темы 4.1, 4.2, 4.3, 4.4, 4.5, 4.6, 4.7 П-о/с, 4.8, 4.9, 4.10, 4.11 Р 5, Темы 5.1, 5.2 Р 6, Темы 6.1, 6.2, 6.3, 6.4, 6.5, 6.6, 6.7 П-о/с, 6.8, 6.9, 6.10 П-о/с, 6.11 Р 7, Темы 7.1, 7.2, 7.3, 7.4, 7.5, 7.6, 7.7 П-о/с, 7.8, 7.9, 7.10 П-о/с, 7.11, 7.12, 7.13, 7.14, 7.15, 7.16, 7.17 Р 8, Темы 8.1, 8.2, 8.3, 8.4, 8.5, 8.6 Р 9, Темы 9.1, 9.2, 9.3, 9.4, 9.5 Р 10, Темы 10.1, 10.2, 10.3, 10.4 Р 11, Темы 11.1, 11.2, 11.3 П-о/с, 11.4, 11.5, 11.6 П-о/с, 11.7 Р 12, Темы 12.1, 12.2, 12.3, 12.4 Р 13, Темы 13.1, 13.2, 13.3, 13.4, 13.5 П-о/с, 13.6 Р 14, Темы 14.1, 14.2, 14.3, 14.4, 14.5 П-о/с, 14.6	Тестирование Устный опрос Математический диктант Индивидуальная самостоятельная работа Представление результатов практических работ Защита творческих работ Защита индивидуальных проектов Контрольная работа Выполнение экзаменационных заданий
ОК 02. Использовать современные средства поиска, анализа и интерпретации	Р 1, Тема 1.1, 1.2, 1.3 П-о/с, 1.4, 1.5, 1.6 Р 2, Темы 2.1, 2.2, 2.3, 2.4, 2.5 П-о/с, 2.6 Р 3, Темы 3.1, 3.2, 3.3 П-о/с, 3.4	Тестирование Устный опрос Математический

³ *Профессиональное-ориентированное содержание*

<p>информации, и информационные технологии для выполнения задач профессиональной деятельности</p>	<p>Р 4, Темы 4.1, 4.2, 4.3, 4.4, 4.5, 4.6, 4.7 П-о/с, 4.8, 4.9, 4.10, 4.11 Р 5, Темы 5.1, 5.2 Р 6, Темы 6.1, 6.2, 6.3, 6.4, 6.5, 6.6, 6.7 П-о/с, 6.8, 6.9, 6.10 П-о/с, 6.11 Р 7, Темы 7.1, 7.2, 7.3, 7.4, 7.5, 7.6, 7.7 П-о/с, 7.8, 7.9, 7.10 П-о/с, 7.11, 7.12, 7.13, 7.14, 7.15, 7.16, 7.17 Р 8, Темы 8.1, 8.2, 8.3, 8.4, 8.5, 8.6 Р 9, Темы 9.1, 9.2, 9.3, 9.4, 9.5 Р 10, Темы 10.1, 10.2, 10.3, 10.4 Р 11, Темы 11.1, 11.2, 11.3 П-о/с, 11.4, 11.5, 11.6 П-о/с, 11.7 Р 12, Темы 12.1, 12.2, 12.3, 12.4 Р 13, Темы 13.1, 13.2, 13.3, 13.4, 13.5 П-о/с, 13.6 Р 14, Темы 14.1, 14.2, 14.3, 14.4, 14.5 П-о/с, 14.6</p>	<p>диктант Индивидуальная самостоятельная работа Представление результатов практических работ Защита творческих работ Защита индивидуальных проектов Контрольная работа Выполнение экзаменационных заданий</p>
<p>ОК 03. Планировать и реализовывать собственное профессиональное и личностное развитие, предпринимательскую деятельность в профессиональной сфере, использовать знания по правовой и финансовой грамотности в различных жизненных ситуациях</p>	<p>Р 1, Тема 1.1, 1.2, 1.3 П-о/с, 1.4, 1.5, 1.6 Р 2, Темы 2.1, 2.2, 2.3, 2.4, 2.5 П-о/с, 2.6 Р 3, Темы 3.1, 3.2, 3.3 П-о/с, 3.4 Р 4, Темы 4.1, 4.2, 4.3, 4.4, 4.5, 4.6, 4.7 П-о/с, 4.8, 4.9, 4.10, 4.11 Р 5, Темы 5.1, 5.2 Р 6, Темы 6.1, 6.2, 6.3, 6.4, 6.5, 6.6, 6.7 П-о/с, 6.8, 6.9, 6.10 П-о/с, 6.11 Р 7, Темы 7.1, 7.2, 7.3, 7.4, 7.5, 7.6, 7.7 П-о/с, 7.8, 7.9, 7.10 П-о/с, 7.11, 7.12, 7.13, 7.14, 7.15, 7.16, 7.17 Р 8, Темы 8.1, 8.2, 8.3, 8.4, 8.5, 8.6 Р 9, Темы 9.1, 9.2, 9.3, 9.4, 9.5 Р 10, Темы 10.1, 10.2, 10.3, 10.4 Р 11, Темы 11.1, 11.2, 11.3 П-о/с, 11.4, 11.5, 11.6 П-о/с, 11.7 Р 12, Темы 12.1, 12.2, 12.3, 12.4 Р 13, Темы 13.1, 13.2, 13.3, 13.4, 13.5 П-о/с, 13.6 Р 14, Темы 14.1, 14.2, 14.3, 14.4, 14.5 П-о/с, 14.6</p>	<p>Тестирование Устный опрос Математический диктант Индивидуальная самостоятельная работа Представление результатов практических работ Защита творческих работ Защита индивидуальных проектов Контрольная работа Выполнение экзаменационных заданий</p>
<p>ОК 04. Эффективно взаимодействовать и работать в коллективе и команде</p>	<p>Р 1, Тема 1.1, 1.2, 1.3 П-о/с, 1.4, 1.5, 1.6 Р 2, Темы 2.1, 2.2, 2.3, 2.4, 2.5 П-о/с, 2.6 Р 3, Темы 3.1, 3.2, 3.3 П-о/с, 3.4 Р 4, Темы 4.1, 4.2, 4.3, 4.4, 4.5, 4.6, 4.7 П-о/с, 4.8, 4.9, 4.10, 4.11 Р 5, Темы 5.1, 5.2 Р 6, Темы 6.1, 6.2, 6.3, 6.4, 6.5, 6.6, 6.7 П-о/с, 6.8, 6.9, 6.10 П-о/с, 6.11 Р 7, Темы 7.1, 7.2, 7.3, 7.4, 7.5, 7.6, 7.7 П-о/с, 7.8, 7.9, 7.10 П-о/с, 7.11, 7.12, 7.13, 7.14, 7.15, 7.16, 7.17 Р 8, Темы 8.1, 8.2, 8.3, 8.4, 8.5, 8.6 Р 9, Темы 9.1, 9.2, 9.3, 9.4, 9.5 Р 10, Темы 10.1, 10.2, 10.3, 10.4 Р 11, Темы 11.1, 11.2, 11.3 П-о/с, 11.4, 11.5, 11.6 П-о/с, 11.7 Р 12, Темы 12.1, 12.2, 12.3, 12.4 Р 13, Темы 13.1, 13.2, 13.3, 13.4, 13.5 П-о/с, 13.6</p>	<p>Тестирование Устный опрос Математический диктант Индивидуальная самостоятельная работа Представление результатов практических работ Защита творческих работ Защита индивидуальных проектов Контрольная работа Выполнение экзаменационных заданий</p>

	Р 14, Темы 14.1, 14.2, 14.3, 14.4, 14.5 П-о/с, 14.6	
ОК 05. Осуществлять устную и письменную коммуникацию на государственном языке Российской Федерации с учетом особенностей социального и культурного контекста	<p>Р 1, Тема 1.1, 1.2, 1.3 П-о/с, 1.4, 1.5, 1.6</p> <p>Р 2, Темы 2.1, 2.2, 2.3, 2.4, 2.5 П-о/с, 2.6</p> <p>Р 3, Темы 3.1, 3.2, 3.3 П-о/с, 3.4</p> <p>Р 4, Темы 4.1, 4.2, 4.3, 4.4, 4.5, 4.6, 4.7 П-о/с, 4.8, 4.9, 4.10, 4.11</p> <p>Р 5, Темы 5.1, 5.2</p> <p>Р 1, Тема 1.1, 1.2, 1.3 П-о/с, 1.4, 1.5, 1.6</p> <p>Р 2, Темы 2.1, 2.2, 2.3, 2.4, 2.5 П-о/с, 2.6</p> <p>Р 3, Темы 3.1, 3.2, 3.3 П-о/с, 3.4</p> <p>Р 4, Темы 4.1, 4.2, 4.3, 4.4, 4.5, 4.6, 4.7 П-о/с, 4.8, 4.9, 4.10, 4.11</p> <p>Р 5, Темы 5.1, 5.2</p> <p>Р 6, Темы 6.1, 6.2, 6.3, 6.4, 6.5, 6.6, 6.7 П-о/с, 6.8, 6.9, 6.10 П-о/с, 6.11</p> <p>Р 7, Темы 7.1, 7.2, 7.3, 7.4, 7.5, 7.6, 7.7 П-о/с, 7.8, 7.9, 7.10 П-о/с, 7.11, 7.12, 7.13, 7.14, 7.15, 7.16, 7.17</p> <p>Р 8, Темы 8.1, 8.2, 8.3, 8.4, 8.5, 8.6</p> <p>Р 9, Темы 9.1, 9.2, 9.3, 9.4, 9.5</p> <p>Р 10, Темы 10.1, 10.2, 10.3, 10.4</p> <p>Р 11, Темы 11.1, 11.2, 11.3 П-о/с, 11.4, 11.5, 11.6 П-о/с, 11.7</p> <p>Р 12, Темы 12.1, 12.2, 12.3, 12.4</p> <p>Р 13, Темы 13.1, 13.2, 13.3, 13.4, 13.5 П-о/с, 13.6</p> <p>Р 14, Темы 14.1, 14.2, 14.3, 14.4, 14.5 П-о/с, 14.6</p> <p>Р 9, Темы 9.1, 9.2, 9.3, 9.4, 9.5</p> <p>Р 10, Темы 10.1, 10.2, 10.3, 10.4</p> <p>Р 11, Темы 11.1, 11.2, 11.3 П-о/с, 11.4, 11.5, 11.6 П-о/с, 11.7</p> <p>Р 12, Темы 12.1, 12.2, 12.3</p> <p>Р 13, Темы 13.1, 13.2, 13.3, 13.4, 13.5 П-о/с, 13.6</p> <p>Р 14, Темы 14.1, 14.2, 14.3, 14.4, 14.5 П-о/с, 14.6</p>	<p>Тестирование</p> <p>Устный опрос</p> <p>Математический диктант</p> <p>Индивидуальная самостоятельная работа</p> <p>Представление результатов практических работ</p> <p>Защита творческих работ</p> <p>Защита индивидуальных проектов</p> <p>Контрольная работа</p> <p>Выполнение экзаменационных заданий</p>
ОК 06. Проявлять гражданско-патриотическую позицию, демонстрировать осознанное поведение на основе традиционных российских духовно-нравственных ценностей, в том числе с учетом гармонизации межнациональных и межрелигиозных отношений, применять стандарты антикоррупционного поведения	<p>Р 1, Тема 1.1, 1.2, 1.3 П-о/с, 1.4, 1.5, 1.6</p> <p>Р 6, Темы 6.1, 6.2, 6.3, 6.4, 6.5, 6.6, 6.7 П-о/с, 6.8, 6.9, 6.10 П-о/с, 6.11</p> <p>Р 7, Темы 7.1, 7.2, 7.3, 7.4, 7.5, 7.6, 7.7 П-о/с, 7.8, 7.9, 7.10 П-о/с, 7.11, 7.12, 7.13, 7.14, 7.15, 7.16, 7.17</p> <p>Р 8, Темы 8.1, 8.2, 8.3, 8.4, 8.5, 8.6</p> <p>Р 14, Темы 14.1, 14.2, 14.3, 14.4, 14.5 П-о/с, 14.6</p>	<p>Тестирование</p> <p>Устный опрос</p> <p>Математический диктант</p> <p>Индивидуальная самостоятельная работа</p> <p>Представление результатов практических работ</p> <p>Защита творческих работ</p> <p>Защита индивидуальных проектов</p> <p>Контрольная работа</p> <p>Выполнение экзаменационных заданий</p>
ОК 07. Содействовать сохранению окружающей среды, ресурсосбережению, применять знания об	<p>Р 1, Тема 1.1, 1.2, 1.3 П-о/с, 1.4, 1.5, 1.6</p> <p>Р 2, Темы 2.1, 2.2, 2.3, 2.4, 2.5 П-о/с, 2.6</p> <p>Р 3, Темы 3.1, 3.2, 3.3 П-о/с, 3.4</p> <p>Р 4, Темы 4.1, 4.2, 4.3, 4.4, 4.5, 4.6, 4.7 П-</p>	<p>Тестирование</p> <p>Устный опрос</p> <p>Математический диктант</p>

изменении климата, принципы бережливого производства, эффективно действовать в чрезвычайных ситуациях	о/с, 4.8, 4.9, 4.10, 4.11 Р 5, Темы 5.1, 5.2 Р 6, Темы 6.1, 6.2, 6.3, 6.4, 6.5, 6.6, 6.7 П-о/с, 6.8, 6.9, 6.10 П-о/с, 6.11 Р 7, Темы 7.1, 7.2, 7.3, 7.4, 7.5, 7.6, 7.7 П-о/с, 7.8, 7.9, 7.10 П-о/с, 7.11, 7.12, 7.13, 7.14, 7.15, 7.16, 7.17 Р 8, Темы 8.1, 8.2, 8.3, 8.4, 8.5, 8.6 Р 9, Темы 9.1, 9.2, 9.3, 9.4, 9.5 Р 10, Темы 10.1, 10.2, 10.3, 10.4 Р 11, Темы 11.1, 11.2, 11.3 П-о/с, 11.4, 11.5, 11.6 П-о/с, 11.7 Р 12, Темы 12.1, 12.2, 12.3, 12.4 Р 13, Темы 13.1, 13.2, 13.3, 13.4, 13.5 П-о/с, 13.6 Р 14, Темы 14.1, 14.2, 14.3, 14.4, 14.5 П-о/с, 14.6	Индивидуальная самостоятельная работа Представление результатов практических работ Защита творческих работ Защита индивидуальных проектов Контрольная работа Выполнение экзаменационных заданий
---	---	--

Образовательные технологии

При изучении дисциплины применяются следующие образовательные и интерактивные технологии:

- технология адаптивного обучения;
- технология информационно-коммуникационного обучения;
- технология проектного обучения.
- лекция-визуализация
- лекция с применением технологий проблемного обучения
- лекция-диалог
- встречи со специалистами соответствующего профиля и т.п.
- организация тематических мероприятий, экскурсий и т.п.
- решение конкретных профессиональных ситуаций

Тестовые вопросы для проведения текущего контроля по дисциплине

№ п/п	Задание	Варианты ответа		
		А	В	С
1.	Вычислите значение выражения: $\sqrt{a\sqrt{b^8}}$, если $a = 4$, $b = (-3)$	18	- 18	$2\sqrt{6}$
2.	Решите неравенство: $3x - 2 < 1,5x + 4$	$x < 4$	$x < 6,6$	$x < 9$
3.	Найдите число, 18 % которого составляют 9	50	1,62	200
4.	Решите систему уравнений: $\begin{cases} 2x + 2y = 6 \\ x + y = 3 \end{cases}$	(3; 0)	решений нет	множество решений
5.	Найдите координаты точки пересечения графика функции $y = -\frac{2}{3}x + 6$ с осью абсцисс	(- 9; 0)	(9; 0)	(- 4; 0)
6.	Найдите диагональ квадрата, если известна его площадь $S = 9 \text{ см}^2$	6	$\sqrt{18}$	$\sqrt{40,5}$
7.	Вычислите: $(-2)^{-2} + 0,4^{-1} - (\sqrt{3})^0$	2,5	1,75	1,25

8.	При каких значениях «х» значения функции $y = -x^2 - 2x + 8$ положительны?	$(-\infty; -4) \cup (2; +\infty)$	(- 4; 2)	(- 2;4)
9.	Решите уравнение: $x^3 - 5x^2 - 2x = 0$	- 1; 2	- 2; 0; 1	2; 0; -1
10.	Вычислите: $= (\frac{5}{48} + \frac{7}{16}) : 2$	$\frac{13}{48}$	$\frac{3}{8}$	$\frac{13}{12}$

Вопросы к экзамену

1. Сформулируйте теорему Пифагора.
2. Перечислите основные фигуры в пространстве.
3. Перечислите способы задания плоскости.
4. Продолжите теорему: «Если одна из двух параллельных прямых перпендикулярна плоскости, то...».
5. Продолжите теорему: «Если две параллельные плоскости пересекаются третьей, то...».
6. Сформулируйте определение двуграного угла.
7. Сформулируйте определение трехгранного угла.
8. Раскройте понятие «угол между прямыми».
9. Перечислите взаимное расположение двух прямых в пространстве
10. Какие прямые называются параллельными в пространстве?
11. Какие прямые называются скрещивающимися в пространстве?
12. Какие прямые называются перпендикулярными в пространстве?
13. Перечислите взаимное расположение прямой и плоскости в пространстве.
14. Раскройте понятие «угол между прямой и плоскостью».
15. Раскройте понятие «параллельность прямой и плоскости».
16. Раскройте понятие «перпендикулярность прямой и плоскости».
17. Перечислите взаимное расположение двух плоскостей в пространстве.
18. Раскройте понятие «угол между плоскостями».
19. Раскройте понятие «параллельность плоскостей».
20. Раскройте понятие «перпендикулярность плоскостей».
21. Как найти расстояние от точки до прямой?
22. Как найти расстояние между прямыми?
23. Как найти расстояние между плоскостями?
24. Продолжите определение: «Перпендикуляр – это...».
25. Продолжите определение: «Наклонная – это...».
26. Продолжите определение: «Проекция наклонной – это...».
27. Перечислите свойства параллельного проектирования.
28. Приведите примеры симметрий на плоскости в природе, искусстве, архитектуре.
29. Приведите примеры симметрий в пространстве в природе, искусстве, архитектуре.
30. В чем отличие понятие «движение» от понятия «поворот»?
31. Из чего состоит прямоугольная система координат в пространстве?
32. Если точка лежит в плоскости xOy , какая координата у нее нулевая?
33. Приведите пример координат точки А, которая лежит на оси z .
34. Раскройте понятие «вектор».
35. Как найти координаты вектора?
36. Перечислите и раскройте правила сложения векторов.
37. Какие векторы называются коллинеарными?
38. Какие векторы называются перпендикулярными?
39. Чему равно скалярное произведение векторов?
40. Как найти векторное произведение векторов?
41. Чему равен угол между векторами?
42. Приведите пример матрицы 2×2 .

43. Приведите пример матрицы 3×3 .
44. Чему равен угол в один радиан?
45. В каких четвертях тригонометрического круга функция $y = \sin x$ принимает положительные значения?
46. В каких четвертях тригонометрического круга функция $y = \cos x$ принимает отрицательные значения?
47. Продолжите определение: «Синус острого угла – это...».
48. Продолжите определение: «Косинус острого угла – это...».
49. Продолжите определение: «Тангенс острого угла – это...».
50. Сформулируйте основное тригонометрическое тождество.
51. Чему равно произведение $\operatorname{tg} x \cdot \operatorname{ctg} x$?
52. Чему равен $\sin(2x)$? Сформулируйте правило вычисления.
53. Чему равен $\cos(2x)$? Сформулируйте правило вычисления.
54. Перечислите тригонометрические функции, укажите их периоды.
55. Чему равен период функции $y = \cos(4x)$?
56. ему равен период функции $y = \cos(x/4)$?
57. Определите область значения функции $y = 3\cos(5x)$?
58. Перечислите способы решения тригонометрических уравнений.
59. Раскройте алгоритм решения однородных тригонометрических уравнений первого порядка.
60. Раскройте алгоритм решения однородных тригонометрических уравнений второго порядка.
61. Продолжите определение: «Последовательность – это...».
62. Приведите пример арифметической прогрессии.
63. Приведите пример геометрической прогрессии.
64. Приведите пример бесконечно убывающей геометрической прогрессии.
65. Продолжите определение: «Производная – это...».
66. Раскройте геометрический смысл производной.
67. Продолжите определение: «Касательная – это...».
68. Раскройте физический смысл производной.
69. Перечислите правила вычисления производных.
70. Чему равна производная степенной функции?
71. Чему равна производная произведения?
72. Чему равна производная частного?
73. Чему равна производная сложной функции?
74. Сформулируйте признак возрастания функции.
75. Сформулируйте признак убывания функции.
76. Сформулируйте признак точки максимума функции.
77. Сформулируйте признак точки минимума функции.
78. Составьте алгоритм решения задач на нахождения наибольшего и наименьшего значения функции на отрезке?
79. Составьте алгоритм исследования и построения графика функции с помощью производной.
80. Как найти вертикальную асимптоту графика функции?
81. Продолжите определение: «Многогранник – это...».
82. Продолжите определение: «Призма – это...».
83. Продолжите определение: «Прямоугольный параллелепипед – это...».
84. Продолжите определение: «Куб – это...».
85. Продолжите определение: «Пирамида – это...».
86. Сформулируйте свойство о противолежащих гранях параллелепипеда.
87. Сформулируйте свойство о диагоналях параллелепипеда.
88. Сформулируйте свойство о диагонали и линейных размерах прямоугольного параллелепипеда.

89. Какая призма называется прямой?
90. Какая призма называется правильной?
91. Раскройте понятие «правильная пирамида».
92. Что такое апофема правильной пирамиды?
93. В чем отличие полной поверхности призмы от полной поверхности пирамиды?
94. Сформулируйте теорему о вычислении боковой поверхности прямой призмы.
95. Сформулируйте теорему о вычислении боковой поверхности правильной пирамиды.
96. Назовите предметы из вашей профессиональной деятельности, которые имеют формы многогранников.
97. Какие многогранники называются правильными? Перечислите правильные многогранники.
98. Продолжите определение: «Цилиндр – это...».
99. Продолжите определение: «Конус – это...».
100. Продолжите определение: «Усеченный конус – это...».
101. Продолжите определение: «Шар – это...».
102. Что является высотой усеченного конуса?
103. Что является осевым сечением цилиндра, конуса, усеченного конуса, шара?
104. Перечислите единицы измерения площади, объема.
105. Чему равно отношение площадей поверхностей подобных фигур в пространстве?
106. Чему равно отношение объемов подобных фигур в пространстве?
107. Назовите предметы из вашей профессиональной деятельности, которые имеют формы тел вращения.
108. Продолжите определение: «Функция $F(x)$ называется ...».
109. Раскройте геометрический смысл определенного интеграла.
110. Продолжите определение: «Криволинейная трапеция – это...».
111. Сформулируйте формулу Ньютона-Лейбница.
112. В чем заключается общий вид всех первообразных?
113. Перечислите правила вычисления интегралов.
114. Сформулируйте определение степенной функции.
115. Перечислите свойства степенной функции с целым показателем.
116. Перечислите свойства степени с действительным показателем. Приведите примеры.
117. Перечислите свойства корня натуральной степени. Приведите примеры
118. На что необходимо обратить внимание при решении иррационального уравнения четной степени?
119. Чему равен корень четной степени из отрицательного числа? Приведите пример.
120. Чему равен корень нечетной степени из отрицательного числа? Приведите пример.
121. На что стоит обратить внимание при решении иррациональных, дробно-рациональных уравнений и неравенств?
122. Сформулируйте определение показательной функции.
123. Перечислите свойства показательной функции.
124. Перечислите способы решения показательных уравнений.
125. Сформулируйте правило решения простейших показательных неравенств.
126. В чем заключается графический способ решения уравнений.
127. Приведите пример функциональной зависимости показательной функции из реальной жизни.
128. Сформулируйте определение логарифмической функции.
129. Перечислите свойства логарифмической функции.
130. Продолжите определение: «Логарифм – это...».
131. Чему равен логарифм произведения?
132. Чему равен логарифм частного?
133. Приведите примеры логарифмической спирали в природе и в окружающем мире.
134. На что стоит обратить внимание при решении логарифмических и уравнений и неравенств?

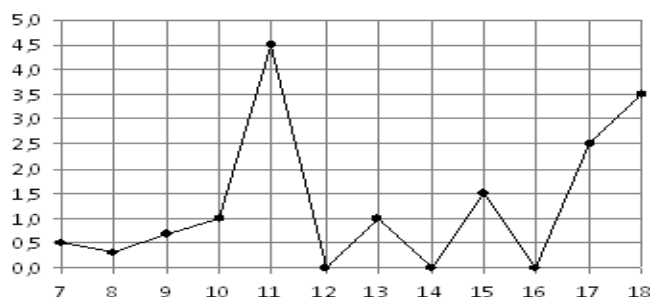
135. Перечислите способы решения логарифмических уравнений.
136. Сформулируйте правило решения простейших логарифмических неравенств.
137. В чем заключается графический способ решения уравнений.
138. Приведите пример функциональной зависимости логарифмической функции из реальной жизни.
139. Сформулируйте определение множества.
140. Продолжите определение: «Объединение множеств – это...».
141. Продолжите определение: «Пересечение множеств – это...».
142. Продолжите определение: «Разность множеств – это...».
143. Изобразите объединение двух множеств на кругах Эйлера.
144. Изобразите пересечение трех множеств на кругах Эйлера.
145. Сформулируйте определение графа. Что называется вершиной, ребром графа?
146. Как найти степень вершины графа?
147. Назовите отличительные черты полного и неполного графов.
148. Назовите отличительные черты связного и несвязного графов.
149. Продолжите определение: «Случайное событие – это...». Приведите пример.
150. Приведите пример достоверного события.
151. Приведите пример невозможного события.
152. Продолжите определение: «Вероятность случайного события – это...».
153. Сформулируйте правило нахождения сложения вероятностей.
154. Сформулируйте правило умножения вероятностей.
155. Как найти среднее арифметическое числового ряда?
156. Как найти медиану числового ряда?
157. Как вычисляется размах числового ряда?
158. Для чего нужны диаграммы, графики? Перечислите виды диаграмм.
159. Приведите примеры проявления закона больших чисел в природных явлениях.
160. Приведите примеры проявления закона больших чисел в общественных явлениях.
161. Что изучает статистика?
162. Продолжите определение: «Сочетание – это...».
163. Продолжите определение: «Размещение – это...».
164. Продолжите определение: «Перестановки – это...».
165. Приведите пример множества из реальной жизни.
166. Приведите пример операции пересечения множеств.
167. Приведите пример операции объединения множеств.
168. Приведите пример операции разности множеств.
169. Раскройте понятия «граф», «дерево», «цикл».
170. Что называется уравнением?
171. Что значит решить уравнение?
172. Что такое корень уравнения?
173. Что называется неравенством?
174. Что значит решить неравенство?
175. В чем заключается «метод интервалов»?
176. Что называется решение системы уравнений?
177. Что значит решить систему уравнений?
178. При решении каких уравнений и неравенств, следует обратить внимание на область допустимых значений?
179. Перечислите способы решения уравнений.
180. Перечислите способы решения систем уравнений.

Экзаменационные задания по математике

При выполнении заданий 1-12 запишите ход решения и полученный ответ.

1. (1 балл) Вычислите: $2\sin(\pi/6) + 2\cos(\pi/3)$

2. (1 балл) На рисунке жирными точками показано суточное количество осадков, выпадавших в Элисте с 7 по 18 декабря 2001 года. По горизонтали указываются числа месяца, по вертикали – количество осадков, выпавших в соответствующий день, в миллиметрах. Для наглядности жирные точки на рисунке соединены линией. Определите по рисунку, сколько дней выпадало более 2 миллиметров осадков?



3. (1 балл) Мобильный телефон стоил 16000 рублей. Через некоторое время цену на эту модель снизили до 15200 рублей. На сколько процентов была снижена цена?

4. (1 балл) На тарелке 16 пирожков: 7 с рыбой, 5 с вареньем и 4 с вишней. Юля наугад выбирает один пирожок. Найдите вероятность того, что он окажется с вишней.

5. (1 балл) Найдите значение выражения $\log_2 2 + \log_2 32$

6. (1 балл) Найдите корень уравнения $\sqrt{7-6x} = 7$.

7. (1 балл) Решите неравенство $2^{x+5} > 64$. В ответ запишите наименьшее положительное число.

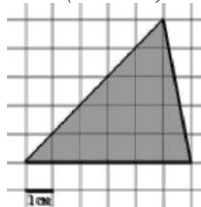
$$\frac{x+2}{3x-2} = \frac{1}{4}$$

8. (1 балл) Найдите корень уравнения

9. (1 балл) Найдите производную функции в точке $x=0$: $y = \frac{5}{4}x^4 - 6x^2 + 7x - 1$

10. (1 балл) Цветник, оформленный по индивидуальному заказу, имеет форму цилиндра. Высота цветника 35 см, диаметр основания 20 см. Сколько земли необходимо привести, чтобы цветник был заполнен полностью. В ответ запишите число, деленное на π .

11. (1 балл) Найдите площадь фигуры, изображенной на рисунке



12. (1 балл) Тело движется по закону $S(t)=3t^2+5t$ (м) Найдите скорость тела через 1с после начала движения.

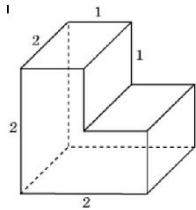
Дополнительная часть

При выполнении заданий 13-16 запишите ход решения и полученный ответ

13. (3 балла) Вычислите площадь земли, отведенного под клумбу, периметр которого ограничивают линии $y=x^2-2x-2$ и $y=-x^2+2$. Выполните чертеж. Ответ дайте в квадратных метрах.

14. (3 балла) Решите уравнение $\sin^2 x - 2\sin x = 0$. В ответ запишите количество решений, принадлежащих промежутку $[0; 4\pi]$.

15. (3 балла) Найдите объем многогранника, изображенного на рисунке (все двугранные углы прямые).



16. (3 балла) Первый садовод высаживает 126 саженцев на 5 часов быстрее, чем второй. Сколько саженцев за час высаживает первый садовод, если известно, что он за час может высадить на 5 саженцев больше второго?

Эталоны ответов:

Номер задания	1	2	3	4	5	6	7	8	9	10	11	12	13	14	15	16
Ответ	2	3	5	0,25	6	-7	1	-10	7	35000	15	11	9	5	6	13

Задания входного контроля

При решении заданий 1-4 запишите правильный ответ из четырех предложенных.

1. (1 балл) Раскройте формулу сокращенного умножения $a^2 - b^2$:

А) $a^2 - 2ab + b^2$; Б) $(a-b)(a+b)$; В) $a^2 + 2ab - b^2$; Г) $(a-b)(a-b)$

2. (1 балл) Площадь треугольника вычисляется по формуле:

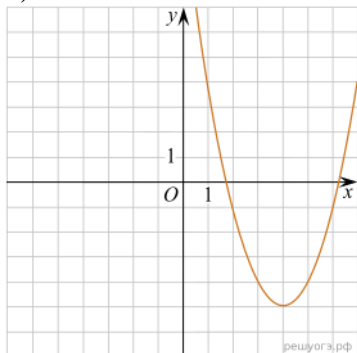
А) $S = a * b$; Б) $S = (a * b) / 2$; В) $S = 2a * b$; Г) $S = (a * b) / 3$.

3. (1 балл) Какое из следующих чисел заключено между числами $\frac{10}{17}$ и $\frac{5}{8}$?

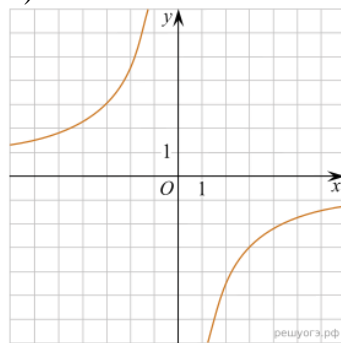
А) 0,4; Б) 0,5; В) 0,6; Г) 0,7

4. (1 балл) Даны графики функций. Какая формула соответствует графику 3):

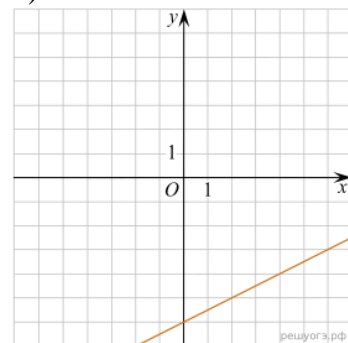
1)



2)



3)



А) $y = \frac{1}{2}x - 6$; Б) $y = x^2 - 8x + 11$; В) $y = -\frac{9}{x}$; Г) $y = x + 5$.

При выполнении заданий 5-8 запишите ход решения и полученный ответ.

5. (2 балла) Вычислите $\frac{1}{2} + \frac{11}{5}$.

6. (2 балла) Решите уравнение $x^2 - 7x + 10 = 0$. Если уравнение имеет более одного корня, в ответ запишите меньший из корней.

7. (2 балла) Площадь земель крестьянского хозяйства, отведенная под посадку кустарников и цветников, составляет 24 га и распределена между ними в отношении 5:3. Сколько гектаров занимают цветники?

8. (2 балла) Высота ВН параллелограмма ABCD делит его сторону AD на отрезки $АН = 2$ и

ND = 32. Диагональ параллелограмма BD равна 40. Найдите площадь параллелограмма.

Дополнительная часть

При выполнении задания 9 запишите ход, обоснование решения и полученный ответ.

9. (3 балла) Рыболов проплыл на лодке от пристани некоторое расстояние вверх по течению реки, затем бросил якорь, 2 часа ловил рыбу и вернулся обратно через 5 часов от начала путешествия. На какое расстояние от пристани он отплыл, если скорость течения реки равна 2 км/ч, а собственная скорость лодки 6 км/ч?

Эталоны ответов:

Номер задания	1	2	3	4	5	6	7	8	9
Ответ	Б	Б	В	А	2,7	2	9	816	8

Рубежный контроль

Обязательная часть

При решении заданий 1-4 запишите правильный ответ из четырех предложенных.

1. (1 балл) Даны точки A(2,0,5), B(-2,6,3). Какие координаты имеет середина отрезка АВ – точка М?

А) М(0, 3, 4); Б) М(2, 3, 4); В) М(0,- 3, 4); Г) М(0, 3,- 4).

2. (1 балл) Прямые АВ и СД параллельные. Какое расположение имеют прямые АС и ВД?

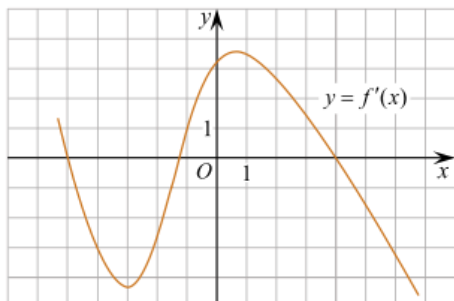
А) параллельные; Б) перпендикулярные; В) скрещиваются; Г) пересекаются.

$$\cos \frac{\pi x}{6} = \frac{\sqrt{3}}{2}.$$

3. (1 балл) Найдите корень уравнения: В ответе запишите наибольший отрицательный корень.

А) -3; Б) 0; В) -2; Г) -1.

4. (1 балл) На рисунке изображен график производной функции $y=f'(x)$. При каком значении x функция принимает свое наибольшее значение на отрезке $[-4; -2]$?



А) 0,5; Б) -4; В) -5; Г) 1.

При выполнении заданий 5-8 запишите ход решения и полученный ответ.

5. (2 балла) Верхние концы двух вертикально стоящих столбов, удалённых на расстояние 4 м, соединены перекладиной. Высота одного столба 10 м, а другого 7 м. Найдите длину перекладины.

6. (2 балла) Даны четыре точки: A(0,1,1), B(1,-1,3), C(3,1,0) Д(3,2,2) Докажите, что отрезки АВ и СД перпендикулярны.

7. (2 балла) Двигаясь со скоростью $v = 3$ м/с, трактор тащит сани с силой $F=40$ кН, направленной под острым углом α к горизонту. Мощность, развиваемая трактором, вычисляется по формуле $N = F v \cos \alpha$. Найдите, при каком угле α (в градусах) эта мощность $\frac{\text{кН} \cdot \text{м}}{\text{с}}$

будет равна 60 кВт (кВт – это $\frac{\text{кН} \cdot \text{м}}{\text{с}}$).

8. (2 балла) Материальная точка движется прямолинейно по закону $x(t)=t^2-13t+23$ (где x – расстояние от точки отсчета в метрах, t – время в секундах, измеренное с начала движения). В какой момент времени (в секундах) ее скорость была равна 3 м/с?

Дополнительная часть

При выполнении задания 9 запишите ход, обоснование решения и полученный ответ.

9. (3 балла) Разбить цветник прямоугольной формы (отношение сторон 2:3) на части различной площади. Укажите разным цветом параллельные, перпендикулярные, скрещивающиеся отрезки. Рассчитать количество саженцев цветов для каждого сектора. Оформить схему цветника (можно использовать компьютер). Например,



Эталоны ответов:

Номер задания	1	2	3	4	5	6	7	8	9
Ответ	А	Г	Г	Б	5	-	60	8	-

Практические задания

Действительные числа

1) Упростите выражение.

А) $3(x+y)^2 - 6xy$
 Б) $\frac{2a+2b}{b} \cdot \left(\frac{1}{a-b} - \frac{1}{a+b} \right)$

2) Решите уравнение.

А) $3(0,5x - 4) + 8,5x = 18$
 Б) $4x^2 + 4x + 1 = 0$
 В) $\frac{x-1}{2} = \frac{4+2x}{3}$

3) Решите систему неравенств.

$$\begin{cases} \frac{x}{3} \geq 0 \\ 1 - 3x \leq 2x - 1 \\ 3 - x < 0 \end{cases}$$

4) Решите систему уравнений.

$$\begin{cases} 8x + 3y = -21 \\ 4x + 5y = -7 \end{cases}$$

5) Найдите область определения функции.

$$y = \frac{\sqrt{3x^2 - 4x - 15}}{7 - 2x}$$

6) Выполнить действия: $0,4 \cdot 2 \frac{1}{2} \cdot (4,2 - 1 \frac{3}{40}) - 4 \frac{1}{8} + 1 \frac{5}{6}$

Представить в тригонометрической форме:

- | | |
|-----------------|---------------------|
| 1. $z = -5i$ | 7. $z = -3 - 4i$ |
| 2. $z = 2 + i$ | 8. $z = 0,2 + 0,1i$ |
| 3. $z = 2 - 2i$ | 9. $z = 0,8 - 1,1i$ |
| 4. $z = 4i$ | 10. $z = 3 + 4i$ |
| 5. $z = 2 - 3i$ | 11. $z = 3 - 4i$ |

- | | |
|-------------------|-------------------|
| 6. $z = 2 + 3i$ | 12. $z = 10 - 5i$ |
| 13. $z = 5 - 4i$ | 22. $z = 7 + i$ |
| 14. $z = 3 + 2i$ | 23. $z = -2 + 8i$ |
| 15. $z = 1 + i$ | 24. $z = 2 - 9i$ |
| 16. $z = 4 + 5i$ | 25. $z = 8i$ |
| 17. $z = -3 - 8i$ | 26. $z = 5 + 4i$ |
| 18. $z = 7 + 4i$ | 27. $z = -7 + i$ |
| 19. $z = -6 + 2i$ | 28. $z = 6 - 5i$ |
| 20. $z = 6 - 2i$ | 29. $z = 15 - 3i$ |
| 21. $z = 5 + 6i$ | 30. $z = -5 - 8i$ |

Степени с действительными показателями и их свойства

$$8^{\frac{2}{3}} - 3 \left(\frac{1}{49}\right)^{\frac{1}{2}} \quad \text{б) } \frac{b^3 \sqrt{b^2}}{\sqrt[3]{b^4}}$$

1. Вычислить: а)
2. Упростить выражение:

$$x^{\frac{1}{2}} * x^{\frac{3}{4}} \quad x^{-\frac{1}{3}} : x^{\frac{5}{4}}$$

- а) б)

$$x^{\frac{1}{6}} - \frac{1}{2} = 0$$

3. Решить уравнение:

Корни натуральной степени из числа и их свойства

1. Найдите значение выражения: $\sqrt[3]{-27}$.
2. Решите уравнение: $x^4 = -16$.

3. Вычислите: а) $\sqrt[3]{1000 \cdot 27 \cdot 8}$; б) $\sqrt[4]{\frac{16}{81}}$; в) $\sqrt[5]{0,4^5 \cdot 5^5}$; г) $\frac{\sqrt[3]{250}}{\sqrt[3]{2}}$.

4. Какое из чисел больше: $\sqrt[7]{128}$ или $\sqrt[5]{4}$?

Логарифмы, их виды и свойства

1. Найдите: а) $\log_{\frac{1}{2}} \frac{1}{32}$; б) $\log_{49} 7$.

2. С помощью основного логарифмического тождества вычислите: $3^{2+\log_3 2}$.

3. Прологарифмируйте по основанию 2 выражение $16b^7 \cdot \sqrt[5]{c}$ ($c > 0$, $b > 0$).

4. Найдите x , если $\log_3 x = 2\log_3 7 + \frac{2}{3}\log_3 27 - \frac{3}{2}\log_3 16$.

Преобразование алгебраических выражений

1. Найдите $\frac{a+9b+16}{a+3b+8}$, если $\frac{a}{b} = 3$.

2. Найдите значение выражения $(4x^2 + y^2 - (2x - y)^2) : (2xy)$.

3. Найдите значение выражения $\frac{(3x+2y)^2 - 9x^2 - 4y^2}{6xy}$.

4. Найдите значение выражения $\frac{(4x-3y)^2 - (4x+3y)^2}{4xy}$.

5. Найдите значение выражения $(2x-5)(2x+5) - 4x^2$.

Преобразование рациональных, иррациональных, степенных, показательных выражений

1. Вычислить:

$$9^{3/2} + 27^{2/3} - (1/16)^{-3/4}.$$

- 1) 208; 2) 28; 3) 124; 4) -36.

2. Найти значение выражения

$$\frac{x-y}{x^{1/2}+y^{1/2}} - \frac{y^{1/2}-y}{y^{1/2}}, \text{ если } x=9, y=49.$$

- 1) 3,5; 2) 2; 3) -3; 4) -12.

3. Вычислить:

$$\log_{10}8 + \log_{10}125.$$

- 1) 3; 2) 4; 3) 2; 4) 5.

4. Найдите значение выражения

$$\log_5(25a^3), \text{ если } \log_5a = 7.$$

5. Найдите значение выражения

$$2 \log_2 3 + \log_2 1/3.$$

- 1) $\log_2 3$; 2) $2 \log_2 3$; 3) 0; 4) -2.

6. Упростите выражение:

$$3^{\log_2 1/4 + \log_2 35}.$$

- 1) -45; 2) 5/9; 3) 1/25; 4) -10.

Прямые и плоскости в пространстве

1. Выполните чертеж к задаче. Прямые a , b , и c имеют общую точку O , но не существует плоскости, в которой лежат все эти три точки.

2. Выполните чертеж к задаче. Плоскость α проходит через середины сторон AB и AC $\triangle ABC$ и не содержит вершины A .

3. Выполните чертеж куба $ABCD A_1 B_1 C_1 D_1$. По чертежу укажите: а) прямые параллельные для прямой AD ; б) прямые скрещивающиеся с прямой CC_1 ; в) плоскости параллельные прямой AB .

4. Прямая AB пересекает плоскость α в точке O , расстояние от точки A до плоскости равно 4 см. Найдите расстояние от точки B до плоскости, если точка O середина AB .

Векторы и действия над ними

1. Даны векторы $\vec{a}(3; 1; -2)$, $\vec{b}(4; -1; -3)$. Найдите координаты вектора $3\vec{a} + 2\vec{b}$.

2. Найдите длину вектора $3\vec{a} + 2\vec{b}$, если $\vec{a}(2; 1; -5)$, $\vec{b}(-3; 0; 1)$.

3. Из точки A построен вектор $\overrightarrow{AB} = \vec{a}$. Найдите координаты точки B , если: $A(3; 1; -2)$, $\vec{a}(1; -3; 1)$.

4. Даны векторы $\overrightarrow{AB}(2; 3; 2)$ и $\overrightarrow{BC}(4; -1; 1)$. Найдите координаты и длину вектора \overrightarrow{AC} .

Функции, их свойства и графики

1. Опишите по графику свойства функции $y=f(x)$ по плану:

- 1) область определения и множество значений функции;
- 2) четность / нечетность, периодичность;
- 3) нули функции;
- 4) промежутки знакопостоянства;
- 5) промежутки монотонности;
- 6) экстремумы функции;
- 7) наибольшие и наименьшие значения функции.

2. Найдите область определения функций:

а) $y = \frac{x-1}{-4x+3}$ б) $y = \sqrt{x^2 - 3x}$ в) $y = \lg(5x+14)$

3. Исследовать функцию на четность /нечетность/: а) $y = 3x^2 + x^4$ б) $y = x^2 \operatorname{tg} x$

4. Укажите виды преобразований функции: а) $y = 3\cos x$ б) $y = (x - 4)^2 + 3$

5. Сравните числа: а) $\left(\frac{4}{3}\right)^{3\sqrt{3}}$ и $\left(\frac{4}{3}\right)^5$ б) $\log_6 7$ и $\log_6 8,11$

6. Решите уравнения графически: а) $\log_{\frac{1}{2}} x = \frac{1}{2}x - 2$ б) $3^x = 4 - x$

Основы тригонометрии

№ 1 Упростить выражения:

а) $(\cos \alpha - \sin \alpha)^2 - (\cos \alpha + \sin \alpha)^2 =$

б) $\frac{1 + \operatorname{ctg}^4 \alpha}{\operatorname{tg}^2 \alpha + \operatorname{ctg}^2 \alpha} =$

в) $\frac{\sin^2 \alpha - \operatorname{tg}^2 \alpha}{\cos^2 \alpha - \operatorname{ctg}^2 \alpha} =$

№ 2 Решить уравнения:

а) $\cos 2x = -\frac{\sqrt{2}}{2}$

б) $\sin\left(\frac{2x}{5} - \frac{\pi}{4}\right) = -1$

в) $\operatorname{tg}\left(\frac{x}{4} - \frac{\pi}{4}\right) = -\sqrt{3}$

г) $\left(\cos 2x - \frac{1}{2}\right) \cdot \left(\operatorname{tg} 3x + \frac{\sqrt{3}}{3}\right) = 0$

Тела и поверхности вращения

№ 1. Цилиндр получен вращением прямоугольника со стороной 5 м и диагональю 13 м вокруг данной стороны. Найдите площадь основания цилиндра.

№ 2. Образующая конуса равна 6 м, а угол между нею и плоскостью основания равен 60° . Найдите площади основания конуса и осевого сечения.

№ 3. В шаре радиуса 26 см на расстоянии 10 см от центра проведена секущая плоскость. Найдите площадь сечения.

Уравнения и неравенства

1. Решить уравнение:

а) $\left(\frac{1}{5}\right)^{2-3x} = 25$;

б) $3^{x-1} - 3^x + 3^{x+1} = 63$;

в) $0,2^{x^2+4x-5} = 1$

г) $4^x + 2^x - 20 = 0$; д) $(\sqrt{10})^x = 10^{x^2-x}$

2. Решить неравенство:

а) $7^{x-2} > 49$; б) $\left(\frac{3}{4}\right)^x > 1\frac{1}{3}$; в) $9^x - 3^x - 6 > 0$; г) $(\sqrt{5})^{x-6} < \frac{1}{5}$; д) $\left(\frac{2}{13}\right)^{x^2-1} \geq 1$.

Объем и площадь поверхности

1. В правильной четырехугольной пирамиде боковое ребро образует с плоскостью основания угол 45° . Сторона основания пирамиды равна 6 см. Найдите объем пирамиды.

2. Найдите объем и площадь поверхности тела, полученного при вращении прямоугольного треугольника с катетом 6 см и гипотенузой 10 см вокруг большего катета.

3. Площадь полной поверхности прямоугольного параллелепипеда, в основании которого прямоугольник со сторонами 9 см и 6 см, равна 408 см^2 . Найдите объем параллелепипеда.

4. Три одинаковых металлических куба с ребрами по 4 см сплавлены в один куб. Определите полную поверхность этого куба и его массу, если плотность металла равна $8,4 \text{ г/см}^3$.

5. Сколько шариков диаметром 2 см можно отлить из металлического куба с ребром 4 см?

Элементы теории вероятности

1. В коробке лежат 6 яблок и 14 груш. Какова вероятность того, что взятый наудачу оттуда фрукт окажется яблоком?

2. В партии из 23 деталей находятся 10 бракованных. Вынимают из партии наудачу две детали. Определить, какова вероятность того, что хотя бы одна из взятых деталей окажется бракованной.

3. Из 60 вопросов, входящих в экзаменационные билеты, студент подготовил 50. Какова вероятность того, что взятый наудачу студентом билет, содержащий 2 вопроса, будет состоять из подготовленных им вопросов?

4. В ящике 5 апельсинов и 4 яблока. Наудачу выбираются один за другим 2 фрукта. Какова вероятность, что оба фрукта – апельсины?

Математический диктант

Тема: Теорема о трех перпендикулярах

1. Закончите предложения:

а) Перпендикуляром, опущенным из данной точки на данную плоскость, называется _____ (отрезок, проведённый из данной точки к данной плоскости, и лежащий на прямой, перпендикулярной данной плоскости).

б) Основанием перпендикуляра называется _____ (точка пересечения перпендикуляра и плоскости).

в) Расстоянием между прямой и плоскостью называется _____ (расстояние от произвольной точки прямой до плоскости).

г) Наклонной, проведенной из данной точки к данной плоскости, называется _____ (отрезок, проведённый из данной точки к данной плоскости, и не являющийся перпендикуляром).

д) Основанием наклонной называется _____ (точка пересечения наклонной и плоскости).

е) Проекцией наклонной на плоскость называется _____ (отрезок, соединяющий основание перпендикуляра и основание наклонной).

ж) Теорема о трех перпендикулярах: _____ (прямая, проведённая в плоскости через основание наклонной перпендикулярно к её проекции на эту плоскость, перпендикулярна и самой наклонной).

2. Может ли наклонная быть короче перпендикуляра, проведенного из той же точки и к той же плоскости? (нет)

3. Если наклонные, проведенные из одной точки к плоскости равны, то что можно сказать об их проекциях? (равны)

4. Точка А не лежит в плоскости α . Сколько наклонных заданной длины можно провести из этой точки к данной плоскости? (множество)

Тема: Призма (продолжи предложение)

1. Боковые грани призмы являются ... (параллелограммами).

2. Высота прямой призмы равна её ... (ребру).

3. Все высоты призмы ... (равны).

4. Прямоугольный параллелепипед, у которого все три измерения равны, есть ... (куб).

5. Перпендикуляр, проведенный из какой-нибудь точки одного основания призмы к плоскости другого, есть ... (высота).

6. Если боковые ребра призмы перпендикулярны к основаниям, то призма ... (прямая).

7. Если боковые ребра призмы не перпендикулярны к основаниям, то призма ... (наклонная).

8. Если в основании прямой призмы лежит правильный многоугольник, то призма ... (правильная).

9. Основания призмы лежат в плоскостях, которые являются ... (параллельными).

10. Отрезок, соединяющий две вершины, не принадлежащие одной грани, есть ... (диагональ).

Контрольная работа
Контрольная работа «Прямые и плоскости в пространстве»

Обязательная часть

При решении заданий 1-4 запишите правильный ответ из четырех предложенных.

1. (1 балл) Расшифруйте краткую запись: $a \in \beta$.
А) точка a принадлежит плоскости β ; Б) точка a принадлежит прямой β ; В) прямая a принадлежит плоскости β ; Г) прямая a пересекает плоскость β .
2. (1 балл) Прямые АВ и СД скрещиваются. Какое расположение имеют прямые АС и ВД?
А) параллельные; Б) перпендикулярные; В) скрещиваются; Г) пересекаются.
3. (1 балл) Плоскости α и β имеют 1 общую точку. Каково их взаимное расположение?
А) параллельны; Б) пересекаются по прямой; В) совпадают; Г) скрещиваются.
4. (1 балл) Если прямая, проведенная на плоскости через основание наклонной, перпендикулярна ее проекции, то она...
А) перпендикулярна и самой наклонной; Б) параллельна и самой наклонной; В) скрещивается с наклонной; Г) перпендикулярна основанию наклонной.

При выполнении заданий 5-8 запишите ход решения и полученный ответ.

5. (2 балла) Через концы отрезка АВ и его середину М проведены параллельные прямые, пересекающие некоторую плоскость в точках A_1 , B_1 и M_1 . Найдите длину отрезка MM_1 , если отрезок АВ не пересекает плоскость и если $AA_1=6,8$ см, $BB_1=7,4$ см.
6. (2 балла) Прямые АС, АВ и АД попарно перпендикулярны. Найдите отрезок СД, если $AB=5$ см, $BC=13$ см, $AD=9$ см.
7. (2 балла) Из точки к плоскости проведены две наклонные. Найдите длины общего перпендикуляра, если проекции наклонных относятся как 2:3 и длины наклонных равны 23 см и 33 см.
8. (2 балла) Начертить куб $ABCD A_1 B_1 C_1 D_1$. Построить точку $K \in AB$, точку $M \in DD_1$, отрезок $PE \in A_1 B_1 C_1$.

Дополнительная часть

При выполнении задания 9 запишите ход, обоснование решения и полученный ответ.

9. (3 балла) Разбить цветник круглой формы ($R=2$ м) на части различной площади. Рассчитать количество саженцев цветов для каждого сектора. Оформить схему цветника. Например:



Эталоны ответов:

Номер задания	1	2	3	4	5	6	7	8	9
Ответ	В	В	Б	А	7,1	15	9	-	-

Контрольная работа «Основы тригонометрии. Тригонометрические функции»

Первая часть

При решении заданий 1-4 запишите правильный ответ из четырех предложенных.

1. (1 балл) В $\triangle ABC$ $\cos C = \frac{AB}{AC}$. Какая из сторон является гипотенузой $\triangle ABC$?
А) АВ; Б) АС; В) ВС; Г) СВ.
2. (1 балл) Углом какой четверти является угол $\alpha=410^\circ$?
А) I; Б) II; В) III; Г) IV.

3. (1 балл) Какие из функций являются чётными?

А) $y=\sin x$; Б) $y=\cos x$; В) $y=\operatorname{tg} x$; Г) $y=\operatorname{ctg} x$.

4. (1 балл) Период функции $y=\sin x$?

А) $\pi/2$; Б) 2π ; В) 4π ; Г) π .

Вторая часть

При выполнении заданий 5-10 запишите ход решения и полученный ответ.

5. (2 балла) Вычислите: $\sin \frac{\pi}{2} + \cos \frac{\pi}{2}$.

6. (2 балла) Найдите значение выражения $4\arccos \frac{\sqrt{2}}{2} - 4\arcsin(-\frac{\sqrt{2}}{2})$

7. (2 балла) Найдите значение выражения $7 \operatorname{tg} 13^\circ \cdot \operatorname{tg} 77^\circ$.

8. (2 балла) Решите уравнение $\cos x = \frac{1}{2}$. Запишите наименьший положительный корень уравнения.

9. Решите уравнение $\sin^2 x - 4 \sin x + 3 = 0$.

10. Постройте график тригонометрической функции $y=2 \sin x$

Эталоны ответов:

Номер задания	1	2	3	4	5	6	7	8	9	10
Ответ	Б	А	В	Б	1	2π	7	$\pi/3$	$\pi/2+2\pi n,$ $n \in \mathbb{Z}$	

Контрольная работа «Координаты и векторы»

Обязательная часть

При решении заданий 1-4 запишите правильный ответ из четырех предложенных.

1. (1 балл) Даны точки А(1,0,5), В(-2,0,4), С(0,-1,0), Д(0,0,2). Какие из них лежат на координатной прямой Оу?

А) А; Б) В; В) С; Г) Д.

2. (1 балл) Какие из векторов $a(1,0,-1)$, $c(1/3,2/3,-2/3)$, $v(1,1,1)$, $p(0,0,-2)$ являются единичными?

А) а; Б) с; В) в; Г) р.

3. (1 балл) Какие из векторов $a(1,2,-3)$, $c(3,6,-6)$, $v(2,4,-6)$ коллинеарны?

А) а, в; Б) с, в; В) а, с; Г) коллинеарных векторов нет.

4. (1 балл) Даны точки А(2,0,5), В(2,4,-2) С(-2,6,3). Серединой какого отрезка является точка М(0,3,4)?

А) АВ; Б) ВС; В) АС; Г) СВ.

При выполнении заданий 5-8 запишите ход решения и полученный ответ.

5. (2 балла) Даны векторы $a(-6,0,8)$, $v(-3,2,-6)$. Найдите скалярное произведение векторов.

6. (2 балла) При каких значениях n векторы $\vec{a}(4,n,2)$, $\vec{v}(1,2,n)$ перпендикулярны?

7. (2 балла) Даны векторы $a(-6,0,8)$, $v(-3,2,-6)$. Найдите косинус угла между векторами.

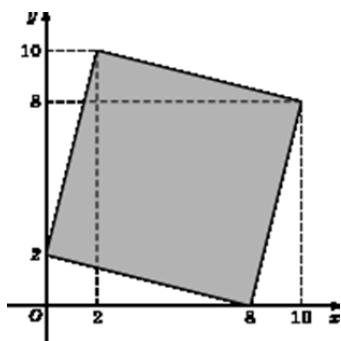
8. (2 балла) Докажите, что четырёхугольник АВСД является ромбом, если:

А(6,7,8), В(8,2,6), С(4,3,2), Д(2,8,4).

Дополнительная часть

При выполнении задания 9 запишите ход, обоснование решения и полученный ответ.

9. (3 балла) Макет клумбы представлен на координатной плоскости. Найдите площадь клумбы (четырёхугольника), вершины которого имеют координаты (8;0), (10;8), (2;10), (0;2).



Эталоны ответов:

Номер задания	1	2	3	4	5	6	7	8	9
Ответ	В	В	А	В	-30	-1	-3/7	-	68

Контрольная работа «Основы тригонометрии. Тригонометрические функции»

Обязательная часть

При решении заданий 1-4 запишите правильный ответ из четырех предложенных.

- (1 балл) В $\triangle ABC$ $\sin C = \frac{AB}{AC}$. Какая из сторон является гипотенузой $\triangle ABC$?
А) АВ; Б) АС; В) ВС; Г) СВ.
- (1 балл) Углом какой четверти является угол $\alpha = 400^\circ$?
А) I; Б) II; В) III; Г) IV.
- (1 балл) Какие из функций являются чётными?
А) $y = \sin x$; Б) $y = \cos x$; В) $y = \operatorname{tg} x$; Г) $y = \operatorname{ctg} x$.
- (1 балл) Какие из чисел являются корнем уравнения $\cos x = \frac{1}{2}$?
А) $x = \frac{\pi}{6}$; Б) $x = \frac{\pi}{3}$; В) $x = \frac{\pi}{2}$; Г) $x = \frac{2\pi}{3}$.

При выполнении заданий 5-8 запишите ход решения и полученный ответ.

- (2 балла) Вычислите: $\sin \frac{\pi}{2} + \cos \frac{\pi}{2}$.
- (2 балла) Найдите значение выражения $4 \arccos \frac{\sqrt{2}}{2} - 4 \arcsin(-\frac{\sqrt{2}}{2})$.
- (2 балла) Докажите тождество: $2 \sin(\pi/2 + \alpha) + \cos(\pi - \alpha) = \cos \alpha$.
- (2 балла) Решите уравнение: $\sin^2 x - 4 \sin x + 3 = 0$.

Дополнительная часть

При выполнении задания 9 запишите ход, обоснование решения и полученный ответ.

- (3 балла) Решите систему уравнений:

$$\begin{cases} x + y = \pi \\ \sin x + \sin y = 2. \end{cases}$$

Эталоны ответов:

Номер задания	1	2	3	4	5	6	7	8	9
Ответ	Б	А	В	Б	1	2π	-	$\frac{\pi}{2} + 2\pi n,$ $n \in \mathbb{Z}$	$(\frac{\pi}{2} + 2\pi n; \frac{\pi}{2} + 2\pi n), n \in \mathbb{Z}$

Контрольная работа «Производная функции, ее применение»

Обязательная часть

При решении заданий 1-4 запишите правильный ответ из четырех предложенных.

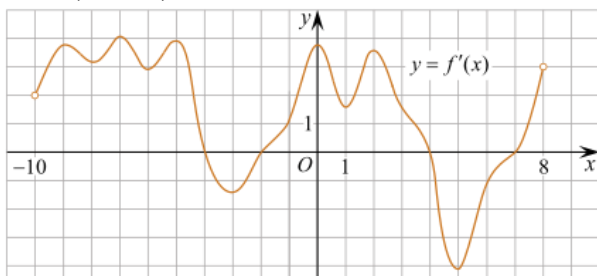
- (1 балл) Чему равна производная функции $y = \cos^2 x$?
А) $y' = -\sin^2 x$; Б) $y' = -2 \sin^2 x$; В) $y' = -2 \cos x \sin x$; Г) $y' = 2 \cos x$.
- (1 балл) По какой из формул вычисляется производная произведения?

А) $(u+v)'=u'+v'$; Б) $(uv)'=u'v+uv'$; В) $\left(\frac{u}{v}\right)' = \frac{u'v-uv'}{v^2}$; Г) $(f(g(x)))'=f'(g(x))*g'(x)$.

3. (1 балл) Решите уравнение $f'(x)=0$, если $f(x)=3x^2 - 6x + 4$. Выберите ответ.

А) 1; Б) -1; В) 4; Г) -4.

4. (1 балл) На рисунке изображен график производной функции $f(x)$, определенной на интервале $(-10; 8)$. Найдите количество точек максимума функции $f(x)$ на отрезке $[-9; 6]$.

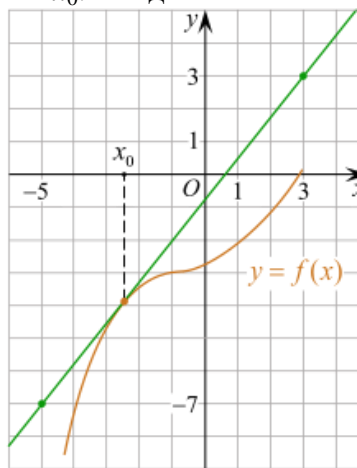


А) 5; Б) 4; В) 2; Г) 3.

При выполнении заданий 5-8 запишите ход решения и полученный ответ.

5. (2 балла) Материальная точка движется прямолинейно по закону $x(t) = -t^4 + 6t^3 - 4t^2 + 5t - 5$ (где x – расстояние от точки отсчета в метрах, t – время в секундах, измеренное с начала движения). Найдите ее скорость (в м/с) в момент времени $t = 3$ с.

6. (2 балла) На рисунке изображён график функции $y = f(x)$ и касательная к нему в точке с абсциссой x_0 . Найдите значение производной функции $f(x)$ в точке x_0 .



7. (2 балла) Решите неравенство: $\frac{(x-2)(x+3)}{(x-8)} > 0$

8. (2 балла) Исследовать функцию $f(x)=x^3 - 3x$ и построить её график.

Дополнительная часть

При выполнении задания 9 запишите ход, обоснование решения и полученный ответ.

9. (3 балла) Фирме «Садовод» выделяют участок земли площадью 100 м^2 . Предлагают четыре участка разных размеров: 25×4 ; 20×5 ; $12,5 \times 8$; 10×10 . Какой участок одобрит директор фирмы «Садовод», учитывая, что необходимо будет поставить забор по периметру?

Эталоны ответов:

Номер задания	1	2	3	4	5	6	7	8	9
Ответ	В	Б	А	В	8	1,25	$(-3; 2), (8; +\infty)$	-	10×10

Контрольная работа «Многогранники и тела вращения»

Обязательная часть

При решении заданий 1-4 запишите правильный ответ из четырех предложенных.

1. (1 балл) В каких единицах измеряется площадь поверхности многогранника?

А) в градусах; Б) в метрах; В) в квадратных метрах; Г) в двугранных градусах.

2. (1 балл) Площадь боковой поверхности призмы вычисляется по формуле:

А) $S = S_{\text{бок}} + 2 S_{\text{осн.}}$; Б) $S_{\text{бок}} = P_{\text{осн}} \cdot H$; В) $S = S_{\text{бок}} + S_{\text{осн.}}$; Г) $S_{\text{бок}} = 2P_{\text{осн}} \cdot H$.

3. (1 балл) Что является осевым сечением усеченного конуса?

А) равнобедренный треугольник; Б) равнобедренная трапеция; В) прямоугольник; Г) прямоугольная трапеция.

4. (1 балл) Какая фигура получается при вращении прямоугольного треугольника вокруг одного из своих катетов?

А) конус; Б) усеченный конус; В) пирамида; Г) усеченная пирамида.

При выполнении заданий 5-8 запишите ход решения и полученный ответ.

5. (2 балла) Ребро основания правильной треугольной пирамиды 3 м, апофема 6м. Найдите площадь боковой поверхности пирамиды.

6. (2 балла) Диагональ куба равна $\sqrt{588}$. Найдите его объем.

7. (2 балла) Прямоугольник со сторонами 8см и 3см вращается вокруг большей стороны. Найдите объем, площади боковой и полной поверхностей полученного тела.

8. (2 балла) Вычислить поверхность кроны кустарника, имеющего форму шара радиуса 0,5 м. В ответ запишите число, деленное на π .

Дополнительная часть

При выполнении задания 9 запишите ход, обоснование решения и полученный ответ.

9. (3 балла) Создать модель клумбы, имеющей форму комбинированного геометрического тела, выполнить необходимые расчеты (площадь, объем, количество и виды саженцев).

Предполагаемые модели клумб:



Эталоны ответов:

Номер задания	1	2	3	4	5	6	7	8	9
Ответ	В	Б	Б	А	27	2744	72 π ; 48 π ; 64 π	1	-

Контрольная работа «Первообразная функции, ее применение»

Обязательная часть

При решении заданий 1-4 запишите правильный ответ из четырех предложенных.

1. (1 балл) Для какой из функций функция $F(x)=x^3-3x^2+1$ является первообразной?

А) $f(x)=3(x^2-2)$; Б) $f(x)=3x(x^2-2)$; В) $f(x)=3x^2-6x+1$; Г) $f(x)=3x^2-6x$.

2. (1 балл) Дана функция $f(x)=3x^2+1$. Чему равна $F(1)$

А) 2; Б) 4; В) 6; Г) $1\frac{1}{3}$.

3. (1 балл) Общий вид всех первообразных для $f(x)=\sin x$?

А) $F(x)=\cos x+C$; Б) $F(x)=-\cos x+C$; В) $F(x)=\operatorname{tg} x+C$; Г) $F(x)=-\operatorname{tg} x+C$.

4. (1 балл) Вычислите определенный интеграл $\int_1^2 x dx$.

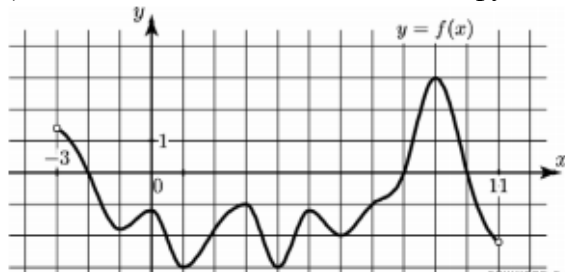
А) -1; Б) 1; В) -1,5; Г) 1,5.

При выполнении заданий 5-8 запишите ход решения и полученный ответ.

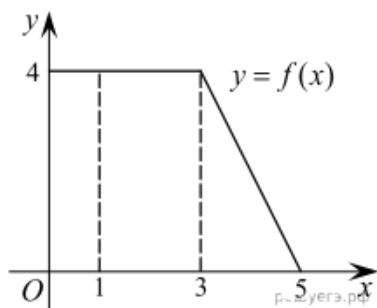
5. (2 балла) Является ли $F(x)=x^3-3x+1$ первообразной для функции $f(x)=3(x^2-1)$?

6. (2 балла) Задайте первообразную $F(x)$ для функции $f(x)=3x^2-2x$, если известны координаты точки $M(1, 4)$ графика $F(x)$.

7. (2 балла) На рисунке изображен график функции $y=f(x)$, определённой на интервале $(-3; 11)$. Найдите наименьшее значение функции $f(x)$ на отрезке $[2; 9,5]$.



8. (2 балла) На рисунке изображен график некоторой функции $y=f(x)$. Пользуясь рисунком, вычислите определенный интеграл $\int_1^5 f(x)dx$.



Дополнительная часть

При выполнении задания 9 запишите ход, обоснование решения и полученный ответ.

9. (3 балла) Вычислить площадь клумбы, периметр которой ограничивают линии $y=0$, $y=x$, $y=-2x+6$. Решить двумя способами. Сделать чертеж.

Эталоны ответов:

Номер задания	1	2	3	4	5	6	7	8	9
Ответ	Г	А	Б	Г	да	x^3-x^2+4	-3	12	3

Контрольная работа «Степени и корни. Степенная функция»

Обязательная часть

При решении заданий 1-4 запишите правильный ответ из четырех предложенных.

1. (1 балл) Между какими двумя натуральными числами находится число $\sqrt[3]{19}$?

А) 19 и 20; Б) 2 и 3; В) 18 и 19; Г) 3 и 4.

2. (1 балл) Определите корень уравнения $x^3=125$

А) 3.; Б) -3; В) -5; Г) 5.

3. (1 балл) Расположите в порядке возрастания числа: 2; $\sqrt[3]{5}$; $\sqrt[4]{17}$

А) 2; $\sqrt[3]{5}$; $\sqrt[4]{17}$; Б) 2; $\sqrt[4]{17}$; $\sqrt[3]{5}$; В) $\sqrt[3]{5}$; 2; $\sqrt[4]{17}$; Г) $\sqrt[4]{17}$; 2; $\sqrt[3]{5}$.

4. (1 балл) Умножая числа с одинаковым основанием, их степени...?

А) умножаем; Б) делим; В) складываем; Г) отнимаем.

При выполнении заданий 5-8 запишите ход решения и полученный ответ.

5. (2 балла) Найдите значение выражения $\frac{a^{5,58} \cdot a^{2,9}}{a^{6,48}}$ при $a=7$.

$$\frac{(\sqrt{12} + \sqrt{8})^2}{10 + \sqrt{96}}$$

6. (2 балла) Найдите значение выражения

7. (2 балла) Расстояние от наблюдателя, находящегося на небольшой высоте h километров над землёй, до наблюдаемой им линии горизонта вычисляется по формуле $l = \sqrt{2Rh}$, где $R=6400$ км – радиус Земли. С какой высоты горизонт виден на расстоянии 48 километров? Ответ выразите в километрах.

8. (2 балла) Решите уравнение $\sqrt{-32 - x} = 2$.

Дополнительная часть

При выполнении задания 9 запишите ход, обоснование решения и полученный ответ.

9. (3 балла) Решите графически систему уравнений: $\begin{cases} y = \sqrt{x} \\ y = x \end{cases}$

Эталоны ответов:

Номер задания	1	2	3	4	5	6	7	8	9
Ответ	Б	Г	В	В	49	2	0,18	-36	(1; 1)

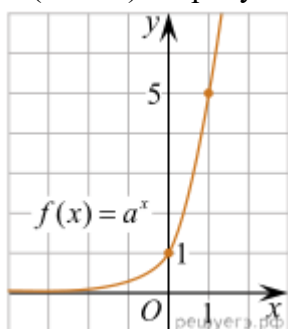
Контрольная работа «Показательная функция»

Обязательная часть

При решении заданий 1-4 запишите правильный ответ из четырех предложенных.

1. (1 балл) При каком значении a функция $y=a^x$ бывает на всей области определения?
 А) $a=\frac{4}{3}$; Б) $a=8,25$; В) $a=\frac{1}{8}$; Г) $a=\sqrt{3}$.

2. (1 балл) На рисунке изображён график функции вида $f(x)=a^x$. Найдите значение $f(2)$.



А) 25.; Б) 5; В) 32; Г) нет верного ответа.

3. (1 балл) Функция задана формулой: $f(x)=(\frac{1}{2})^x$. Чему равно $f(-2)$?

А) $\frac{1}{4}$; Б) -4; В) 4; Г) $\sqrt{2}$.

4. (1 балл) Корень уравнения $(\frac{1}{9})^{x-13} = 3$?

А) 12,5; Б) 13; В) 14; Г) 15.

При выполнении заданий 5-8 запишите ход решения и полученный ответ.

5. (2 балла) Найдите корень уравнения $3^{x+2} - 5 \cdot 3^x = 12$

6. (2 балла) Сколько целых решений имеет неравенство $1 < 7^{x-1} \leq 49$?

7. (2 балла) Найдите точку максимума функции $y = 2^{5-8x-x^2}$.

8. (2 балла) В ходе распада радиоактивного изотопа его масса уменьшается по закону $m(t) = m_0 \cdot 2^{-t/T}$, где m_0 – начальная масса изотопа, t – время, прошедшее от начального момента, T – период полураспада. В начальный момент времени масса изотопа 184 мг. Период его полураспада составляет 7 мин. Найдите, через сколько минут масса изотопа будет равна 23 мг.

Дополнительная часть

При выполнении задания 9 запишите ход, обоснование решения и полученный ответ.

9. (3 балла) Решите графически систему уравнений: $\begin{cases} y - 2x = 0 \\ y - 2^x = 0 \end{cases}$.

Эталоны ответов:

Номер задания	1	2	3	4	5	6	7	8	9
Ответ	В	А	В	А	1	2	-4	21	(2; 4)

Контрольная работа «Логарифмы. Логарифмическая функция»

Обязательная часть

При решении заданий 1-4 запишите правильный ответ из четырех предложенных.

1. (1 балл) Какая из функций возрастает на всей области определения?

А) $f(x)=\log_5 x$; Б) $f(x)=0,7^x$; В) $f(x)=x^2$; Г) $f(x)=\log_{\frac{1}{2}} x$.

2. (1 балл) Укажите область определения функции $f(x) = \lg \frac{2x-3}{x+7}$

А) $(-7; 1,5)$; Б) $(-\infty; -1,5)$, $(7; +\infty)$; В) $(-1,5; 7)$; Г) $(-\infty; -7)$, $(1,5; +\infty)$.

3. (1 балл) Расположить в порядке возрастания: $\log_{0,5} 4$; $\log_{0,5} 0,4$; $\log_{0,5} \frac{1}{4}$.

А) $\log_{0,5} 4$; $\log_{0,5} 0,4$; $\log_{0,5} \frac{1}{4}$; Б) $\log_{0,5} 4$; $\log_{0,5} \frac{1}{4}$; $\log_{0,5} 0,4$;

В) $\log_{0,5} \frac{1}{4}$; $\log_{0,5} 0,4$; $\log_{0,5} 4$; Г) $\log_{0,5} 0,4$; $\log_{0,5} \frac{1}{4}$; $\log_{0,5} 4$.

4. (1 балл) Найдите корень уравнения $\log_4(5-x) = 2$.

А) 11; Б) -11; В) -3; Г) 3.

При выполнении заданий 5-8 запишите ход решения и полученный ответ.

5. (2 балла) Определите значение выражения $\log_6 2 + \log_6 3 + 2^{\log_2 4}$.

6. (2 балла) Укажите наименьшее целое решение неравенства:

$$\log_3(6x - 4) > 2.$$

7. (2 балла) Найдите точку максимума функции $y = 8 \ln(x + 7) - 8x + 3$.

8. (2 балла) Для обогрева помещения, температура в котором поддерживается на уровне $T_{\Pi}=15^{\circ}$ через радиатор отопления пропускают горячую воду. Расход проходящей через трубу радиатора воды $m = 0,6$ кг/с. Проходя по трубе расстояние x , вода охлаждается от начальной

температуры $T_{\text{в}}=91^{\circ}$ до температуры T , причём $x = \alpha \frac{cm}{\gamma} \log_2 \frac{T_{\text{в}} - T_{\Pi}}{T - T_{\Pi}}$, где $c = 4200 \frac{\text{Вт} \cdot \text{с}}{\text{кг} \cdot ^{\circ}\text{C}}$

$\gamma = 28 \frac{\text{Вт}}{\text{м} \cdot ^{\circ}\text{C}}$ – теплоёмкость воды, γ – коэффициент теплообмена, а $\alpha = 0,8$ – постоянная. Найдите, до какой температуры (в градусах Цельсия) охладится вода, если длина трубы радиатора равна 144 м.

Дополнительная часть

При выполнении задания 9 запишите ход, обоснование решения и полученный ответ.

9. (3 балла) Решите графически систему уравнений: $\begin{cases} y + 2x = \log_3 135 - \log_3 5 \\ 2y - 3x = 6 \end{cases}$.

Эталоны ответов:

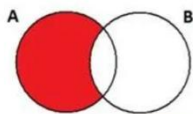
Номер задания	1	2	3	4	5	6	7	8	9
Ответ	А	Г	А	Б	5	3	-6	34	(0; 3)

Контрольная работа «Множества. Элементы теории графов»

Обязательная часть

При решении заданий 1-4 запишите правильный ответ из четырех предложенных.

1. (1 балл) Какая операция изображена на кругах Эйлера?



А) $E = A \cup B$; Б) $E = A \cap B$; В) $E = A \setminus B$; Г) $E = A - B$.

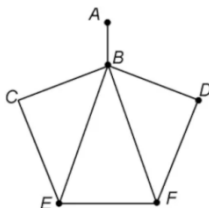
2. (1 балл) Какой граф представлен?

А) полный; Б) неполный; В) ДЕРЕВО; Г) нулевой.

3. (1 балл) Пятеро рабочих встретились при высадке цветов в клумбы. Сколько всего было сделано рукопожатий

А) 10; Б) 11; В) 5; Г) 6.

4. (1 балл) Определите степень вершины В:



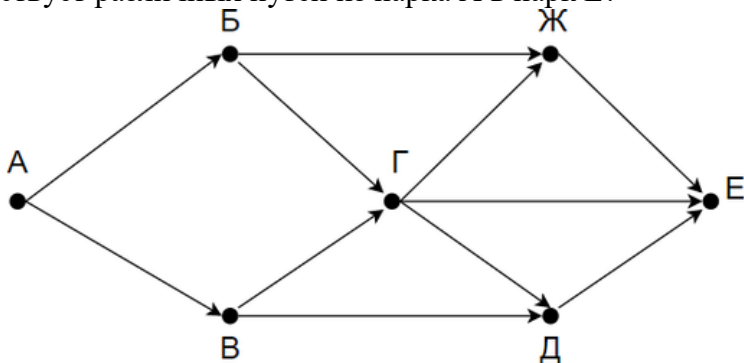
А) 8; Б) 11; В) 3; Г) 5.

При выполнении заданий 5-8 запишите ход решения и полученный ответ.

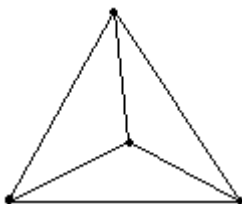
5. (2 балла) 1. Даны два множества $A = \{2, 4, 6, 8, 10, 12\}$, $B = \{3, 6, 9, 12\}$. Запишите и изобразите графически новое множество E : а) $E = A \cup B$; б) $E = A \cap B$.

6. (2 балла) Колины друзья занимаются каким-нибудь видом спорта. 14 из них увлекаются футболом, а 10 – баскетболом. И только двое увлекаются и тем и другим видом спорта. Сколько друзей у Толи?»

7. (2 балла) На рисунке – схема дорог, связывающих городские парки А, Б, В, Г, Д, Е. По каждой дороге можно двигаться только в одном направлении, указанном стрелкой. Сколько существует различных путей из парка А в парк Е?



8. (2 балла) Можно ли нарисовать изображенный на рисунке граф не отрывая карандаш от бумаги и проводя каждое ребро ровно один раз?



Дополнительная часть

При выполнении задания 9 запишите ход, обоснование решения и полученный ответ.

9. (3 балла) Первую или вторую контрольные работы по математике успешно написали

33 студента, первую или третью – 31 студент, вторую или третью – 32 студента. Не менее двух контрольных работ выполнили 20 студентов. Сколько студентов успешно решили только одну контрольную работу?

Эталоны ответов:

Номер задания	1	2	3	4	5	6	7	8	9
Ответ	В	Б	10	Г	-	22	8	нет	18

Контрольная работа «Элементы комбинаторики, статистики и теории вероятностей»

Обязательная часть

При решении заданий 1-4 запишите правильный ответ из четырех предложенных.

1. (1 балл) Комбинаторика – это раздел математики, отвечающий на вопросы сколькими способами можно выбрать элементы ...

А) заданного конечного множества; Б) бесконечного множества; В) любого множества; Г) иррациональных чисел.

2. (1 балл) Соединения из n элементов, отличающиеся друг от друга только порядком расположения в них элементов, называются:

А) перестановками; Б) сочетаниями; В) размещениями; Г) комбинациями.

3. (1 балл) Число всех возможных размещений вычисляется по формуле:

А) $A_n^m = n(n - m)$; Б) $A_n^m = n(n - 1) \dots (n - m + 1)$; В) $A_n^m = \frac{n!}{(n-m)!}$; Г) $A_n^m = n(n + m)$

4. (1 балл) Группировка – это...

А) упорядочение единиц совокупности по признаку; Б) разбиение единиц совокупности на группы по признаку; В) обобщение единичных фактов; Г) обобщение единичных признаков.

При выполнении заданий 5-8 запишите ход решения и полученный ответ.

5. (2 балла) В среднем из 2000 садовых насосов, поступивших в продажу, 6 подтекают. Найдите вероятность того, что один случайно выбранный для контроля насос не подтекает?

6. (2 балла) Сравнить всхожесть семян любых трех видов однолетних цветов за последние 3 года. Составить диаграмму по найденным данным. Сделать выводы.

7. (2 балла) Цветоводу предложили украсить клумбу цветами, используя 3 вида. Сколько различных вариантов есть у цветовода, если есть выбор из 5 видов разной рассады?

8. (2 балла) Сколькими способами можно посадить 4 кустарника в один ряд?

Дополнительная часть

При выполнении задания 9 запишите ход, обоснование решения и полученный ответ.

9. (3 балла) Чтобы поступить в институт на специальность «Мастер садово-паркового и ландшафтного строительства», абитуриент должен набрать на ЕГЭ не менее 70 баллов по каждому из трёх предметов – математика, русский язык и иностранный язык. Чтобы поступить на специальность «Коммерция», нужно набрать не менее 70 баллов по каждому из трёх предметов – математика, русский язык и обществознание.

Вероятность того, что абитуриент З. получит не менее 70 баллов по математике, равна 0,6, по русскому языку – 0,8, по иностранному языку – 0,7 и по обществознанию – 0,5.

Найдите вероятность того, что З. сможет поступить хотя бы на одну из двух упомянутых специальностей.

Эталоны ответов:

Номер задания	1	2	3	4	5	6	7	8	9
Ответ	А	А	В	А	0,997	-	10	24	0,408

Контрольная работа «Уравнения и неравенства»

Обязательная часть

При решении заданий 1-4 запишите правильный ответ из четырех предложенных:

1. (1 балл) Какое из чисел является корнем уравнения $\log_2(x+1) = 1$

А) -1; Б) 2; В) 1; Г) 0.

2. (1 балл) Какие из уравнений имеют более одного корня?

А) $x^2 - 6x + 5 = 0$; Б) $3^{x+2} = 9$; В) $(x-4)(x+3)(x-8) = 0$; Г) $2x - 7 = 0$.

3. (1 балл) Определите вид уравнения $\sqrt{-32 - x} = 2$.

А) линейное; Б) квадратное; В) иррациональное; Г) рациональное.

4. (1 балл) Определите наименьшее целое решение неравенства $5^{x+2} < 1$?

А) -3; Б) 0; В) 3; Г) -4.

При выполнении заданий 5-8 запишите ход решения и полученный ответ.

5. (2 балла) Найдите корень уравнения $|x-3| = 2$

6. (2 балла) Решите систему уравнений $\begin{cases} x - y = 8, \\ 2^{x-3y} = 16. \end{cases}$

$$\frac{2x^2 - 5x}{x - 3} \leq x.$$

7. (2 балла) Решите неравенство

8. (2 балла) Решите уравнение $(2x - 3)\sqrt{3x^2 - 5x - 2} = 0$

Дополнительная часть

При выполнении задания 9 запишите ход, обоснование решения и полученный ответ.

9. (3 балла) Решите уравнение $2 \sin^2 x - \sqrt{3} \cos\left(\frac{\pi}{2} - x\right) = 0$. Укажите корни этого

уравнения, принадлежащие отрезку $\left[\frac{3\pi}{2}; 3\pi\right]$.

Эталоны ответов:

Номер задания	1	2	3	4	5	6	7	8	9
Ответ	В	А, В	В	А	1; 5	(10; 2)	$(-\infty; 0] \cup [2; 3)$	-1; 6	$2\pi, \frac{7\pi}{3}, \frac{8\pi}{3}, 3\pi$.

Темы творческих работ

1. Роль и место математики в современном мире.
2. Математика и медицина (тесная связь).
3. Пропорции и проценты в медицине. (Проценты в нашей жизни)
4. Применение математических методов в профессиональной деятельности медицинских работников.
5. Математические задачи в медицине. (примеры задач и их решение)
6. Математические таблицы и графики в медицине
7. Сестринское дело и множества чисел.
8. Медицина и комбинаторика. (Медицина и теория вероятности.)
9. Медицина и геометрия. (Медицина и планиметрия. Медицина и стереометрия.)
10. Теория граф в медицине.
11. Из истории математики и медицины.
12. Вычисление дифференциала. Приложение дифференциала к приближенным вычислениям значений функции.
13. Применение определенного интеграла к вычислению различных величин.
14. Дифференциальные уравнения и их применение в медицинской практике.
15. Применение статистических методов в социально-гигиенических и медико-биологических исследованиях.
16. Практическое применение статистических показателей оценки деятельности для вычисления показателей здоровья населения и деятельности ЛПУ (ФАП).
17. Анализ статистических показателей оценки деятельности поликлиники и стационара.
18. Газообмен в легких. Жизненная емкость легких. Показатели сердечной деятельности.
19. Оценка пропорциональности развития ребенка (расчет прибавки роста, массы, питания детей, антропометрические индексы).
20. Санитарная (медицинская) статистика – отрасль статистической науки.

21. Перепись населения.
22. Национальный проект «Здоровье».
23. Демографическая ситуация в стране и мире.
24. Использование математики в профессиональной деятельности медицинских работников среднего звена.
25. Математическая статистика и ее роль в медицине и здравоохранении.
26. Примеры функциональных зависимостей в реальных процессах и явлениях.

Темы индивидуальных проектов

1. Быстрый счет без калькулятора.
2. Галерея числовых диковинок.
3. Живая природа и симметрия.
4. Задачи на клетчатой бумаге. Формула Пика.
5. Знакомое и незнакомое магическое число π .
6. Исследование математических способностей.
7. Королева математики
8. Красивые и быстрые способы вычислений
9. Криптограммы — тайнопись прошлого, настоящего и будущего.
10. Ловкий циркуль
11. Математика в моей будущей профессии.
12. Сокращенное деление с помощью схемы Горнера.
13. Числа Пифагора и красота мира.
14. Эти удивительные кватернионы.
15. Кубик Рубика – гимнастика ума.
16. Математики и математика в годы Великой Отечественной войны.
17. Леонардо Эйлер и его достижения в математике.
18. Применение алгоритма Евклида.
19. Основные методы решения тригонометрических уравнений.
20. Тригонометрия в окружающем нас мире и жизни человека.
21. Теория графов и её применение.
22. Проценты в нашей жизни.
23. Иррациональные числа.
24. Обратные тригонометрические функции.
25. Графики тригонометрических функций: секанс, косеканс.
26. Графики функций, содержащих модуль.
27. Полярные координаты на плоскости.
28. Звёздчатые многогранники.
29. Математика в музыке.
30. Оригами + геометрия = оригаметрия.
31. Любимый город в числах и задачах.
32. Геометрия Лобачевского.
33. Софизмы и парадоксы.
34. Математические головоломки.
35. Способы доказательства теоремы Пифагора.
36. Фракталы: геометрия красоты.
37. Круги Эйлера.
38. Комплексные числа и их применение.
39. Загадки ленты Мёбиуса.
40. Архимедовы тела.
41. Магический квадрат — магия или наука?
42. Диофантовы уравнения.
43. Метод математической индукции как эффективный метод доказательства гипотез.

44. Циклоида - загадка математики и природы.
45. Симметрия в математике и архитектуре.
46. Замечательные кривые.
47. Парадоксы теории множеств.
48. Математическая логика – язык математики.
49. Применение сложных процентов в экономических расчетах.
50. Параллельное проектирование.
51. Правильные и полуправильные многогранники.
52. Конические сечения и их применение в технике.
53. Графическое решение уравнений и неравенств
54. Системы счисления народов мира.
55. Системы мер длин различных стран.
56. Системы мер площадей различных стран.
57. Системы мер объемов различных стран.
58. Старинные меры длин, площадей и объемов в России.
59. Русские меры длины в пословицах и поговорках.
60. Русские меры площадей в пословицах и поговорках.
61. Русские меры объемов в пословицах и поговорках.
62. Денежные единицы и разменная валюта стран мира.
63. Тройская система мер для драгоценных камней: карат, гран, унция.
64. Приставки системы СИ и множители для кратных и дольных единиц.

Критерии оценки компьютерного тестирования:

При проведении текущего контроля успеваемости в виде тестирования количество вопросов для студента - 30. Вопросы для студентов выдаются случайным образом, поэтому одновременно студенты отвечают на разнообразные по уровню сложности тестовые задания следующего типа: выбор одного правильного ответа; выбор нескольких правильных ответов. На выполнение заданий отводится 40 минут.

Знания студентов оцениваются по пятибалльной системе.

Количество правильных ответов:

85-100% - отлично,

70-84% - хорошо,

50-69% - удовлетворительно,

0-49% - неудовлетворительно.

Критерии оценивания практических работ:

При подготовке к практической работе рекомендуется использовать конспекты лекций, учебно-методическое и информационное обеспечение дисциплины. Каждое задание практической работы оценивается по пяти балльной шкале:

Оценка «отлично» выставляется при соблюдении следующих условий: студент выполняет практические задачи в полном объеме, отвечает на все поставленные в практической задаче вопросы, выполняет все задания практической задачи.

Оценка «хорошо» выставляется по следующим критериям: студент допускает в решении практической задачи незначительные неточности; правильно применены теоретические знания.

Оценка «удовлетворительно» выставляется по следующим критериям: допускает в решении практической задачи значительные неточности, в том числе неточно применены теоретические знания.

Оценка «неудовлетворительно» выставляется по следующим критериям: студент не выполняет задания практической задачи, ответы содержат существенные ошибки.

Критерии оценки промежуточной аттестации:

Знания студентов оцениваются по пятибалльной системе.

5 «отлично» - глубоко и прочно усвоен весь программный материал; последовательно и точно построена речь; отсутствуют затруднения с ответами на дополнительные или

уточняющие вопросы;

4 «хорошо» - усвоен весь программный материал; в речи имеются незначительные неточности; правильно применены теоретические знания; на большинство дополнительных или уточняющих вопросов дан ответ;

3 «удовлетворительно» - усвоена основная часть программного материала; речь не содержит «деталей»; недостаточно-правильные формулировки; на большинство дополнительных или уточняющих вопросов испытываются затруднения в ответе;

2 «неудовлетворительно» - не усвоена значительная часть программного материала; ответ содержит существенные ошибки.

В ходе оценивания могут быть учтены личностные результаты.

5. ОСОБЕННОСТИ РЕАЛИЗАЦИИ ДИСЦИПЛИНЫ ДЛЯ ИНВАЛИДОВ И ЛИЦ С ОГРАНИЧЕННЫМИ ВОЗМОЖНОСТЯМИ ЗДОРОВЬЯ

В случае обучения в колледже лиц с ограниченными возможностями здоровья учитываются особенности психофизического развития, индивидуальные возможности и состояние здоровья таких обучающихся.

Образование обучающихся с ограниченными возможностями здоровья может быть организовано как совместно с другими обучающимися, так и в отдельных группах.

Обучающиеся из числа лиц с ограниченными возможностями здоровья обеспечены печатными и (или) электронными образовательными ресурсами в формах, адаптированных к ограничениям их здоровья.

Обучение инвалидов осуществляется также в соответствии с индивидуальной программой реабилитации инвалида (при наличии).

Для лиц с ограниченными возможностями здоровья по слуху возможно предоставление учебной информации в визуальной форме (краткий конспект лекций; тексты заданий). На аудиторных занятиях допускается присутствие ассистента, а также сурдопереводчиков и (или) тифлосурдопереводчиков. Текущий контроль успеваемости осуществляется в письменной форме: обучающийся письменно отвечает на вопросы, письменно выполняет практические задания. Доклад (реферат) также может быть представлен в письменной форме, при этом требования к содержанию остаются теми же, а требования к качеству изложения материала (понятность, качество речи, взаимодействие с аудиторией и т. д.) заменяются на соответствующие требования, предъявляемые к письменным работам (качество оформления текста и списка литературы, грамотность, наличие иллюстрационных материалов и т.д.). Промежуточная аттестация для лиц с нарушениями слуха проводится в письменной форме, при этом используются общие критерии оценивания. При необходимости время подготовки к ответу может быть увеличено.

Для лиц с ограниченными возможностями здоровья по зрению университетом обеспечивается выпуск и использование на учебных занятиях альтернативных форматов печатных материалов (крупный шрифт или аудиофайлы) а также обеспечивает обучающихся надлежащими звуковыми средствами воспроизведения информации (диктофонов и т.д.). Допускается присутствие ассистента, оказывающего обучающемуся необходимую техническую помощь. Текущий контроль успеваемости осуществляется в устной форме. При проведении промежуточной аттестации для лиц с нарушением зрения тестирование может быть заменено на устное собеседование по вопросам.

Для лиц с ограниченными возможностями здоровья, имеющих нарушения опорно-двигательного аппарата материально-технические условия университета обеспечивают возможность беспрепятственного доступа обучающихся в учебные помещения, а также пребывания в них (наличие пандусов, поручней, расширенных дверных проемов, лифтов; наличие специальных кресел и других приспособлений).

На аудиторных занятиях, а также при проведении процедур текущего контроля успеваемости и промежуточной аттестации лицам с ограниченными возможностями здоровья, имеющим нарушения опорно-двигательного аппарата могут быть предоставлены

необходимые технические средства (персональный компьютер, ноутбук или другой гаджет); допускается присутствие ассистента (ассистентов), оказывающего обучающимся необходимую техническую помощь (занять рабочее место, передвигаться по аудитории, прочитать задание, оформить ответ, общаться с преподавателем).